


1. - Completa la siguiente tabla marcando con una cruz donde corresponda:

	Plantas	Animales	Hongos
Fabrican su propio alimento			
Se alimentan de otros organismos			
Tienen clorofila			
No se desplazan			
Digieren los alimentos en su interior			
Disuelven los alimentos y los absorben			

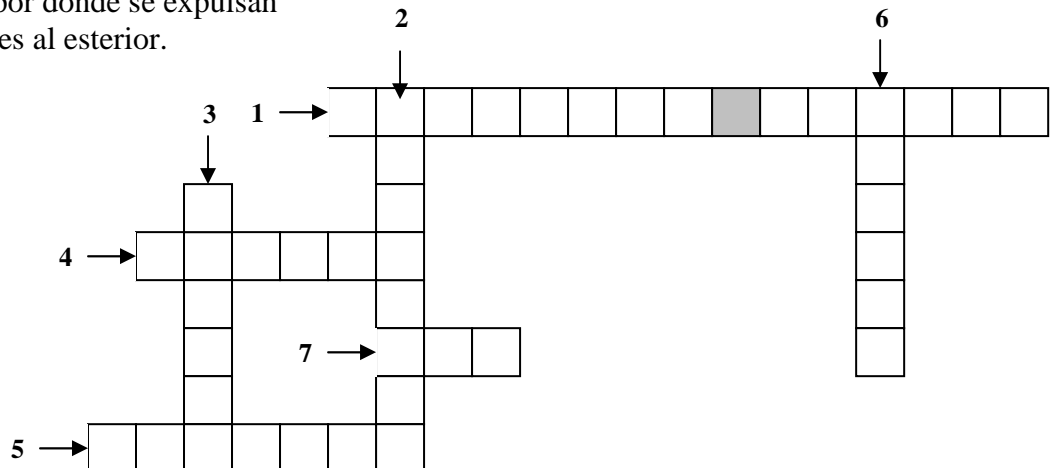
2. - ¿Qué grupos vertebrados tienen?




- Cuerpo cubierto de plumas:
- Sangre caliente:
- Son ovíparos:
- Tienen fecundación externa:
- Respiran por la piel y los pulmones: ..
- Cuerpo cubierto de escamas:
- Vejiga natatoria:
- Sacos aéreos:

3. - Completa este crucigrama: partes del aparato digestivo.

- 1 – Bolsa donde se guarda la bilis.
- 2 – Órgano donde los alimentos se mezclan con los jugos gástricos.
- 3 – órgano que segrega bilis.
- 4 – Estrechamiento que conecta el estómago con el intestino.
- 5 – Tubo que recorre el tórax.
- 6 – Lugar donde se encuentran las papilas gustativas.
- 7 – Parte por donde se expulsan las heces al exterior.





4. – Busca en la sopa de letras los **nombres** de los **mamíferos** según su alimentación y completa la frase:


A	O	D	G	V	F	J	V	J	C	E	P	J
H	M	B	H	J	O	A	M	Z	A	S	D	I
I	N	S	E	C	T	I	V	O	R	O	S	U
Q	I	F	H	B	K	V	B	E	N	W	R	G
A	V	G	T	H	N	L	D	S	I	D	F	F
Z	O	C	A	C	H	I	S	D	V	V	A	S
X	R	U	I	P	K	M	H	G	O	D	U	P
C	O	A	B	E	C	O	S	R	R	F	K	U
B	S	R	H	E	R	B	I	V	O	R	O	S
N	M	P	A	N	I	A	G	U	S	R	C	A

Los animales mamíferos, según su alimentación, pueden ser:


-
-
-
-
-

5. – **Une con flechas:**

- | | |
|-----------------|-------------------|
| Arácnidos | 10 patas |
| Miriápodos ... | 8 patas |
| Insectos | 15 pares de patas |
| Crustáceos | 6 patas |



6. – **Une con flechas:**



- | | |
|----------------|---------|
| Cáliz | Óvulos |
| Corola | Polen |
| Estambres | Sépalos |
| Ovario | Pétalos |

7. – **Une con flechas:**

- | | | |
|---------------|-------------|----------|
| Cebada | | Musgo |
| Helecho | Fanerógamas | Almendro |
| Geranio | | Peral |
| Maíz | | Pino |
| Líquenes ... | Criptógamas | Ciprés |
| Manzano ... | | Algas |




11. – Definición de:

a) Península:

b) Acantilado:


c) Albufera:

d) Marisma:

**12.** – Une con flechas:

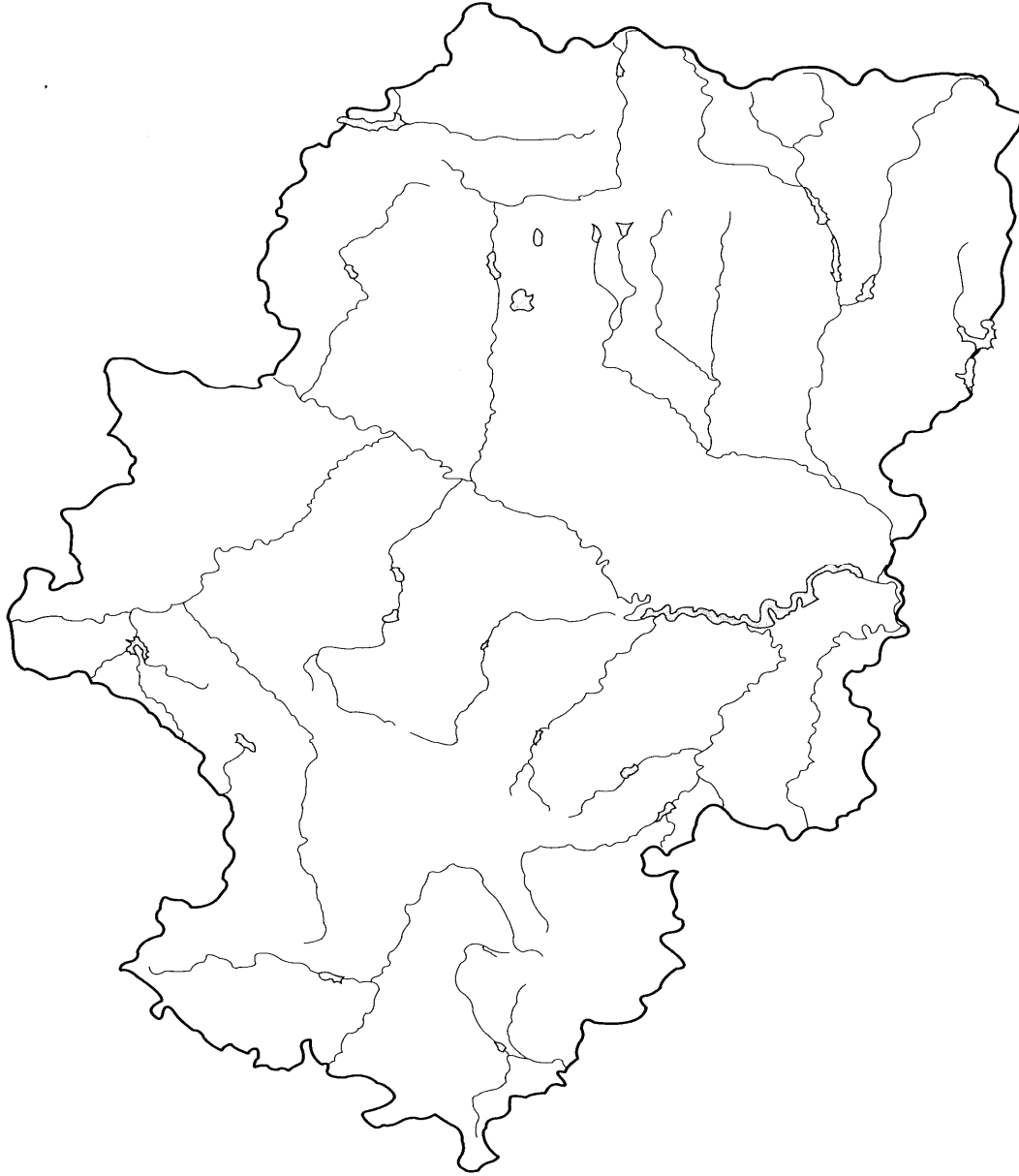
Mahoma	es la religión de los musulmanes.
La Meca	es el libro sagrado de los musulmanes.
El Corán	era la máxima autoridad política y religiosa del Islam.
El Islam	es un lugar de peregrinación de los musulmanes.
El califa	predicó la religión musulmana.
Mezquitas	grandes iglesias construidas por los cristianos.
Catedrales	edificios donde vivía una comunidad de frailes o monjas
Monasterios	edificios religiosos de los musulmanes.


13. – Dibuja y colorea la **bandera** y el **escudo** de Aragón.



14. - Sitúa los nombres de las principales unidades del relieve de Aragón.

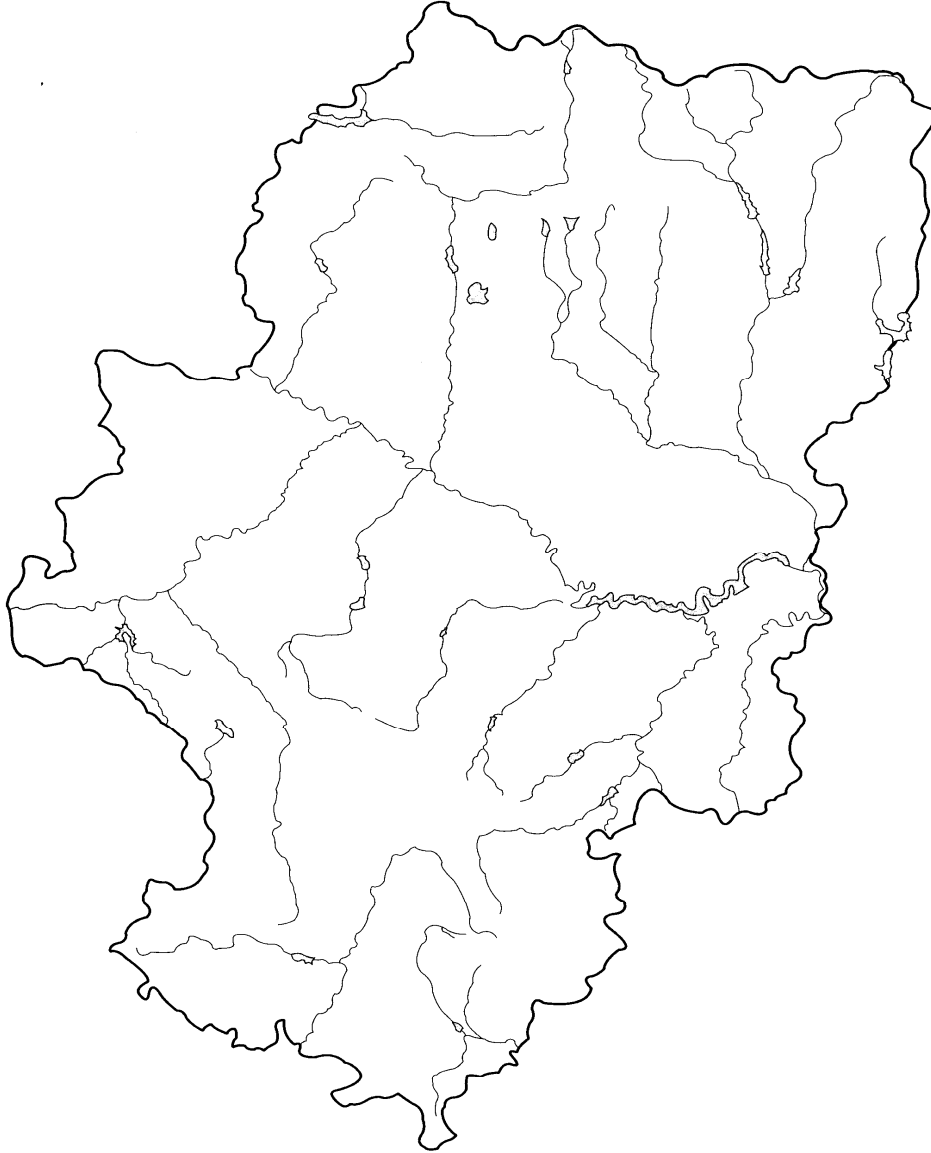
Escala 1 : 1 400 000
0 10 20 30 40 50 km






15. - Señala los principales ríos y embalses de Aragón y nómbralos

Escala 1 : 1 400 000
0 10 20 30 40 50 km



- Localiza en el mapa (escribe el nombre) las localidades que tengan o superen los 10.000 habitantes.



16. – Escribe las funciones de las siguientes instituciones aragonesas:

- Las Cortes:
- La Diputación General:
- El Presidente:
- El Justicia:

17. - Indica si las siguientes frases son verdaderas (V) o falsas (F).

- * El cobre fue el primer metal utilizado por el hombre.
- * Los cazadores y recolectores cultivaban la tierra.
- * Los primeros pobladores solían hacer pinturas en las paredes de las cuevas.
- * Los agricultores y ganaderos eran nómadas.


18. - Contesta:

- a) ¿Cuántos siglos abarca un milenio?
- b) Qué quieren decir las iniciales **a.C.** y **d.C.** :
- a) El año 1401 d.C., ¿qué siglo es? ¿Y el año 1902 d.C.?

19. – Ordena cronológicamente las siguientes fechas:

45 a. C. 45 d. C. 110 a. C. 270 d. C. 300 a. C. 780 d. C.

20. - Cita los pueblos que ocupaban el territorio actual de Aragón antes de la llegada de los romanos y tres características de sus poblados.



21. - ¿A qué estilo arquitectónico corresponden las siguientes características?

Ventanas muy pequeñas ...		Contrafuerte
Ventana grande	Estilo románico	Rosetón
Arbotante		Vidriera
Arco de medio punto	Estilo gótico	Arco apuntado

22. - ¿Para qué se utilizaban ...?




- Las termas:
- El anfiteatro:
- El circo:
- El teatro:
- El acueducto:
- El foro:

23. – Averigua qué ha descubierto cada uno de los científicos que se mencionan:

- Tales de Mileto:
- Benjamín Franklin:
- Alessandro Volta:
- Thomas A. Edison:
- Miguel Servet:
- Alexander Fleming:
- Santiago Ramón y Cajal:
- Isaac Peral:





24. - Fiestas patronales:

- Huesca:
- Teruel:
- Zaragoza:
- Comunidad:

25.- Cada actividad con su sector:

Agricultura		Ganadería
Textil	Sector primario	Energía
Sanidad		Piscicultura
Apicultura		Transporte
Hostelería	Sector secundario	Minería
Silvicultura		Turismo
Alimentación		Metalurgia
Sanidad	Sector servicios	Comercio

26. – Infórmate sobre el “Palacio de la Aljafería”: haz un resumen.

