

Nombre y apellidos: \_\_\_\_\_

Curso: \_\_\_\_\_ Fecha: \_\_\_\_\_

# aprendiendo a calcular con el ábaco

*Duración: 15 minutos*

*Material: lápiz, lápices de colores y ábaco*

sesión  
**6**



## actividad 11:

### Dibuja en el ábaco y en la nube

1. Representa en el ábaco los triángulos que aparecen en la nube.
2. Dibuja en la nube el número de triángulos equivalente al número que se representa en el ábaco.

A continuación, colorea los triángulos y los ábacos.

1		2	
(A)		(A)	
(B)		(B)	
(C)		(C)	

**Orientación Andújar**





Nombre y apellidos: \_\_\_\_\_

Curso: \_\_\_\_\_ Fecha: \_\_\_\_\_






# aprendiendo a calcular con el ábaco



1



2



**Orientación Andújar**