


T15
Moneda





Escribo cuánto vale cada una de las monedas.



_____ centavo



_____ centavos



_____ centavos



_____ centavos



_____ centavos




_____ quetzal

¿A cuántos centavos equivale un quetzal?



_____ quetzal = _____ centavos

Resumen: 1 quetzal es igual a 100 centavos.



Uno con una línea.

1 centavo ●

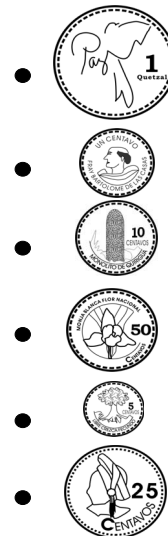
5 centavos ●

10 centavos ●

25 centavos ●


50 centavos ●

1 quetzal ●





Imagino que ayudo a comprar en una tienda.



Encierro la moneda con la que se puede pagar exactamente el valor de lo que se compra.

Josué compra un dulce de 25 centavos.



Angélica compra un chicle de 50 centavos.



Rodrigo compra un chocolate de 1 quetzal.



¡Trato de pensar cómo puedo pagar!

Brenda compra un chocolate de 1 quetzal con 50 centavos. Encierro una combinación de monedas para pagar exactamente.

