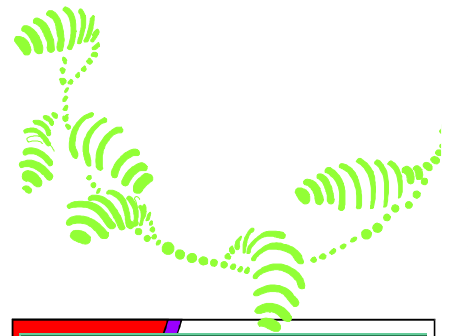





FICHA DE LECTURA Nº 91



OBSERVO Y CONTESTO:

1. Averigua lo que pone en la portada del cómic y escríbelo correctamente.





FICHA DE LECTURA Nº 92


Sinónimos – antónimos

SINÓNIMOS: Extender – Reciente – Acceso – Prudente – Molesto – Cercano
Quietud – Flojo – Encarcelado – Listo.

ANTÓNIMOS: Enrollar – Lejano – Viejo – Libre – Intranquilidad – Fuerte
Agradable – Necio – Salida – Insensato.



A	B	C
1. Calma		
2. Débil		
3. Preso		
4. Inteligente		
5. Próximo		
6. Entrada		
7. Insoportable		
8. Sensato		
9. Desplegar		
10. Nuevo		



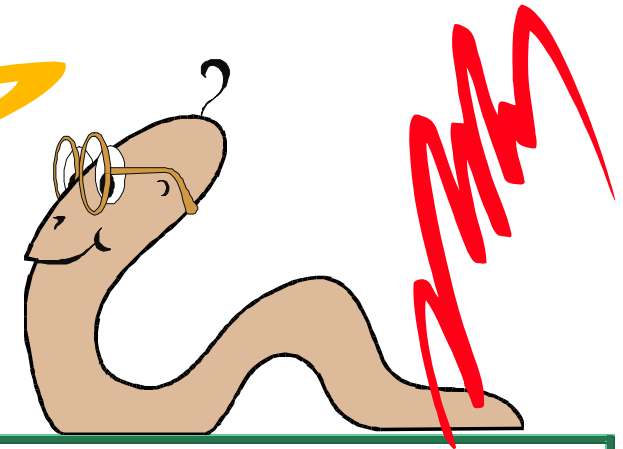
OBSERVO Y CONTESTO:

- Busca los sinónimos y antónimos de la columna A. Habrás de escribir los sinónimos en la columna B y los antónimos en la C.




FICHA DE LECTURA Nº 93

Quien así hablaba era la lombriz Eustaquio
Tenía miedo de que le rechazaran por su
torneza y por esa razón no había dicho
nada pero desde luego hubiera dado
cualquier cosa -incluso su brazo derecho de
haber tenido brazos- por acompañar al
profesor Col en su aventura




OBSERVO Y CONTESTO:

1. ¿Cómo se llamaba la lombriz?
2. ¿A qué tenía miedo la lombriz?
3. ¿Por qué tenía miedo?
4. ¿Qué hubiese dado la lombriz por acompañar al profesor?
5. ¿Qué iba a comenzar el profesor?





FICHA DE LECTURA Nº 94






OBSERVO Y CONTESTO:

1. Escribe correctamente el primer texto.
2. Completa el segundo texto con los siguientes términos:
consumo – ciclo – equilibrio – demográfico – utilizada - doblando

¿Cómo usamos el agua?

El agua ha sido considerada comúnmente como un recurso renovable, cuyo uso no se veía limitado por el peligro de agotamiento que afecta, por ejemplo, a los yacimientos minerales. Los textos escolares hablan, precisamente, del “ciclo del agua” que, a través de la evaporación y la lluvia, devuelve el agua a sus fuentes para engrosar ríos, lagos y acuíferos subterráneos... y vuelve a empezar.

Y ha sido así mientras se ha mantenido un _____ en el que el volumen de agua _____ no era superior al que ese _____ del agua reponía. Pero el consumo de agua se ha disparado: a escala planetaria el consumo de agua potable se ha venido _____ últimamente cada 20 años, debido a la conjunción de los excesos de _____ de los países desarrollados y del crecimiento _____, con las consiguientes necesidades de alimentos.





FICHA DE LECTURA Nº 95

L
o
s
pro
ble
mas
que
sur-
gen

con
e
l
agua
son
que
u
q
e
tá
es

mente desigual
da
reparti-
>
que

bre hom
el
con su
OS u

la
es
tá
nando. contami




OBSERVO Y CONTESTO:

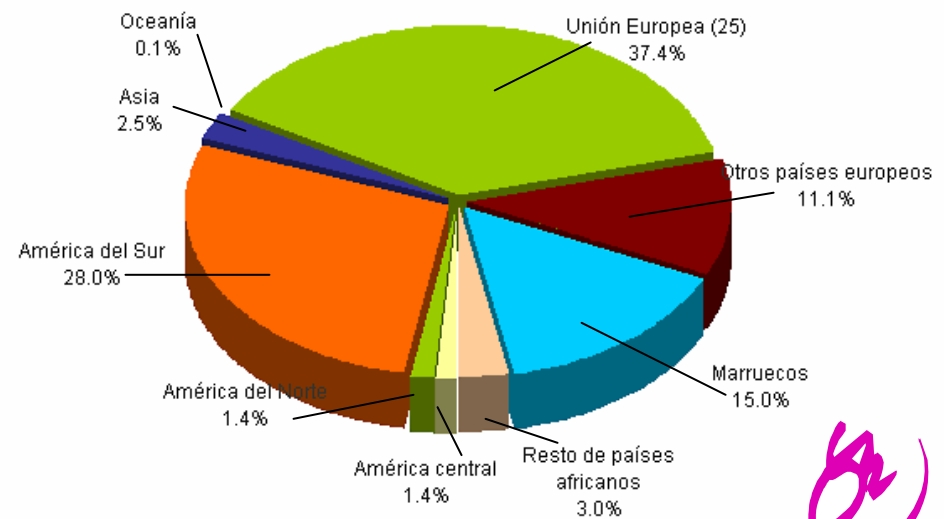
1. Escribe el texto



FICHA DE LECTURA Nº 96




Distribución de la población extranjera de 0 a 19 años según lugar de nacimiento. Andalucía 2005



Fuente: Padrón Municipal de habitantes de 2005 INE.
Elaboración: Defensor del Menor de Andalucía a partir de datos extraídos por el Observatorio de la Infancia en Andalucía

OBSERVO Y CONTESTO:

1. ¿Qué representa esta gráfica?
2. ¿Quién la ha elaborado?
3. Según se refleja, ¿de qué lugar proceden la mayor parte de la población extranjera?
4. ¿Cuántos provienen de América del Sur?
5. ¿El 15,0 % a qué población hace referencia?





FICHA DE LECTURA Nº 97

OBSERVO Y CONTESTO:

1. Uniendo elementos de A, B y C formarás frases. Fíjate bien e inténtalo.



A

B

C

1 Las aguas

5 están formados

9 y que el hombre con su uso la está contaminando.

2 La sangre, el sudor, los jugos gástricos y la orina

6 son que está desigualmente repartida

10 grandes cantidades de agua.

3 Las fábricas y las centrales eléctricas

7 se contaminan

11 por agua.

4 Los problemas que surgen con el agua

8 también utilizan

12 con las aguas sucias de los pueblos, con los vertidos de las industrias, etc.





FICHA DE LECTURA Nº 98

OBSERVO Y CONTESTO:

1. En el texto hay varias palabras que no concuerdan con el sujeto, ¿sabes cuáles son?

HAY AGUA POR TODAS PARTES

La mayor parte de nuestra Tierra está cubierta de agua. Casi tres cuartas partes de la superficie de la Tierra son océano y mares. El agua del mar es salada. También hay mucha agua en tierra firme:

estanques, arroyos, ríos, lagos y subsuelo. Esta agua proviene de la lluvia. No es salada. En nuestros cuerpos hay abundante agua así como en los animales y las plantas. Sin agua todo se moriría.





FICHA DE LECTURA Nº 99

DESGLOSE POR BLOQUES														
CONSUMO DE AGUA					ALCANTARILLADO VARIABLE					DEPURACION VARIABLE				
Blq	Limite	m³	Euro/m³	Importe	Blq	Limite	m³	Euro/m³	Importe	Blq	Limite	m³	Euro/m³	Importe
1	15	15	0,3651	5,48	1	15	15	0,0580	0,87	1	15	15	0,1472	2,21
2	36	21	0,6143	12,90	2	36	21	0,0790	1,66	2	36	21	0,1992	4,18

aqualia gestión integral del agua, S.A. A26019992 Factura nº: 14362007P0032902
C/ Jacinto Benavente nº 3 Bajo.
14.400 Pozoblanco (Córdoba)

CONCEPTOS FACTURADOS	Mº Fac	Importe	% I.V.A.	Tipo I.V.A.	Base Imponible	Importe I.V.A.	Importe Total
CONSUMO DE AGUA	36	18,38	7,00	7,00%	23,17	1,62	24,79
CUOTA SERVICIO		4,79	7,00				
TOTAL FACTURA					23,17	1,62	24,79

Excmo. Ayuntamiento de Pozoblanco P1405400A Factura nº: 14362007P0031728
Cronista Sepulveda, 2
14.400 - Pozoblanco (Córdoba)

CONCEPTOS FACTURADOS	Mº Fac	Importe	% I.V.A.	Tipo I.V.A.	Base Imponible	Importe I.V.A.	Importe Total
ALCANTARILLADO FIJO		1,52		No suje	14,92	0,00	14,92
ALCANTARILLADO VARIABLE	36	2,53					
DEPURACION FIJA		4,48					
DEPURACION VARIABLE	36	6,39					
TOTAL FACTURA					14,92	0,00	14,92

TOTAL EN EUROS
39,71



JACINTO BENAVENTE 3

Pozoblanco

14400 Córdoba

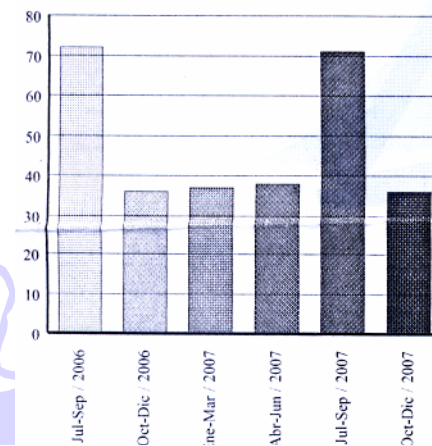
EXCELENTISIMO AYUNTAMIENTO DE POZOBLANCO.
SERVICIO MUNICIPAL DE AGUAS

FACTURACIÓN Oct - Dic / 2007

Número contador: 97124133 Calibre: 13
Tipo de contador: Individual normal
Lectura anterior: 1878 Fecha: 28/08/2007
Lectura actual: 1914 Fecha: 27/11/2007

Consumo: 36 Tipo: REAL Días cons: 91
Tarifa: DOMEST.-COMERCIAL Cat: Única
Actividad ppal: Doméstica Usuarios: 1

HISTORIAL DE CONSUMOS



OBSERVO Y CONTESTO:

1. ¿Qué empresa presenta este recibo?
2. ¿El consumo es de: teléfono, agua, butano, electricidad, basura?
3. ¿A qué período corresponde el recibo?
4. ¿Qué importe deberemos pagar?
5. ¿Qué período es el de mayor consumo?