


NOMBRE:

FECHA:

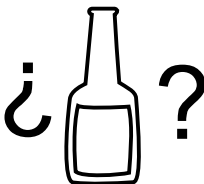
CAPACIDAD.

MEDIDA DE CAPACIDADES 2


 ¿Cuántas botellas de medio litro se necesitarán para envasar 4 litros de vino?



4 LITROS



1/2 LITRO

 Rodea en cada caso la medida que te parezca más adecuada:




1 LITRO

1/4 LITRO



3 LITROS

1/2 LITRO

 Escribe el nombre de 3 cosas que se venden en un supermercado o en una tienda y que vengan en envases de menos de un litro.

Trata también de calcular la capacidad de cada uno.




1.- más o menos tendrá de litro.

2.- más o menos tendrá de litro.

3.- más o menos tendrá de litro.



 El otro día me bebí 6 botellines de refresco de 1/2 litro cada uno.

¿Cuántos litros de refresco me bebí?



1/2 l



1/2 l



1/2 l



1/2 l



1/2 l



1/2 l