

Nombre y apellidos: \_\_\_\_\_

Curso: \_\_\_\_\_ Fecha: \_\_\_\_\_

# aprendiendo a calcular con el ábaco

sesión  
**10**



*Duración: 20 minutos*

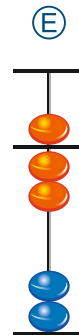
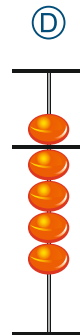
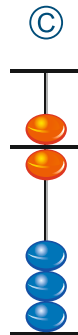
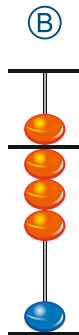
*Material: lápiz, lápices de colores y ábaco*

## actividad 16:

### Une con flechas

Une cada ábaco con el número que representa.

A continuación, realiza en tu ábaco los movimientos necesarios para representar los números que se muestran en los ábacos de este ejercicio.



4

8

5

3

6

1

7

2

9

**Orientación Andújar**