


# Matemáticas




Cuaderno de ejercicios

1<sup>º</sup> de primaria

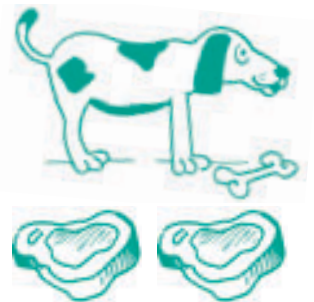
Nombre \_\_\_\_\_

### 1. Suma.



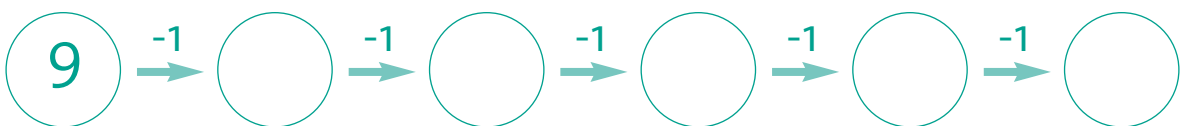
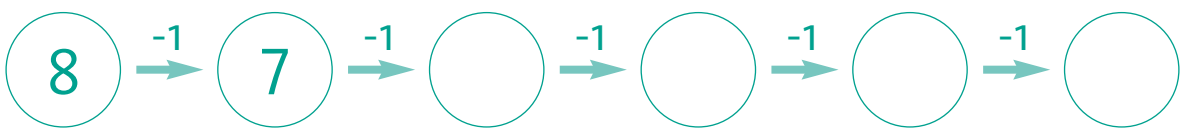
$$\square + \square = \square$$

### 2. ¿Cuántos chuletones se ha comido el perro?



$$\square - \square = \square$$


### 3. Sigue la serie.



4. Mira los dibujos y completa las restas.



$$\boxed{5} - \boxed{\phantom{00}} = \boxed{\phantom{00}}$$



$$\boxed{\phantom{00}} - \boxed{\phantom{00}} = \boxed{\phantom{00}}$$

5. Observa, completa la serie y colorea.

	■	○					
	□						
	▲						
	△						
▶▶	○	●					
							▶▶

6. Mira atentamente el dibujo y completa el cuadro.




Izquierda	Derecha
○	

7. Observa el dibujo y completa.



1 decena y 3 unidades

$$\boxed{10} + \boxed{\phantom{00}} = \boxed{\phantom{00}}$$




..... decena y ..... unidades


$$\boxed{\phantom{00}} + \boxed{\phantom{00}} = \boxed{\phantom{00}}$$

8. Colorea.



1 decena y 5 unidades






1 decena y 7 unidades



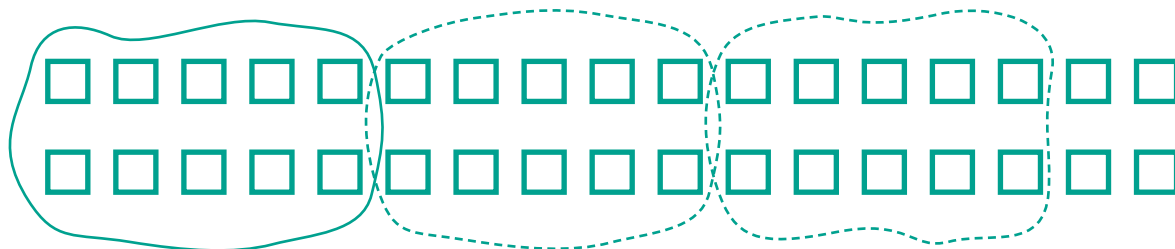
9. Completa.




10. Colorea en azul el interior de las líneas cerradas.



11. Rodea decenas y completa.



decenas  unidades



decenas  unidades


12. Relaciona con flechas.

triángulo



cuatro lados rectos

cuadrado



sin lados rectos

círculo



cuatro lados rectos

rectángulo



tres lados rectos

13. Escoge las estrellas correctas para completar las sumas.



$$\begin{array}{c} \star \\ 9 \end{array} + \begin{array}{c} \star \\ \phantom{0} \end{array} = \begin{array}{c} \star \\ 14 \end{array}$$



$$\begin{array}{c} \star \\ \phantom{0} \end{array} + \begin{array}{c} \star \\ \phantom{0} \end{array} = \begin{array}{c} \star \\ 10 \end{array}$$




$$\begin{array}{c} \star \\ \phantom{0} \end{array} + \begin{array}{c} \star \\ \phantom{0} \end{array} = \begin{array}{c} \star \\ 12 \end{array}$$

14. Completa las series.

60	61							
30	32	34						

15. Relaciona con flechas.

cuarenta y cinco	26	doce	62
veintiséis	79	cuarenta y tres	30
diecisiete	17	sesenta y dos	12
setenta y nueve	45	treinta	43



16. Escribe los números.

sesenta y tres		ochenta y seis	
diecinueve		trece	
veintiocho		setenta y siete	
cuarenta y siete		cincuenta y cuatro	

17. Relaciona con flechas



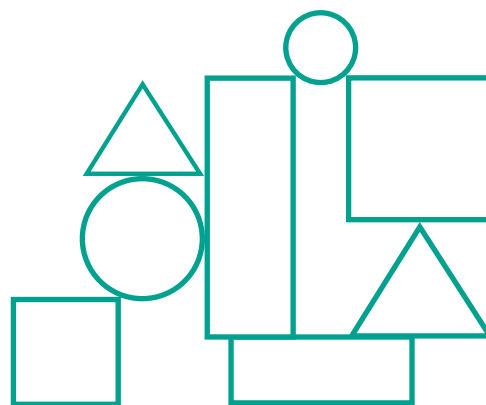
segundo	primero	cuarto	tercero	quinto
---------	---------	--------	---------	--------





18. Observa la tabla y colorea.

Rectángulos	→	Amarillo
Triángulos	→	Verde
Círculos	→	Rojo
Cuadrados	→	Azul



19. Relaciona.

58		$90 + 5$
63		$10 + 8$
95		$70 + 9$
79		$30 + 4$
34		$60 + 3$
18		$50 + 8$





20. Completa.

$$\begin{aligned} 8 &= 50 + 8 \\ 63 &= 60 + \underline{\quad} \\ 95 &= 90 + \underline{\quad} \\ 79 &= 70 + \underline{\quad} \\ 34 &= 30 + \underline{\quad} \\ 18 &= 10 + \underline{\quad} \end{aligned}$$

$$\begin{aligned} 42 &= 40 + 2 \\ 17 &= \underline{\quad} + 7 \\ 84 &= \underline{\quad} + 4 \\ 65 &= \underline{\quad} + 5 \\ 23 &= \underline{\quad} + 3 \\ 46 &= \underline{\quad} + 6 \end{aligned}$$

21. Observa y completa.

En una tienda hay los siguientes juguetes.





	○ ○ ○ ○ ○
	○ ○ ○ ○ ○ ○ ○ ○
	○ ○ ○ ○ ○ ○ ○ ○ ○ ○
	○ ○ ○ ○ ○ ○

 = 5

 =     

 =     

 =     

<p>¿Cuántas muñecas y caballitos hay en total?</p> <p> <input type="text"/></p> <p> <input type="text"/></p> <hr/> <p><input type="text"/></p>	<p>¿Cuántos ositos más que balones hay en total?</p> <p> <input type="text"/></p> <p> <input type="text"/></p> <hr/> <p><input type="text"/></p>
--	--

## 22. Suma.

$$\begin{array}{r} 48 \\ + 31 \\ \hline \square \end{array}$$

$$\begin{array}{r} 26 \\ + 63 \\ \hline \square \end{array}$$

$$\begin{array}{r} 45 \\ + 44 \\ \hline \square \end{array}$$

$$\begin{array}{r} 52 \\ + 35 \\ \hline \square \end{array}$$

$$\begin{array}{r} 57 \\ + 11 \\ \hline \square \end{array}$$

$$\begin{array}{r} 73 \\ + 22 \\ \hline \square \end{array}$$

$$\begin{array}{r} 25 \\ + 74 \\ \hline \square \end{array}$$

$$\begin{array}{r} 60 \\ + 30 \\ \hline \square \end{array}$$

## 23. Resta.

$$\begin{array}{r} 88 \\ - 25 \\ \hline \square \end{array}$$

$$\begin{array}{r} 73 \\ - 41 \\ \hline \square \end{array}$$

$$\begin{array}{r} 69 \\ - 55 \\ \hline \square \end{array}$$

$$\begin{array}{r} 67 \\ - 23 \\ \hline \square \end{array}$$

$$\begin{array}{r} 48 \\ - 37 \\ \hline \square \end{array}$$

$$\begin{array}{r} 59 \\ - 40 \\ \hline \square \end{array}$$

$$\begin{array}{r} 61 \\ - 20 \\ \hline \square \end{array}$$

$$\begin{array}{r} 97 \\ - 44 \\ \hline \square \end{array}$$

## 24. Suma tres y completa la serie.



25. Lee atentamente y calcula.

He hecho 95 panecillos y 43 los he puesto en esta cesta. ¿Cuántos pondré en la otra cesta?




—

Pondrá \_\_\_\_\_ panecillos en la otra cesta

26. Mide en palmos y completa.

El largo de la mesa	
El ancho de la mesa	
El alto de la mesa	

27. Observa los dibujos y completa.






Las jirafas son ..... altas que el elefante.  
 El elefante es ..... alto que las jirafas.  
 La serpiente es ..... larga que la hormiga.  
 La hormiga es ..... corta que la serpiente.

28. Coloca y suma.

$85 + 12$	<input type="text"/> <input type="text"/> <hr/> <input type="text"/>
$56 + 23$	<input type="text"/> <input type="text"/> <hr/> <input type="text"/>
$71 + 20$	<input type="text"/> <input type="text"/> <hr/> <input type="text"/>
$52 + 44$	<input type="text"/> <input type="text"/> <hr/> <input type="text"/>

## 29. Completa las operaciones.

¿Cuántas aves hay en total?




			<input type="text"/>
16	11	9	<input type="text"/>

+   

---

En total hay ..... aves

¿Cuántos instrumentos musicales hay en total?

			<input type="text"/>
12	6	15	<input type="text"/>

+   

---

Entre flautas, tambores y guitarras hay un total de \_\_\_\_\_ instrumentos musicales.

**30.** Observa el cuadro y completa las frases.

Lunes	Martes	Miércoles	Jueves	Viernes	Sábado	Domingo
17	18	19	20	21	22	23

Si hoy es martes 18, mañana será... miércoles 19 .....

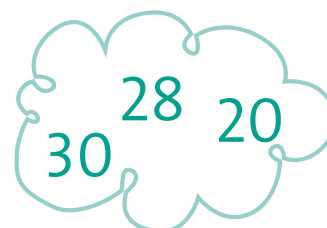


Si hoy es jueves 20, ayer fue .....

Si hoy es viernes 21, dos días después será .....

Si hoy es lunes 17, dos días antes fue .....

Si hoy es jueves 20, tres días después será .....

**31.** Rodea el número mayor.



**32.** Rodea el número menor.

