

COLECCIÓN DE PROBLEMAS



Orientación
Andújar

MATEMÁTICAS 1º PRIMARIA

PROBLEMAS DE MATEMÁTICAS

Nombre: _____ Curso: _____

1.- Francisco, Vera y Carmen son hermanos. Francisco tiene

11 años, Santiago 7 y Alejandro 4. ¿Cuántos años tienes entre Francisco y Santiago?

DATOS

OPERACIONES

SOLUCIÓN: _____



PROBLEMAS DE MATEMÁTICAS



Nombre: _____ Curso: _____

2.- Alejandro Colecciona cromos de la Patrulla Canina. La colección tiene 78 y ya tiene 54. ¿Cuántos le faltan para terminar la colección?

DATOS

OPERACIONES



SOLUCIÓN: _____

PROBLEMAS DE MATEMÁTICAS



Nombre: _____ Curso: _____

3.- Carmen tiene ahorrados 22 € y su abuela le da 9 € más.

¿Cuánto dinero tiene ahora?

DATOS

OPERACIONES

SOLUCIÓN: _____



PROBLEMAS DE MATEMÁTICAS



Nombre: _____ Curso: _____

4.- En su comunión Francisco invitó a 3 amigos de su colegio, 4 de su equipo de fútbol y a sus 14 primos. ¿Cuántos niños había en su comunión?

DATOS

OPERACIONES



SOLUCIÓN: _____

PROBLEMAS DE MATEMÁTICAS



Nombre: _____ Curso: _____

5.- Beatriz y su hermana han colocado en su estantería 5 Nenucos,
3 Barriguitas y 6 Barbie. ¿Cuántas muñecas han colocado en total?

DATOS

OPERACIONES



SOLUCIÓN: _____

PROBLEMAS DE MATEMÁTICAS




Nombre: _____ Curso: _____

6.- A Julia le han regalado una bolsa con 28 caramelos. Se ha comido 5.

¿Cuántos le quedan?

DATOS

OPERACIONES



SOLUCIÓN: _____

PROBLEMAS DE MATEMÁTICAS



Nombre: _____ Curso: _____

7.- Carmen tiene una caja con 15 pinturas, si ha sacado 4 pinturas,
¿cuántas pinturas le quedan dentro de la caja?

DATOS

OPERACIONES



SOLUCIÓN: _____

PROBLEMAS DE MATEMÁTICAS




Nombre: _____ Curso: _____

8.- Rafa tiene una pecera con 9 peces. 5 son de color rojo,
¿cuántos son de otro color?

DATOS

OPERACIONES



SOLUCIÓN: _____

PROBLEMAS DE MATEMÁTICAS




Nombre: _____ Curso: _____

9.- El abuelo de Carmen tiene una granja con 6 gallinas blancas, 3 negras y 4 marrones. ¿Cuántas gallinas tiene en total?

DATOS

OPERACIONES



SOLUCIÓN: _____

PROBLEMAS DE MATEMÁTICAS



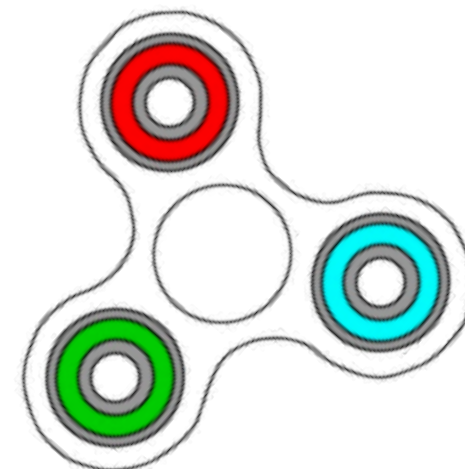
Nombre: _____ Curso: _____

10.- Julia tiene 7 spinner y Beatriz 2 menos. ¿Cuántos spinner tiene Beatriz?

DATOS

OPERACIONES

SOLUCIÓN: _____



PROBLEMAS DE MATEMÁTICAS



Nombre: _____ Curso: _____

11.- Francisco cogió en el río 18 cangrejos pero se le escaparon 6.

¿Cuántos cangrejos le quedaron?

DATOS

OPERACIONES



SOLUCIÓN: _____

PROBLEMAS DE MATEMÁTICAS



Nombre: _____ Curso: _____

12.- En su cumpleaños, la tarta de Santiago tenía 7 velas.

Si de un soplo apagó 4, ¿cuántas se le quedaron encendidas?

DATOS

OPERACIONES



SOLUCIÓN: _____