



















NOMBRE: _____


FECHA: . . .

ELRELOJ5.

MÁS RELOJES

 Indica cuánto tiempo ha pasado desde la hora de un reloj hasta la del otro:

			Dos horas y media.				-----
			-----				-----
			-----				-----

 ¿Sabes cuántas horas estás en el colegio cada día? ¡Calcúlalas!


Por la mañana --> horas.

Por la tarde --> horas.

} TOTAL : horas.

Sabiendo eso, calcula cuántas horas estás en el colegio en una semana.

L M M J V

 Une con flechas los relojes de arriba que tengan la misma hora que los de abajo.

