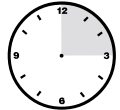
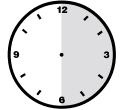



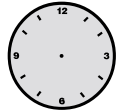
LAS HORAS Y LOS MINUTOS


 Completa:

 Un cuarto de hora = minutos.

 Media hora = minutos.

 Tres cuartos de hora = minutos.

 Una hora = minutos.

 Escribe dos hechos que duren más de un minuto y dos hechos que duren menos de un minuto.







MÁS DE UN MINUTO

1 _____ 2 _____


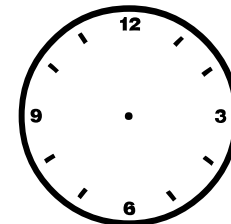
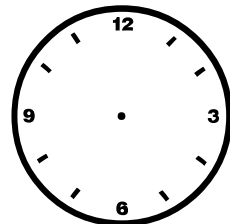
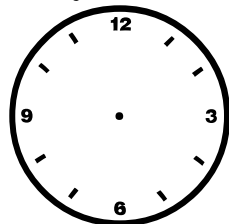
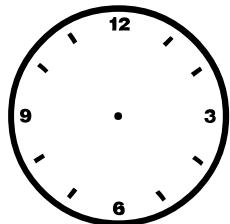
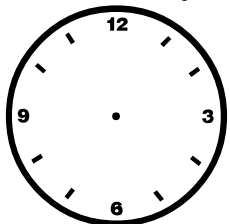
MENOS DE UN MINUTO

1 _____ 2 _____

 Escribe la hora que marcan los siguientes relojes:



 Dibuja las manecillas en cada reloj:



Las 4 y cuarto

Las 12 y media

Las 9 en punto

Las 8 y media

Las 7 menos cuarto

Las 10 y cuarto