

NOMBRE: \_\_\_\_\_

FECHA: . . .

ELRELOJ1.

# EL RELOJ

 ¿Cómo se llaman estos tipos de relojes? Escribe el nombre de cada uno.



El reloj de agujas se dice que es .....






El reloj de números se dice que es .....

¿Cuál te gusta más?



¿Por qué?

¿Qué hora marca en el reloj que te gusta?

 Cuenta de 5 en 5 hasta llegar a 60.

 10 ..... 

Hazlo ahora al revés.

 55 ..... 

 Escribe dentro de las flechas  las siguientes palabras:

Y MEDIA

MENOS CUARTO

Y CINCO

MENOS VEINTE

MENOS CINCO

Y VEINTICINCO

EN PUNTO

Y CUARTO

MENOS DIEZ

Y VEINTE

MENOS VEINTICINCO

Y DIEZ

