

NOMBRE:

CAPACIDAD.



FECHA: - -

# LA CAPACIDAD



Observa:

En una llave o en una tabla no podemos meter nada.

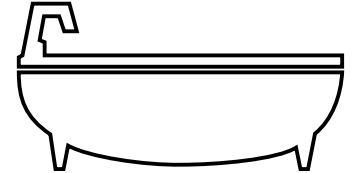


Se dice que la llave y la tabla no tienen capacidad.

Escribe tú 4 cosas que no tengan capacidad:

-----  
-----

En un vaso o en una bañera podemos meter agua u otras cosas....



Decimos que el vaso y la bañera tienen capacidad.

Escribe tú 4 cosas que sí tengan capacidad:


-----  
-----



Observa estos recipientes y completa :



1



2



3



4

- El recipiente de mayor capacidad es el nº .....

- El recipiente de menor capacidad es el nº .....

- ¿ Tienen la misma capacidad los recipientes nº 3 y nº 4 ? .....

¿ Por qué ? .....



Dibuja un recipiente que tenga mucha capacidad y otro que tenga poca.

MUCHA

POCA