


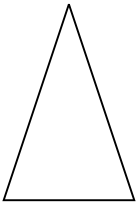
NOMBRE:

LONGITUD.

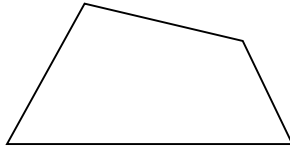
FECHA: - -

EL MILÍMETRO

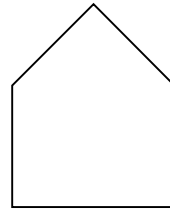
 Mide todos los lados de cada una de estas figuras y anota debajo de cada una los milímetros que suman.



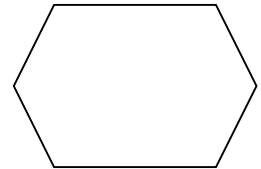
.... mm




.... mm



.... mm




.... mm

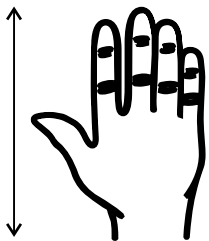
 Escribe el nombre de 3 objetos que no puedan medirse con el metro ni con el centímetro pero sí con el milímetro.


?

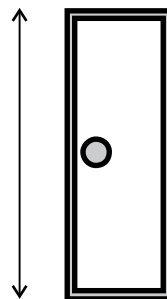
?

?


 Señala cuánto crees que miden estos elementos :









 Tengo una planta en mi casa y crece 10 cm cada año.
¿ Cuántos mm crecerá en 2 años ?

=====

