

NOMBRE:

LONGIT07.

FECHA: - -

MEDIDA DE LONGITUDES

 Imagina cuánto miden estos objetos y únelos con flechas:

El alto de un armario

El ancho de tu mesa

Un bastón

El largo de una cartulina

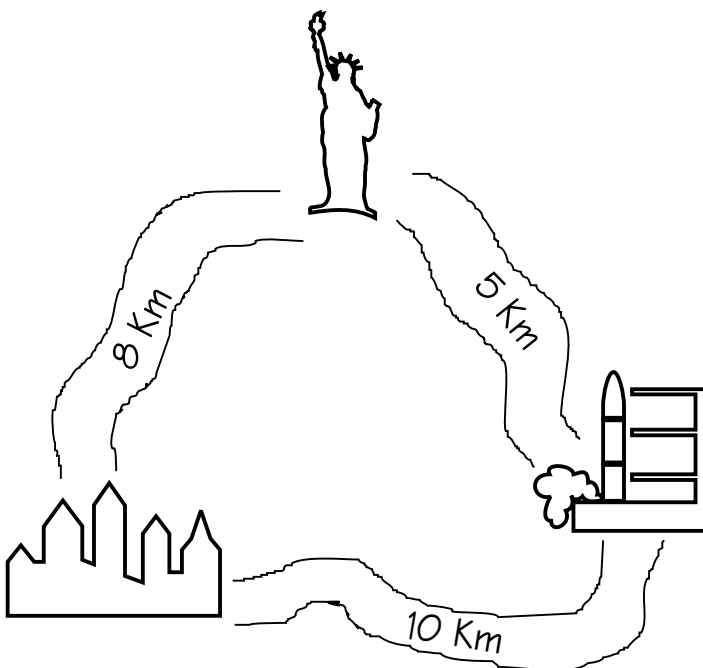
Un paraguas de caballero

MENOS DE 1 METRO

MÁS DE 1 METRO

1 METRO

 Observa las distancias en el dibujo y calcula cuántos metros hay



Desde la estatua hasta la ciudad.


$$5 \text{ Km} = \dots\dots\dots \text{ m}$$

Desde la estación espacial hasta la ciudad.


$$10 \text{ Km} = \dots\dots\dots \text{ m}$$


Desde la estatua hasta la estación espacial.

$$\dots\dots\dots = \dots\dots\dots \text{ m}$$

 De una cuerda que medía un metro se ha cortado un trozo de 40 cm.

¿Cuánto mide ahora la cuerda?



 Hace un rato hemos encendido una vela y en este tiempo se han consumido 10 mm. Si la vela mide ahora 4 cm.

¿Cuántos centímetros medía la vela antes de encenderla?

