

matemàtiques

P5

Numeració i alguna cosa més

TresQuatreiCinc www.marta345.blogspot.com

QUADERN DE FITXES

NUMERACIÓ I UNA MICA MÉS...

Matemàtiques P5.

La idea de número és complexa, per la qual cosa la seva construcció és lenta i progressiva. No es redueix a saber recitar la sèrie dels números en ordre. Fins i tot, caldria plantejar-se si l'educació infantil és l'etapa adient perquè els nens aprenguin la representació simbòlica de les quantitats discretes, és a dir, els números escrits .

Tot i així, almenys en l'últim curs de parvulari, previ a l'inici de l'educació primària, comença a fer-se necessària una certa familiarització amb la numeració i el codi gràfic matemàtic.

Per això és interessant fer coincidir les activitats que busquen afavorir la comprensió dels números amb unes altres de mecàniques, que comporten l'aprenentatge de la seva representació simbòlica.

Aquest és l'objectiu d'aquest dossier, oferir activitats de representació simbòlica dels nombres, seqüenciades de manera gradual i adequada a l'edat dels alumnes.

Aquest recull conté sobretot activitats de numeració però també activitats de lògica, percepció espacial, de desplaçament en quadrícules i d'atenció visual. Bàsicament, activitats que necessiten o permeten una representació gràfica sobre el paper i que no fan perdre de vista l'objectiu didàctic matemàtic de l'activitat.

S'han recopilat del web, a partir de propostes de nombrosos mestres que les han realitzat a les seves aules. També n'hi ha de creació pròpia . S'ha intentat al màxim que siguin variades, que plantegin mínimament un repte, que impliquin una resolució, un raonament i que permetin, en el moment de la correcció, una demostració o comprovació. S'alternen exercicis repetitius de treball exclusiu de la grafia.

Alguns aspectes de numeració, que es poden trobar a la recopilació, seguint M. A. Canals, són:

- ✓ Comptatge dels elements d'un conjunt.
- ✓ Diferents tipus de seriacions amb símbols que es van repetint.
- ✓ Correspondències quantitatives, és a dir, atenent a una determinada quantitat, fer conjunts o grups d'elements (quants n'hi ha ?, sobren elements?, en falten?).
- ✓ Comparacions directes entre conjunts tenint en compte la quantitat o relacions d'equivalència (Resoldre quadres cartesianes, fer conjunts amb "tants elements com..." els d'un conjunt de mostra).
- ✓ Classificació de conjunts per la quantitat (Identificar els conjunts que tenen una determinada quantitat d'elements).
- ✓ Reconeixement de grafies numèriques.

Es recomana aquest dossier després d'un treball intens i exhaustiu dels mateixos conceptes d'una manera vivencial, manipulant materials, amb converses entre els alumnes i el mestre/a. Aquestes fitxes només han de ser el reflex escrit d'activitats encaminades a l'adquisició de la noció de nombre (així com d'altres aspectes) viscudes a la classe.

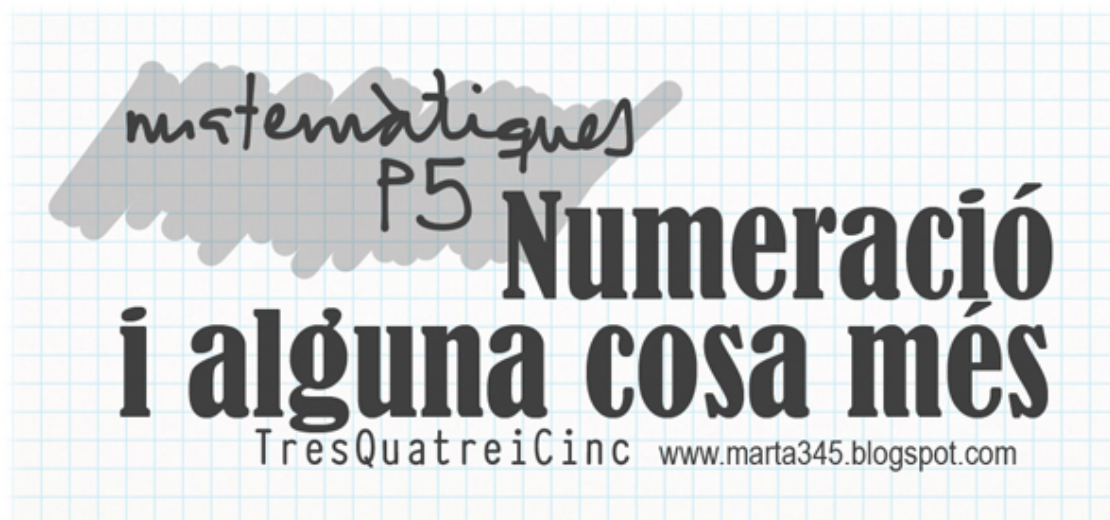


Recursos i activitats per a P3, P4 i P5

TresQuatreiCinc

marta345.blogspot.com

Marta Montero 2015



1r Trimestre


FITXA 1	<p>Davant. Quantitat: Recordatori grafia del número 5. Pintar 5 gossos. Resseguir la grafia del número 5.</p> <p>Darrere. Identificació de la grafia: <i>El camí del 5</i>. Lògica: Acabar la sèrie.</p>
FITXA 2	<p>Davant. Quantitat: Producte cartesià per identificar quantitats (2, 3, 4 i 5). Grafia: Resseguir la grafia de la sèrie numèrica fins a 6.</p> <p>Darrere. Quantitat: Comptar elements i escriure'n el número corresponent.</p>
FITXA 3	<p>Davant. Resseguir grafia del número 5. Practicar lliurement la grafia del número 5. Lògica: Fer la sèrie.</p> <p>Darrere. Correspondència grafia/quantitat: enganxar tants gomets com indica el número. Grafia: Resseguir la sèrie numèrica fins a 5.</p>
FITXA 4	<p>Davant. Grafia: Resseguir grafia 5 i 6. Quantitat: Comptar els conjunts i escriure el número.</p> <p>Darrere. Grafia: Reconeixement grafies 2, 3, 4 i 5. Quantitat: enganxar 5 gomets al coet.</p>
FITXA 5	<p>Davant. Resseguir grafia del número 6. Quantitat: fer paquets de 6 mosquits.</p> <p>Darrere. Identificació de la grafia: trobar el 6. Quantitat: Enganxar 6 gomets.</p>
FITXA 6	<p>Davant. Grafia: Resseguir grafia del número 6. Practicar lliurement la grafia 6. Lògica: Acabar la sèrie.</p> <p>Darrere. Quantitat: Comptar i relacionar el conjunts amb la grafia. Fer paquets de 5 palets.</p>

FITXA 7	<p>Davant. Identificació de la grafia: trobar el 6. Resseguir la grafia. Quantitat: Completar els dibuixos fins a 6 elements.</p> <p>Darrere. Lògica: Sudoku. Quantitat: Fer paquets de 6 peixos.</p>
FITXA 8	<p>Davant. Quantitat: Completar la graella amb el número de dibuixos indicats. Grafia: Copiar la sèrie numèrica (1-6) a la graella del costat.</p> <p>Darrere. Quantitat: Comptar elements i encerclar la quantitat corresponent. Lògica: continuar les sèries.</p>
FITXA 9	<p>Davant. Identificació de la grafia: <i>El camí del 6</i>. Quantitat: Enganxar els gomets que s'indica (5, 6).</p> <p>Darrere. Lògica: Sudoku. Grafia: copiar la sèrie numèrica en les banderoles.</p>
FITXA 10	<p>Davant. Grafia: Resseguir grafia del núm. 7. Quantitat: Fer paquets de 7 llapis.</p> <p>Darrere. Quantitat: Comptar, escriure la grafia corresponent i enganxar la quantitat de gomets que s'indica. Lògica: Acabar la sèrie.</p>
FITXA 11	<p>Davant. Identificació de la grafia: <i>El camí del 7</i>. Lògica: continuar la sèrie.</p> <p>Darrere. Reconeixement grafies (resseguir segons consignes de la mestra). Quantitat: Enganxar 7 gomets a la banderola.</p>
FITXA 12	<p>Davant. Grafia: Resseguir grafia del número 7. Practicar lliurement la grafia del 7. Quantitat: Discriminar la quantitat entre conjunts de 6 i 7 elements.</p> <p>Darrere. Lògica: Sudoku. Completar les sèries numèriques.</p>

NOM:

DATA:

PINTA 5 GOSSOS



*El bosc de colors, Matemàtiques
Ed. Barcanova*

RESSEGUEIX:

5 5 5 5 5 5 5 5 5 5

SEGUEIX EL CAMÍ DEL 5

5

5 5 5 5 5 5

8 2 3 0 6 5

5 5 5 5 5 5

5 0 6 3 9 6

5 5 5 5 8 2

3 8 9 5 5 5

5

www.schoolsparks.com

ACABA LA SÈRIE

X	X	X									
X	X	X									

NOM:

DATA:

CONSTRUEIX EL MUR DELS NÚMEROS



	2	3	4	5
Blue				
Red				
Green				

Adaptat de: Frog Spot <http://frompond.blogspot.com>

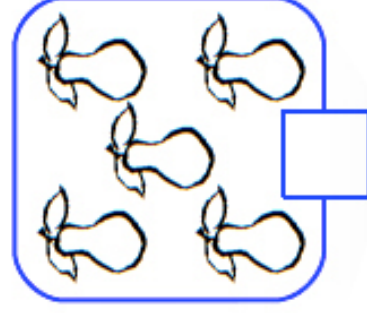
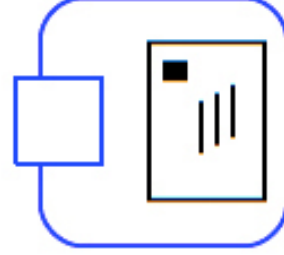
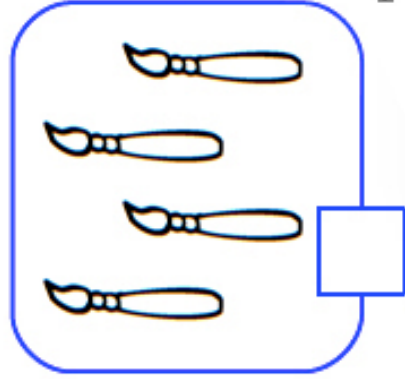
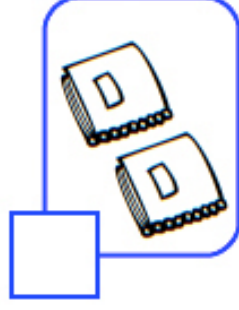


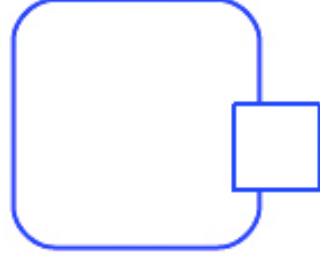

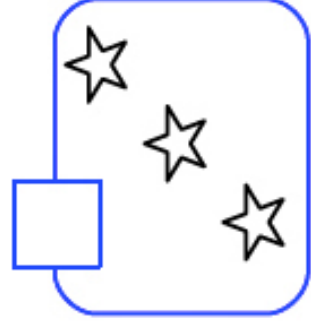
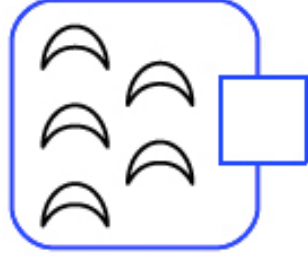
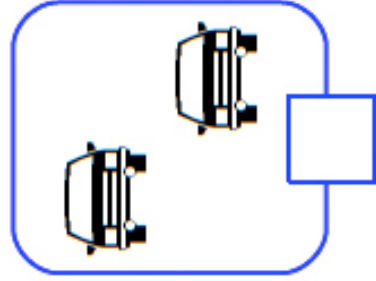
(proporcionar gomets rectangulars de tres colors a l'alumne)

RESSEGUEIX:

1 2 3 4 5 6 1 2 3 4 5 6

COMPTA I ESCRIU EL NÚMERO

0 1 2 3 4 5




<http://pitsdocscdecole.forumactif.fr>

1r trimestre. Fitxa 2 (darrera)

NOM:

DATA:


RESSEGUEIX EL NÚMERO 5







La classe de Laurène laclassedelaurène.blogspot.com

PRACTICA EL NÚMERO 5

FES LA SÈRIE



ENGANXA TANTS GOMETS COM INDICA EL NÚMERO

	2	
	3	
	4	
	5	

RESSEGUEIX 1 2 3 4 5 1 2 3 4 5

NOM:

DATA:

5 5 5 5 5 5 5 5


6 6 6 6 6 6 6 6

1 2 3 4 5 6

COMPTA QUANTES BOLETES MENGEN ELS PEIXOS

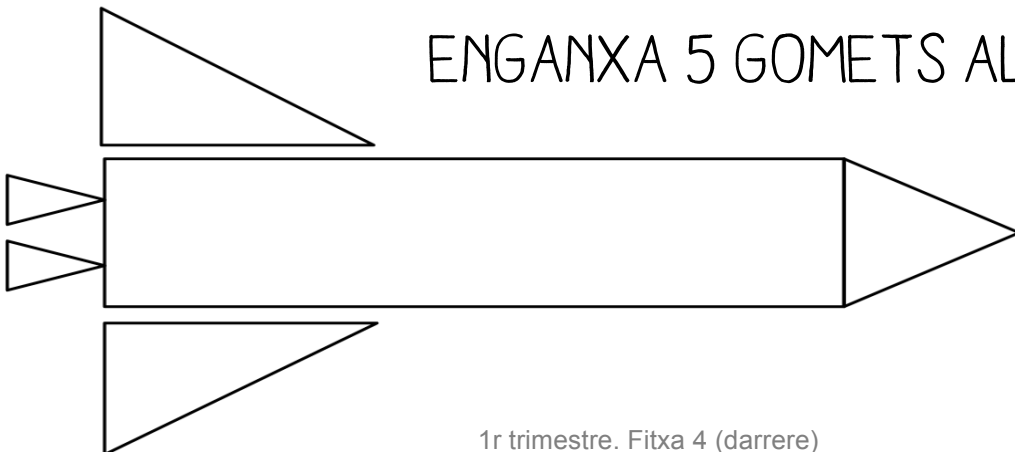


ENCERCLA SEGONS LA CONSIGNA



littleappleteacher.blogspot.com

ENGANXA 5 GOMETS AL COET




NOM:

DATA:

6 6 6 6 6 6 6


6 6 6 6 6 6 6



RATLLA 6 MOSQUITS I FES UN GRUP. POTS FER-NE UN ALTRE?
ESCRIU QUANTS MOSQUITS SOBREN:



ENCERCLA EL NÚMERO 6



8 3 2 6 5

8 6 9 6 5


6 9 5 0 6 2

3 9 5 6 8

3 6 8 6 9

5 6 9 6 8 2

ENGANXA 6 GOMETS





1r trimestre. Fitxa 5 (darrere)

NOM:

DATA:


RESSEGUEIX EL NÚMERO 6



La classe de Laurène laclassedelaurène.blogspot.com

PRACTICA EL NÚMERO 6


FES LA SÈRIE




COMPTA I RELACIONA




3




1



4



6



COMPTA CINC PALETS I RATLLA'LS. FES-NE GRUPS.
QUANTS PALETS SOBREN?



HOLA CINCO!

HOLA SIS!



NOM:

DATA:

6 ENCERCLA EL 6

6 4 2 6 3 6 5 1 2 6

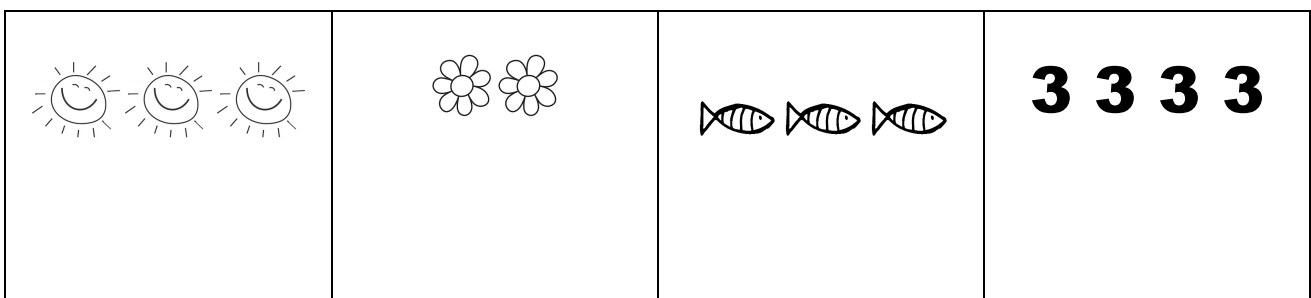
3 6 4 7 6 5 6 5 2 6

3 4 6 2 6 3 3 6 1 6

RESSEGUEIX












COMPLETA FINS QUE HI HAGI 6 ELEMENTS



FEM UN SUDOKU?

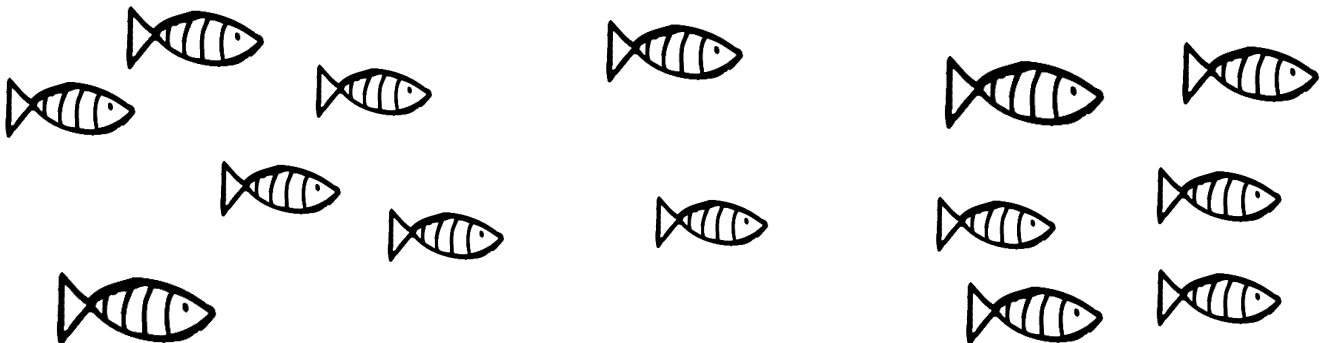
Sudoku

PUZZLE A-12 

Crayola.com / Adaptat per Actiludis.com

FES GRUPS DE 6 PEIXOS



SOBREN PEIXOS? QUANTS? _____

NOM:

DATA:

COMPLETA AMB DIBUIXOS


6	
5	
6	
4	

COPIA AL QUADRE DEL COSTAT

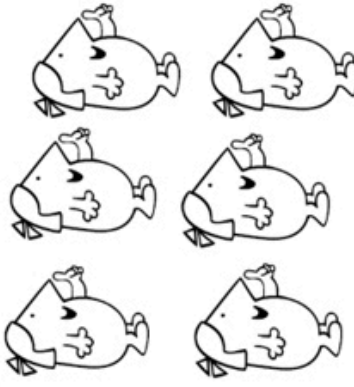
1	2	3	4	5	6
----------	----------	----------	----------	----------	----------

--	--	--	--	--	--


COMPTA I ENCERCLA EL NÚMERO CORRESPONENT




1 2 3 4 5 6



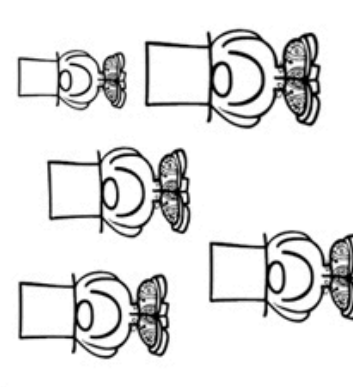
1 2 3 4 5 6



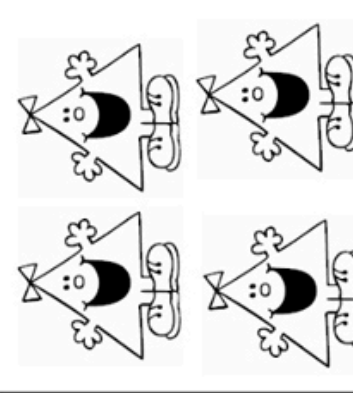
1 2 3 4 5 6



1 2 3 4 5 6



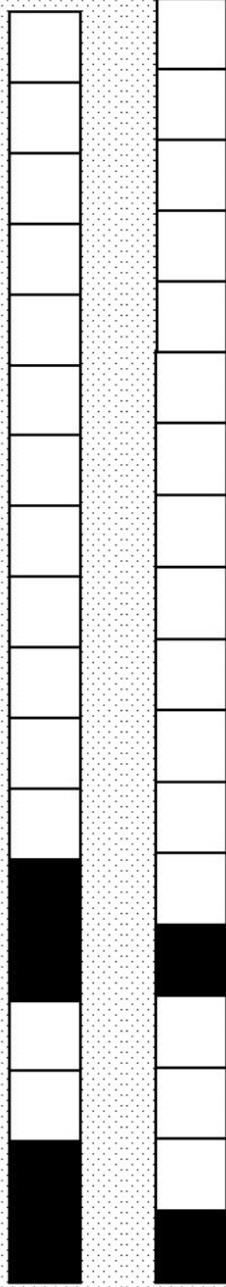
1 2 3 4 5 6



1 2 3 4 5 6

suzyteacher.monsite-orange.fr

ACABA LES SÈRIES



www.fiche-maternelle.com

NOM:

DATA:

FES EL CAMÍ DEL 6. RESSEGUEIX EL NÚMERO 6


www.schoolsparks.com

ENGANXA ELS GOMETES QUE S'INDICA



FEM UN SUDOKU?

Stefan Heine / Mi primer sudoku (Ed. SM)




COPIA LA SÈRIE A LES BANDEROLES



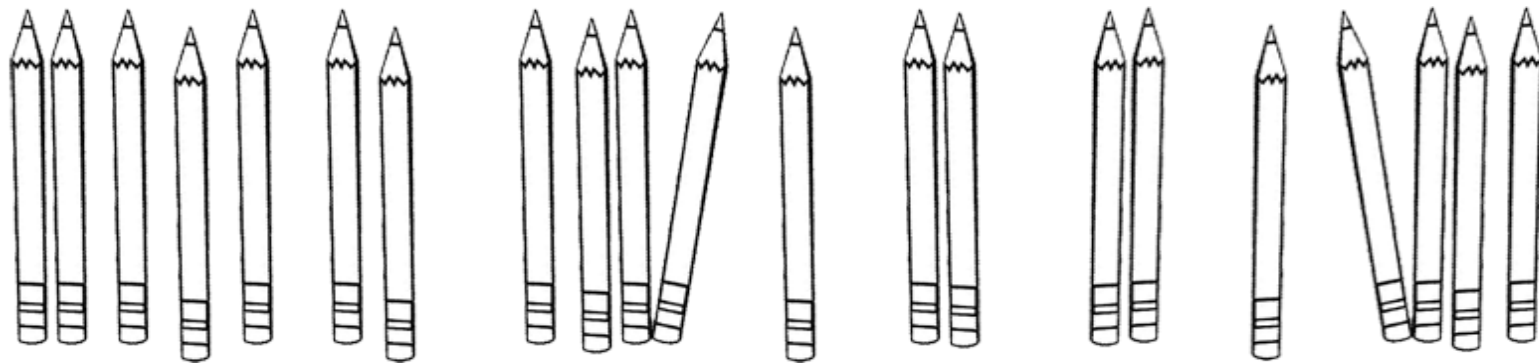
NOM:

DATA:







7 7 7 7 7 7
7 7 7 7 7 7

FES PAQUETS DE 7 LLAPIS. TE'N SOBREN?



COMPTA, ESCRIU EL NÚMERO I ENGANXA TANTS GOMETS COM S'INDICA


ACABA LA SÈRIE



NOM:


DATA:

FES EL CAMÍ DEL 7. RESSEGUEIX EL NÚMERO 7




www.schoolsparks.com


ACABA LA SÈRIE



ESCOLTA I TROBA EL NÚMERO (DICTAT).
RESSEGUEIX-LO.





ENGANXA 7 GOMETS



NOM:

DATA:

RESSEGUEIX EL NÚMERO 7




laclassedelarene.blogspot.com

PRACTICA EL NÚMERO 7

PINTA VERMELL ON HI HA 7 I GROC ON HI HA 6

			a a a a a a	_____ _____ _____ _____ _____		***** ***** ***** ***** ***** *****
--	--	--	----------------------------	---	--	--

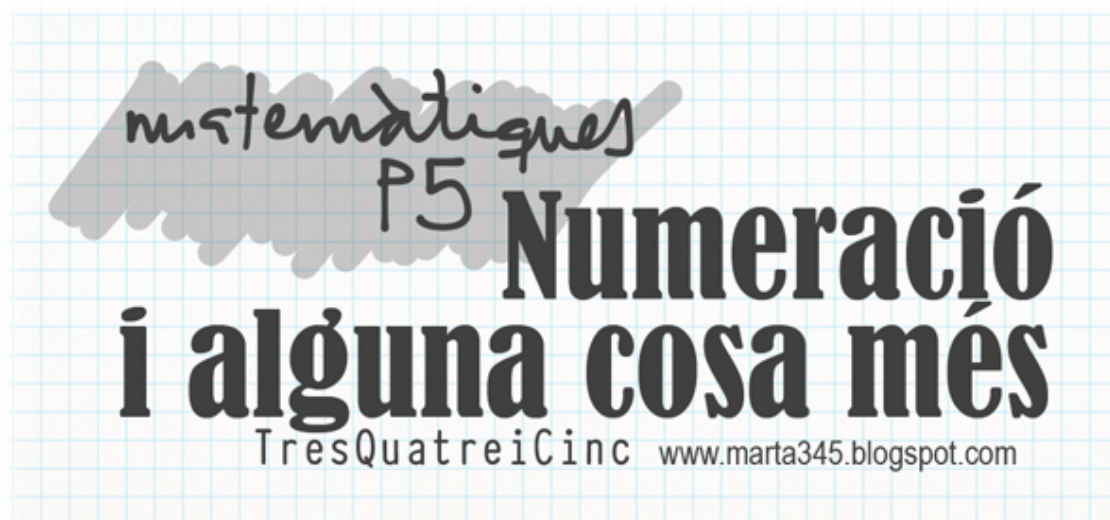
FEM UN SUDOKU?



COMPLETA LES SÈRIES NUMÈRIQUES



Sally Johnson/Sara Inés Gómez 123 MANIA



2n Trimestre

FITXA 1	<p>Davant. Recordatori grafia del número 7. Quantitat: Completar la quantitat amb gomets fins que n'hi hagi 7.</p> <p>Darrere. Lògica: Sudoku. Acabar les sèries.</p>
FITXA 2	<p>Davant. Quantitat: Marcar tantes caselles com s'indica (7, 2, 4, 0, 5 i 6). Ordenar la sèrie numèrica.</p> <p>Darrere. Grafia: Dictat de xifres. / Lògica i simetria: Completar les marietes.</p>
FITXA 3	<p>Davant. Introducció grafia del número 8. Quantitat: comptar i marcar els conjunts de 8 elements.</p> <p>Darrere. Quantitat: Fer equivalències: (marcar tantes ratlletes com elements té cada conjunt). / Sèrie numèrica: copiar la sèrie numèrica a les banderoles.</p>
FITXA 4	<p>Davant. Resseguir grafia del número 8. / Practicar lliurement la grafia 8. / Quantitat: pintar 8 elements de cada grup.</p> <p>Darrere. Lògica: Sudoku. Quantitat: Comptar i relacionar amb la quantitat (8 o diferent de 8).</p>
FITXA 5	<p>Davant. Resseguir grafia dels números. / Quantitat: enganxar 7 gomets.</p> <p>Darrere. Quantitat: Recordatori del número 5. / Lògica: Acabar les sèries.</p>
FITXA 6	<p>Davant. Quantitat i grafia: Comptar els pics dels cercles i practicar lliurement la grafia corresponent. / Lògica: Acabar la sèrie.</p> <p>Darrere. Quantitat: Enganxar els gomets que indica el número. / Sèrie numèrica: Unir els punts (1-10) i identificar el dibuix resultant.</p>




FITXA 7	<p>Davant. Identificar la grafia del número 8. Quantitat: Fer un paquet de 8 elements a cada filera.</p> <p>Darrere. Grafia i sèrie numèrica: Continuar les sèries des del número que s'indica. / Quantitat: enganxar 8 gomets al camió.</p>
FITXA 8	<p>Davant. Quantitat: Seguir el camí del número 8 tenint en compte les diferents maneres de representar-ne la quantitat. / Sèrie numèrica: trobar el número que falta al mig del fragment de la sèrie numèrica.</p> <p>Darrere. Quantitat: Pintar el número de figures que indica la consigna.</p>
FITXA 9	<p>Davant. Grafia: Dictat de números. / Sèrie numèrica: Resseguir els números i copiar la sèrie a l'inrevés, a sota.</p> <p>Darrere. Quantitat: Comptar i pintar els elements segons la consigna.</p>
FITXA 10	<p>Davant. Quantitat: Fer tantes creuetes com indica el número de cada filera. / Grafia: Resseguir les grafies grises.</p> <p>Darrere. Lògica: Sudoku. / Acabar les sèries.</p>
FITXA 11	<p>Davant. Quantitat: Comptar les col·leccions i triar el número que indica la quantitat.</p> <p>Darrere. Orientació espacial: Reproduir el model a la quadrícula del costat. / Grafia: Reconèixer grafia del número 8 i encerclar-la.</p>
FITXA 12	<p>Davant. Quantitat: Comptar i pintar els elements segons la consigna.</p> <p>Darrere. Sèrie numèrica: trobar el número del davant i del darrera en els fragments de sèrie numèrica. / Orientació espacial: Reproduir el model a la quadrícula del costat. / Grafia: Resseguir la sèrie numèrica des de l'1 fins a l'11.</p>

NOM:

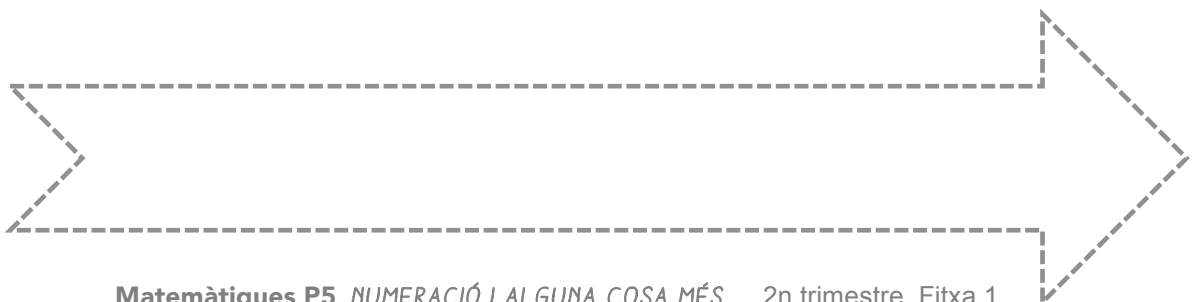
DATA:

1-2-3-4-5-6-7-8-9-10


RESSEGUEIX I PRACTICA EL NÚMERO 7



ENGANXA GOMETES FINS QUE N'HI HAGI 7:



FEM UN SUDOKU?



Basat en www.crayola.com i adaptat per www.actiludis.com


ACABA LES SÈRIES:

n u n

△ || •

NOM:

DATA:



10-9-8-7-6-5-4-3-2-1.....

PINTA TANTS QUADRATS COM DIU EL NÚMERO

7								
2								
4								
0								
5								
6								

ORDENA LA SÈRIE NUMÈRICA


(proporcionar a l'alumne gomets amb els números escrits de l' al 10 amb retolador permanent)

1				5					10
---	--	--	--	---	--	--	--	--	----



DICTAT DE NÚMEROS


SIMETRIA: COMPLETA LES MARIETES



NOM:

DATA:

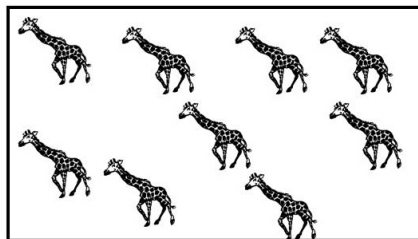




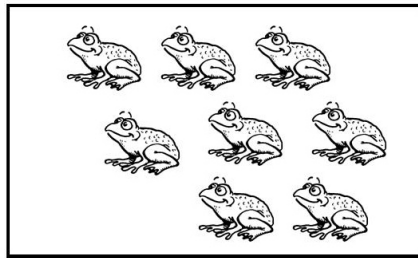

RESSEGUEIX I PINTA EL NÚMERO VUIT



ENCERCLA O PINTA ON HI HA 8 ELEMENTS

8

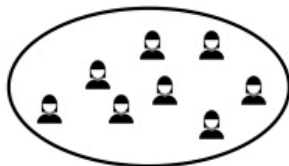

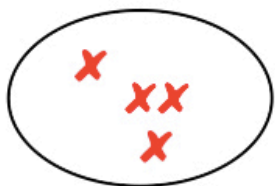
laclassededelphine.jimdo.com



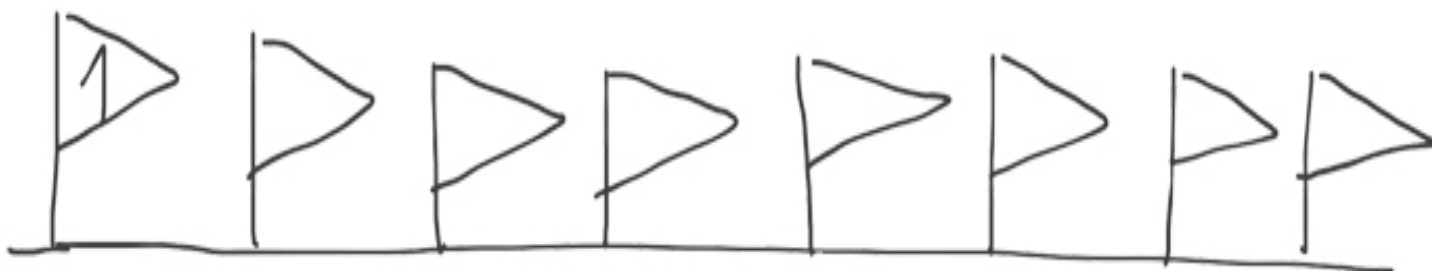
FIXA'T-HI BÉ:



COMPLETA AMB EL MATEIX NÚMERO DE RATLLETES:



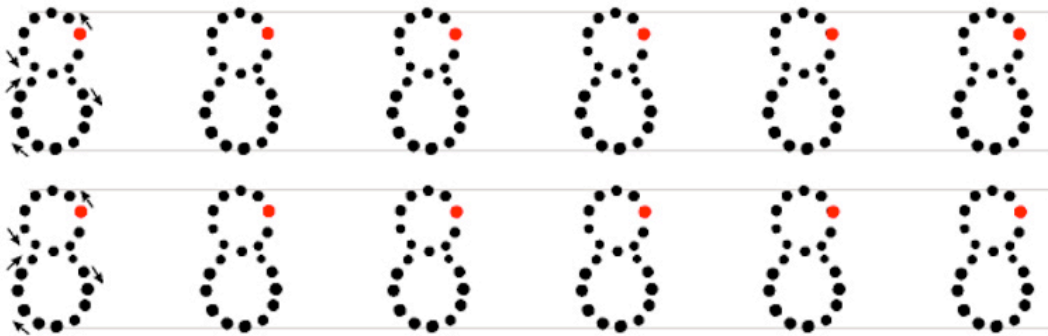

COPIA LA SÈRIE A LES BANDEROLES



NOM:

DATA:

RESSEGUEIX EL NÚMERO 8



laclassede-laurene.blogspot.com


PRACTICA EL NÚMERO 8

PINTA VUIT ELEMENTS DE CADA FILERA





zaubette.eklablog.com (adaptació)

FEM UN SUDOKU?



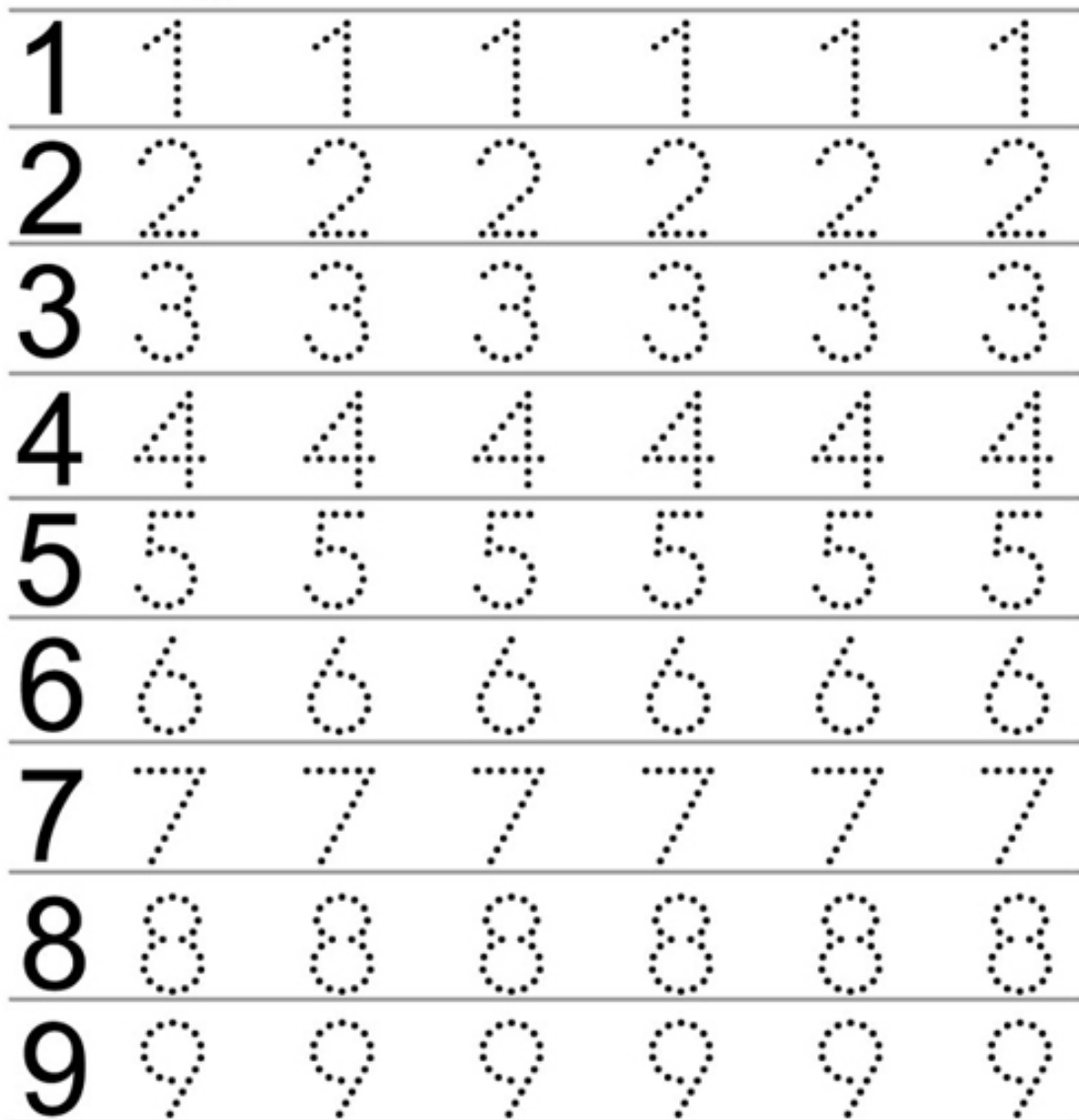
COMPTA I RELACIONA



NOM:

DATA:

RESSEGUEIX ELS NÚMEROS



www.razvitierbenka.com

ENGANXA 7 GOMETS



T'ENRECORDES DEL NÚMERO 5?

PINTA TOTS ELS CERCLES QUE TINGUIN 5 O LA SEVA QUANTITAT

A central cloud-shaped frame contains the number 5. Surrounding it are 20 circles, each containing a different representation of the number 5: the digit '5', a ten-frame with 5 dots, a domino with 5 dots, a ten-frame with 5 empty boxes, a ten-frame with 5 dots, a ten-frame with 5 empty boxes, a ten-frame with 5 dots, a ten-frame with 5 empty boxes, a ten-frame with 5 dots, a ten-frame with 5 empty boxes, a ten-frame with 5 dots, a ten-frame with 5 empty boxes, a ten-frame with 5 dots, a ten-frame with 5 empty boxes, a ten-frame with 5 dots, a ten-frame with 5 empty boxes, a ten-frame with 5 dots, a ten-frame with 5 empty boxes, a ten-frame with 5 dots, a ten-frame with 5 empty boxes.

kindergartenirreat.blogspot.com.es

ACABA LES SÈRIES:

Two rows of ten frames for a dot pattern sequence. The first row shows a sequence of 6 frames: 1 dot, 2 dots, 1 dot, 2 dots, 1 dot, 2 dots, followed by 4 empty frames. The second row shows a sequence of 6 frames: 1 dot, 2 dots, 3 dots, 1 dot, 2 dots, 3 dots, followed by 4 empty frames.

Sally Johnson / Sara Inés Gómez 123 MANÍA

NOM:

DATA:

COMPTA I PRACTICA ELS NÚMEROS




ACABA LA SÈRIE

T


L

T

ENGANXA AL CORDILL ELS
GOMETS QUE INDICA
L'ETIQUETA



UNEIX ELS PUNTS
PER ORDRE



NOM:

DATA:

FES EL CAMÍ DEL 8. RESSEGUEIX EL NÚMERO 8

www.schoolsparks.com

8	8	3	8	8	8	8
8	6	8	3	0	8	
8	0	8	8	6	8	
8	9	2	8	5	8	
8	8	5	8	9	8	
3	8	8	8	3	8	8

FES UN GRUP DE 8 ELEMENTS A CADA FILERA




zaubette.eklablog.com

CONTINUA LA SÈRIE NUMÈRICA DES DEL NÚMERO QUE S'INDICA

1-2-3-4-5-6-7-8-9-10

3				
5				
2				
4				










ENGANXA 8 GOMETES A LA CAIXA DEL CAMIÓ



NOM:

DATA:

FES EL CAMÍ DEL 8

8		1	4	9
	7	6		7
8	8		7	
	9	8		5
8		8	2	

pepourtavie.eklablog.com

QUIN NÚMERO FALTA?

www.razvitierbenka.com


1		3	5		7	7		9
2		4	6		8	4		6

NECESSITES UNA PISTA?


1 2 3 4 5 6 7 8 9

PINTA SEGONS LA CONSIGNA

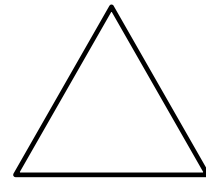
(Demana a l'alumne que pinti primer les tres figures de la consigna)



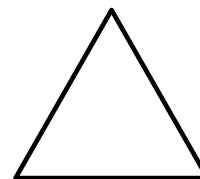


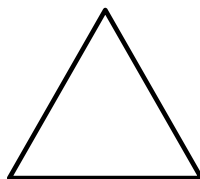
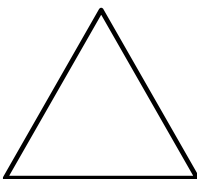
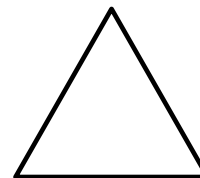
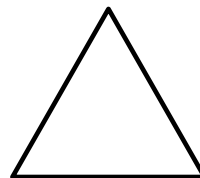

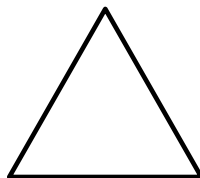
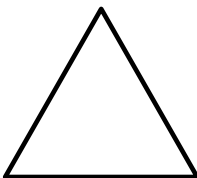




















4 VERMELL



7 GROC



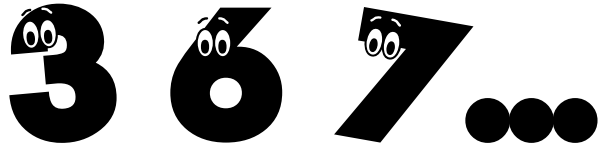
8 VERD



NOM:

DATA:

DICTAT DE NÚMEROS



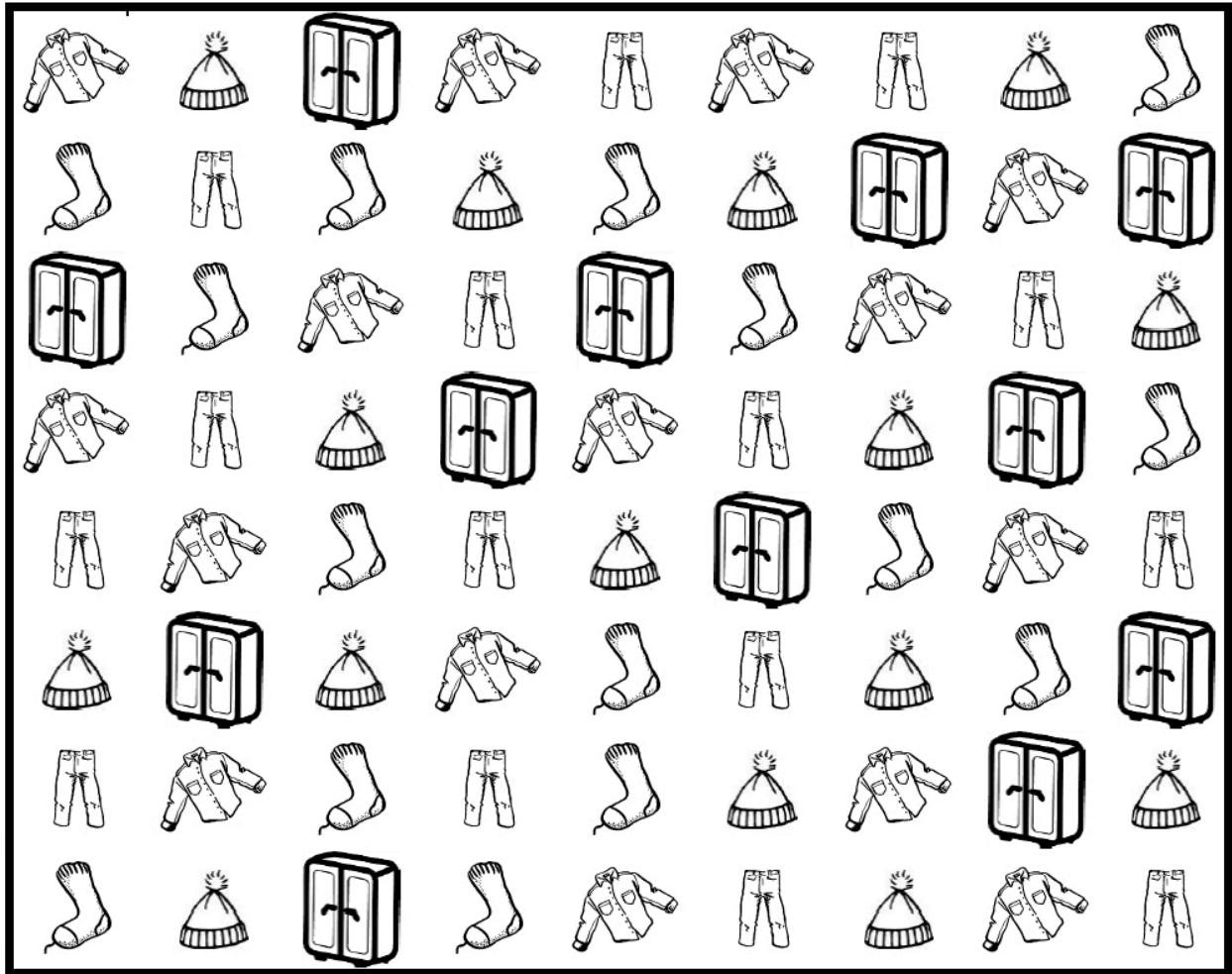
RESSEGUEIX LA SÈRIE NUMÈRICA...

1 2 3 4 5 6 7 8 9

... I COPIA-LA A L'INREVÉS

9			6					1
---	--	--	---	--	--	--	--	---

COMPTA I PINTA SEGONS LA CONSIGNA



<http://dixmois.eklablog.com>

dixmois.eklablog.com

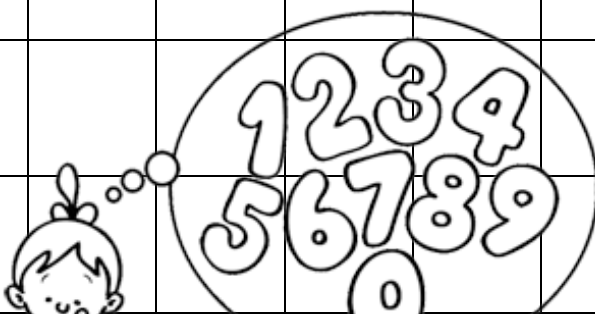
PECES DE ROBA	COLORS	NÚMERO DE PECES PINTADES
	BLAU	5
	VERD	8
	GROC	7
	ROSA	6

NOM:

DATA:

FES CREUS A LES CASELLES QUE S'INDICA. RESSEGUEIX ELS NÚMEROS

5	X	X	X	X	X						5	5	5	5
7											7	7	7	7
3											3	3	3	3
8											8	8	8	8
6											6	6	6	6
4											4	4	4	4
2											2	2	2	2



FEM UN SUDOKU?

	2	3	
3	4		2
2		4	1
4	1	2	



Stefan Heine / Mi primer sudoku (Ed. SM)













ACABA LES SÈRIES




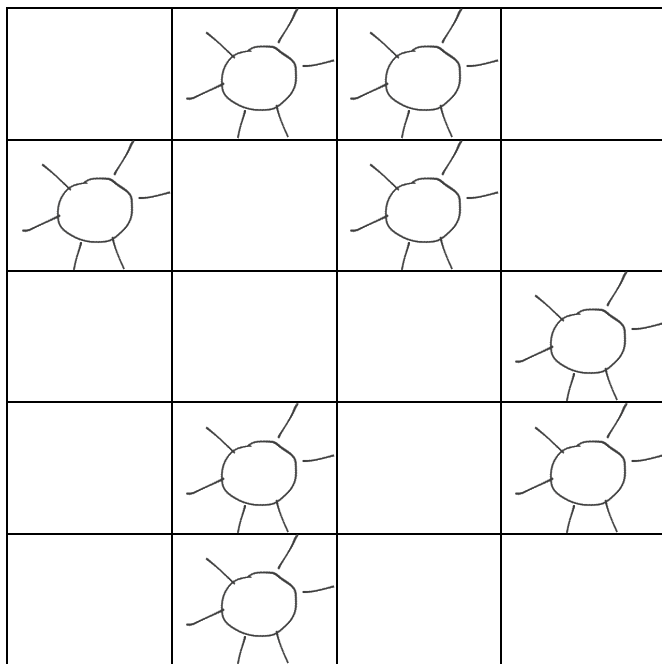
NOM:

DATA:

ENCERCLA EL NÚMERO CORRESPONENT A CADA COL·LECCIÓ

	6	7
	3	4
	8	7
	8	9
	6	5
	8	7
	4	5
	7	8
	7	6
	4	5
	9	8
	5	4

REPRODUEIX ELS DIBUIXOS A LA QUADRÍCULA DEL COSTAT



TROBA EL NÚMERO 8. ENCERCLA'L



3 6 2 9 8 5

6 9 8 6 3 8 4


9 0 6 8 8 7

8 3 6 5 8 2 3 3

NOM:

DATA:

COMPTA I PINTA SEGONS LA CONSIGNA



<http://dixmois.eklablog.com/>

dixmois.eklablog.com

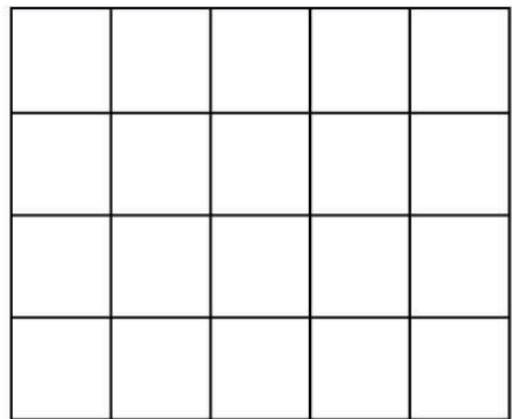
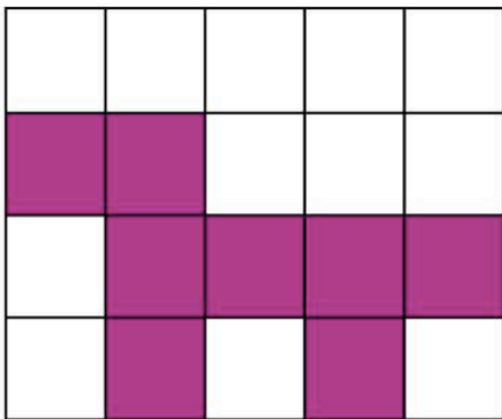
ANIMALS	COLORS	NÚMERO D'ANIMALS PINTATS
	LILA	7
	ROSA	8
	GROC	6
	MARRÓ	7

QUIN NÚMERO FALTA?

brimar333.blogspot.com

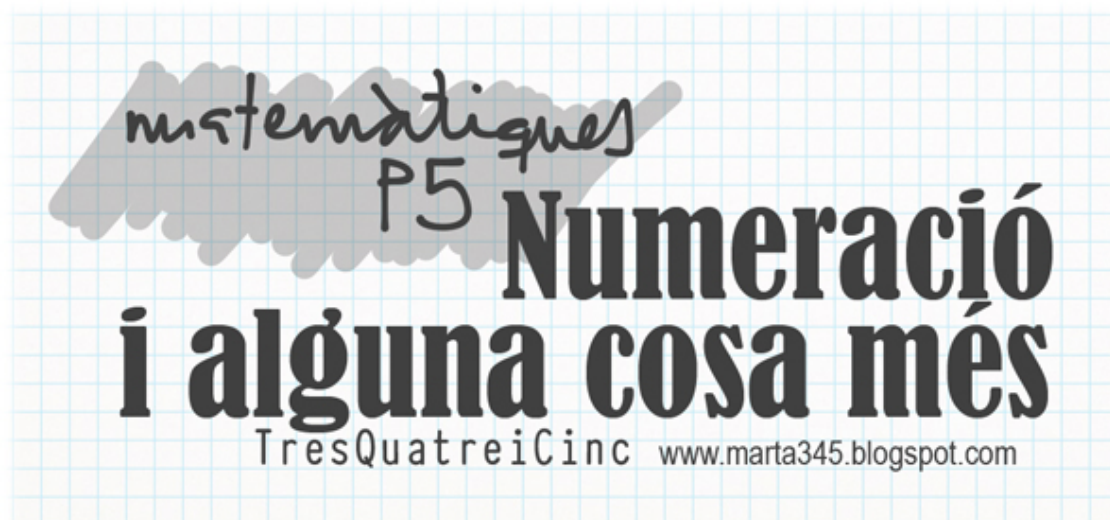
	2			1			3	
	7			5			8	
	9			7			6	

COPIA LA FIGURA AL COSTAT



exofiches.net

1 2 3 4 5 6 7 8 9 10 11 ...



3r Trimestre

FITXA 1	<p>Davant. Introducció al número 9. Quantitat: Identificar els conjunts de 9 elements. Practicar la grafia del 9. Enganxar 9 gomets.</p> <p>Darrere. Lògica: Sudoku. Sèrie numèrica: Completar la sèrie del dret i l'inrevés. Trobar el número anterior i posterior.</p>
FITXA 2	<p>Davant. Grafia: Resseguir i practicar la grafia del 9. Lògica: acabar la sèrie</p> <p>Darrere. Quantitat: Comptar i acolorir segons les consignes indicades a la taula.</p>
FITXA 3	<p>Davant. Grafia: els números i el seu nom. Escriure el nom a sota de cada número.</p> <p>Darrere. Quantitat i grafia: Completar la taula mitjançant les diverses maneres de simbolitzar els números: grafia numèrica (resseguir), paraules, creuetes i palets.</p>
FITXA 4	<p>Davant. Sèrie numèrica: Completar la sèrie del dret i l'inrevés. Trobar el número anterior i posterior. Orientació espacial: Reproduir el model a la quadrícula del costat.</p> <p>Darrere. Grafia: identificar la grafia del 9. Quantitat: Enganxar 9 gomets sobre la ratlla.</p>
FITXA 5	<p>Davant. Resseguir grafia del número 9. Quantitat: Comptar elements i triar el número corresponent.</p> <p>Darrere. Percepció visual i atenció: trobar les figures iguals al model. Numeració: contestar preguntes SI/NO relatives al nom dels números.</p>
FITXA 6	<p>Davant. Grafia: Identificació de la grafia del 9, seguir el camí. Lògica: acabar la sèrie.</p> <p>Darrere. Quantitat: Comptar conjunts d'elements.</p>

FITXA 7	<p>Davant. Sèrie numèrica: Seguir el camí de la sèrie numèrica fins al 10. Copiar els números en ordre a les banderoles.</p> <p>Darrere. Orientació espacial: practicar la codificació de desplaçaments en una quadrícula. Quantitat: Enganxar 10 gomets.</p>
FITXA 8	<p>Davant. Grafia: Identificar les grafies dictades i traçar-les dins de les siluetes. Orientació espacial: Reproduir el model a la quadrícula del costat.</p> <p>Darrere. Quantitat: Comptar i acolorir segons les consignes indicades a la taula.</p>
FITXA 9	<p>Davant. Quantitat: Comptar les col·leccions i encerclar el número correcte.</p> <p>Darrere. Lògica: Sudoku. Sèrie numèrica: completar la sèrie dins dels cucs numèrics.</p>
FITXA 10	<p>Davant. Grafia: Resseguir el darrer tros de la sèrie numèrica fins al 10. Quantitat: Pintar tants elements de cada col·lecció com indica el número.</p> <p>Darrere. Orientació espacial: practicar la codificació de desplaçaments en una quadrícula. Quantitat: enganxar 9 i 10 gomets als espais corresponents.</p>
FITXA 11	<p>Davant. Grafia: Identificació de la grafia del 10, seguir el camí. Sèrie numèrica: Completar la sèrie del dret i l'inrevés. Trobar el número anterior i posterior.</p> <p>Darrere. Quantitat: Fer paquets de peixos segons el nombre que s'indica. Orientació espacial: practicar la codificació de desplaçaments en una quadrícula.</p>
FITXA 12	<p>Davant. Quantitat: Comptar i acolorir segons les consignes indicades a la taula.</p> <p>Darrere. Percepció visual i atenció: trobar les figures iguals al model. Quantitat: Fer correspondre "tants elements com" els que conté el conjunt de mostra (dinosaurès).</p>


NOM:

DATA:

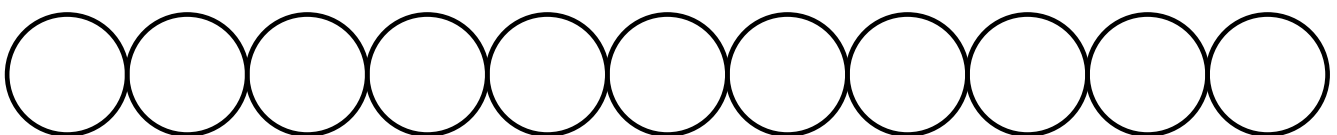
EL NÚMERO 9

9

COMPTA I ENCERCLA ON HI HA 9:



PRACTICA EL NÚMERO 9 I ENGANXA 9 GOMETS



FEM UN SUDOKU?

	4	2	1
2		3	4
1	2	4	
	3		2



Stefan Heine / Mi primer sudoku (Ed. SM)

SÈRIE NUMÈRICA

1		3		5	6		8		10
10		8	7			4	3		

www.razvitierbenka.com

	3	
--	---	--

	7	
--	---	--

NOM:

DATA:

1 - 2 - 3 - 4 - 5 - 6 - 7 - 8 - 9 - 10

RESSEGUEIX I PRACTICA EL NÚMERO



9	9	9	9	9	9
9	9	9	9	9	9


ACABA LA SÈRIE

	—	+									
--	---	---	--	--	--	--	--	--	--	--	--

•	••	•••	••••								
---	----	-----	------	--	--	--	--	--	--	--	--





exofiches.net

PINTA SEGONS LA CONSIGNA



http://dixmois.eklablog.com/

I OMPLE LA GRAELLA:

ANIMALS	COLORS	NÚMERO ANIMALS PINTATS	NÚMERO ANIMALS NO PINTATS
	VERMELL	4	
	VERD	7	
	GROC	9	
	BLAU	8	

NOM:

DATA:

EL NOM DELS NUMEROS

1

UN

2

DOS

3

TRES

4

QUATRE

5

CINC

6

SIS

7

SET

8












VUIT

9

NOU



COMPLETA LA TAULA

								
		TRES						
								
								

NOM:

DATA:

1 - 2 - 3 - 4 - 5 - 6 - 7 - 8 - 9 - 10

DE L'1 AL 10 I A L'INREVÉS!!!

	2	3				7		9	
	9			6	5				1

www.razvitierbenka.com

1		3
---	--	---

7		9
---	--	---

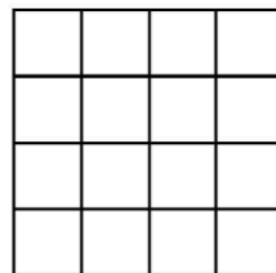
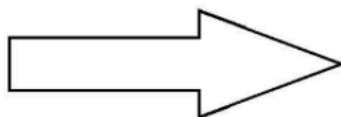

5		7
---	--	---

	4	
--	---	--

	6	
--	---	--

	8	
--	---	--

COPIA A LA QUADRÍCULA DEL COSTAT



www.fiche-maternelle.com

BUSCA I ENCERCLA EL NÚMERO



0	1	2	5	7	8	9	6	4	3
9	1	4	2	5	3	8	7	6	0
8	6	7	9	4	5	3	1	2	0
0	6	5	4	1	3	2	9	7	8
5	4	6	9	7	8	3	1	2	0
0	9	7	8	5	4	6	2	1	3
2	1	3	0	9	7	8	4	6	5
8	7	9	3	1	2	4	5	6	0
8	7	9	6	4	5	0	2	1	3
1	3	2	0	6	5	4	8	7	9

© caboucadin.com est une marque déposée. Tous droits réservés.

Caboucadin.com

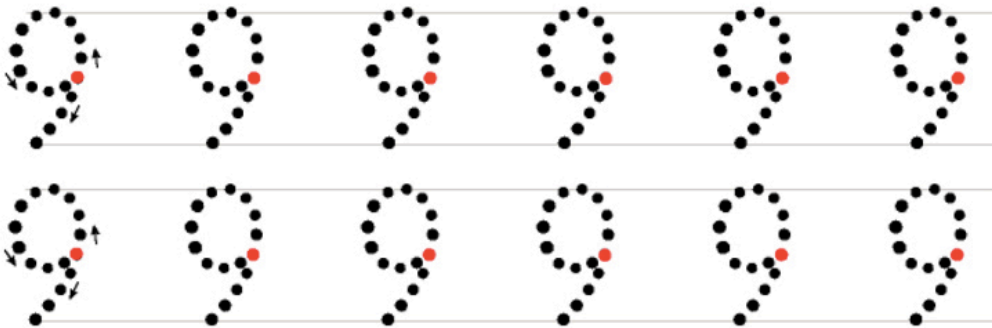


ENGANXA 9 GOMETS SOBRE LA RATLLA



NOM:

DATA:

RESSEGUEIX EL NÚMERO 9



laclassedelaurene.blogspot.com

COMPTA LES COL·LECCIONS I TRIA EL NÚMERO



5

4


6



6

9

5



6

5

7



3

5

7




7

4

9

webinstit.net

molta atenció!!!! QUINS SÓN IGUALS AL MODEL?



www.orientacionandujar.es

DIGUES SI O NO

4	ÉS EL NÚMERO QUATRE	
6	ÉS EL NÚMERO VUIT	
9	ÉS EL NÚMERO NOU	

NOM:

DATA:

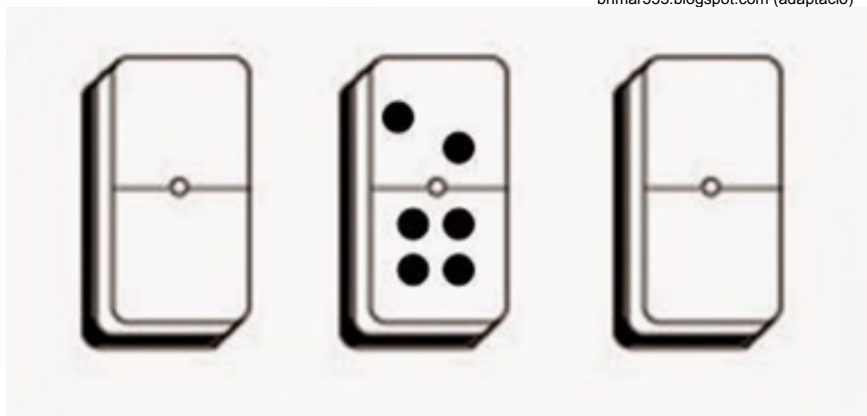
FES EL CAMÍ DEL 9. RESSEGUEIX EL NÚMERO 9

www.schoolsparks.com








9	9	0	9	9	9	9
9	3	9	6	0	9	
9	2	9	9	2	9	
9	8	5	9	7	9	
9	9	0	9	8	9	
6	9	9	9	6	9	9

ACABA LA SÈRIE

brimar333.blogspot.com (adaptació)


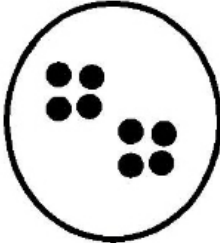




A COMPTAR UNA ESTONA!

	1 2 3 4 5 6 7 8
	1 2 3 4 5 6 7 8
	1 2 3 4 5 6 7 8
	1 2 3 4 5 6 7 8
	1 2 3 4 5 6 7 8
	1 2 3 4 5 6 7 8
	1 2 3 4 5 6 7 8

lejournaldechrys.blogspot.com

I UNA MICA MÉS...

			
<input type="text" value="6"/>	<input type="text"/>	<input type="text" value="5"/>	<input type="text"/>



www.fiche-maternelle.com

NOM:

DATA:

1 - 2 - 3 - 4 - 5 - 6 - 7 - 8 - 9 - 10

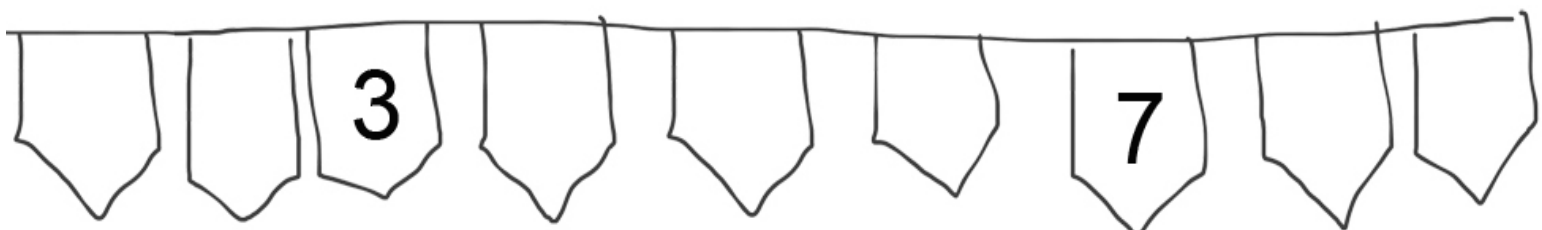
LABERINT DE NÚMEROS

		8	7	6	5
		1	2	3	9
3	9	5	8	4	1
1	10	7	6	5	3
4	6	8	3		
5	2	9	10		

www.education.com

COPIA ELS NÚMEROS EN ORDRE

4 3 9 5 7 2 6 1 8



COPIA A LA GRAELLA EL CODI DEL CAMÍ QUE FA EL LLOP PER TROBAR EL PORQUET



→	→	→				
		↓				
		↓	→	→		
				↓		
				→	→	↓

→									
---	--	--	--	--	--	--	--	--	--



exercicesmaternelle.blogspot.com / exomaternelle.eu

ENGANXA 10 GOMETS



NOM:


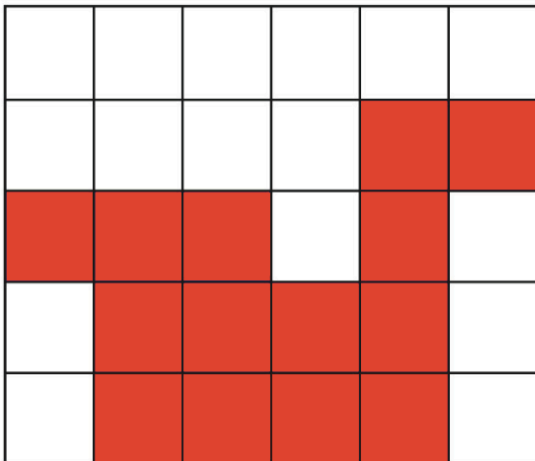
DATA:

DICTAT DE NÚMEROS. TRAÇA ELS NÚMEROS DICTATS




Sally Johnson / Sara Inés Gómez 123 MANÍA

COPIA EL MODEL A LA QUADRÍCULA DEL COSTAT







www.generation5.fr

PINTA SEGONS LA CONSIGNA



<http://dixmois.eklablog.com/>













I OMPLE LA GRAELLA:

ANIMALS	COLORS	NÚMERO ANIMALS PINTATS	NÚMERO ANIMALS NO PINTATS
	BLAU	5	
	VERD	9	
	GROC	7	
	VERMELL	8	

NOM:


DATA:

COMPTA I ENCERCLA EL NÚMERO CORRESPONENT A CADA COL·LECCIÓ

	3	4
	3	6
	7	6
	8	6
	9	10
	6	7
	4	3
	3	5
	4	5
	9	8
	7	6
	7	6

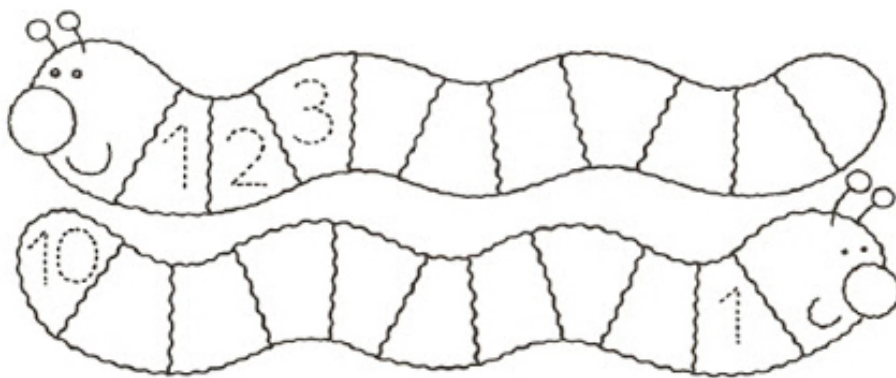
La classe maternelle www.laclassed.fr

FEM UN SUDOKU?



Stefan Heine / Mi primer sudoku 123 MANÍA

COMPLETA ELS CUCS NUMÈRICS:



1 2 3 4 5 6 7 8 9 10



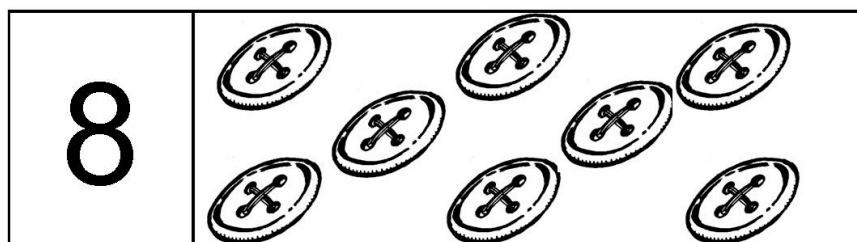
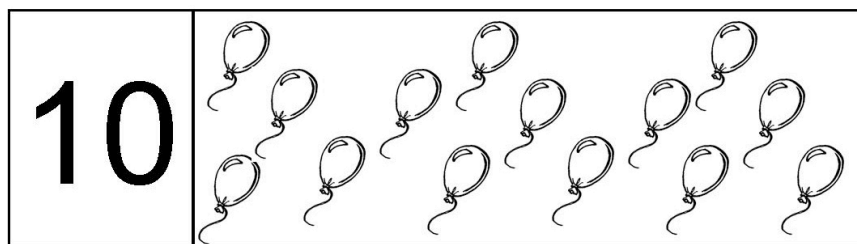


Sally Johnson / Sara Inés Gómez 123 MANÍA

NOM:

DATA:

... 7 8 9 10
... 7 8 9 10
... 7 8 9 10

PINTA ELS DIBUIXOS QUE INDICA CADA NÚMERO



laclassededelphine.jimdo.com

MIRA EL CODI DE FLETXES I MARCA EL CAMÍ DEL LLOP A LA GRAELLA

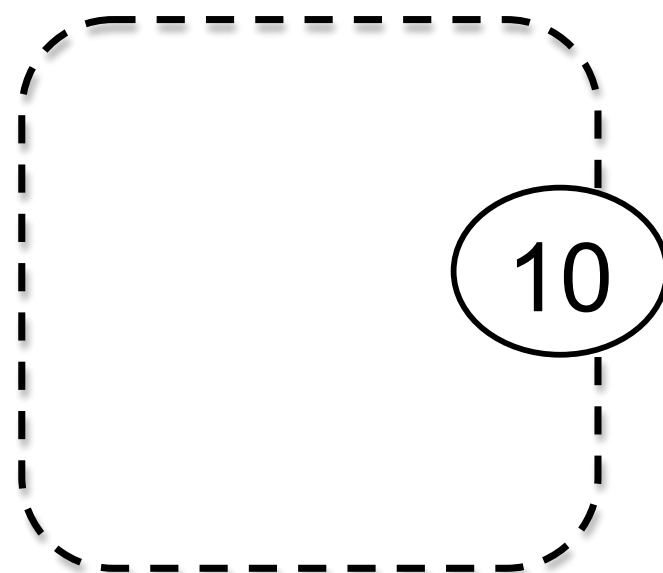
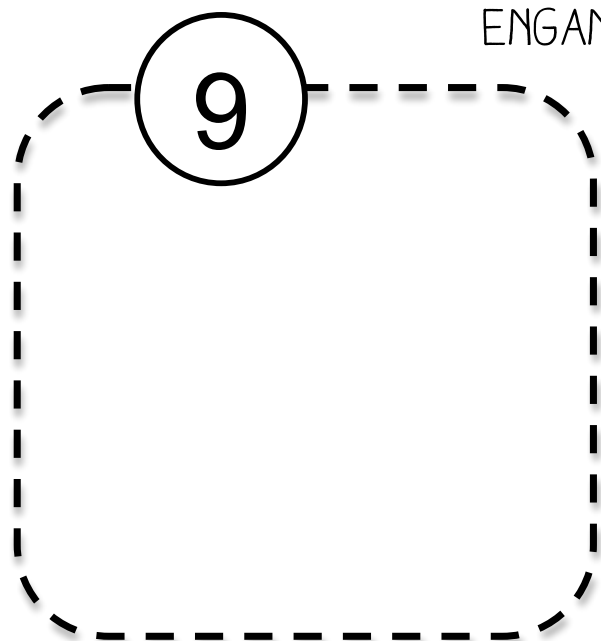


→						



exercicesmaternelle.blogspot.com / exomaternelle.eu

ENGANXA GOMETS



NOM:

DATA:

FES EL CAMÍ DEL 10. RESSEGUEIX EL NÚMERO 10

www.schoolsparks.com

DE L'1 AL 10 I A L'INREVÉS!!!







1			4	5			8		
10		8		6		4		2	

www.razvitierbenka.com

5			2			7		
---	--	--	---	--	--	---	--	--

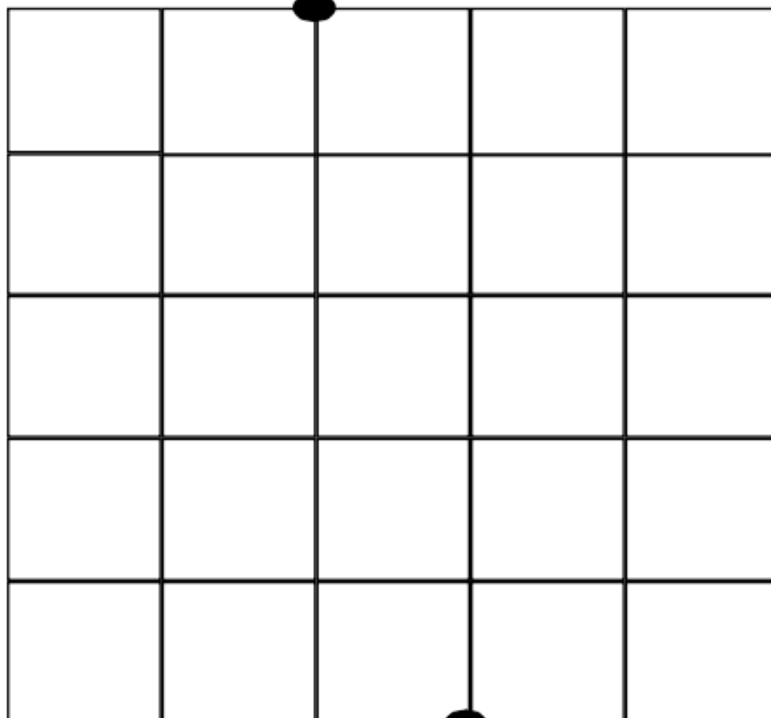

	2			3			7	
--	---	--	--	---	--	--	---	--

FES UN PAQUET I PINTA EL NÚMERO DE PEIXOS QUE S'INDICA

	6
	3
	4
	7
	5
	2

exercicesmaternelle.blogspot.com

REALITZA EL DESPLAÇAMENT INDICAT




webinstit.net



NOM:

DATA:

PINTA SEGONS LA CONSIGNA




http://dixmois-eklablog.com/

www.dixmois.fr

I OMPLE LA GRAELLA:





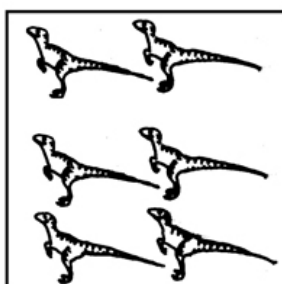

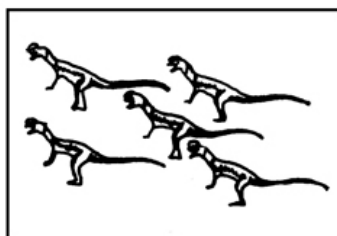
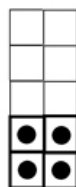
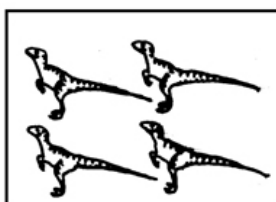
EINES	COLORS	NÚMERO D'EINES PINTADES	NÚMERO D'EINES NO PINTADES
	GROC	10	
	GRIS	9	
	VERMELL	6	
	VERD	8	

Molta atenció!!! QUINS SÓN IGUALS AL MODEL?



www.orientacionandujar.es

OMPLE LES GRAELLES AMB "TANTS PUNTS COM... DINOS"



ecolematernellegellow.over-blog.com