


TABLAS DE MULTIPLICAR:

¿Qué número representa cada figura geométrica?




2 - 4 -  - 8 - 10 - 12 - 14 - 16 - 18 - 20


3 - 6 - 9 - 12 - 15 - 18 -  - 24 - 27 - 30


4 - 8 - 12 - 16 - 20 - 24 - 28 - 32 -  - 40


5 - 10 - 15 - 20 - 25 - 30 -  - 40 - 45 - 50

6 -  - 18 - 24 - 30 - 36 - 42 - 48 - 54 - 60

7 - 14 - 21 - 28 - 35 - 42 -  - 56 - 63 - 70

8 - 16 - 24 -  - 40 - 48 - 56 - 64 - 72 - 80

9 - 18 - 27 - 36 - 45 - 54 - 63 - 72 -  - 90

10 - 20 - 30 - 40 -  - 60 - 70 - 80 - 90 - 100