




Tarjetas con problemas matemáticos sencillos: Operaciones de sumar y restar



Esta mañana he regado 4 plantas
y esta tarde 2, ¿cuántas macetas
he regado en total?

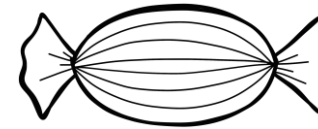


Orientación
Andújar

operación

resultado

Juan tiene 7 caramelos y le ha
dado a 3 a su hermana, ¿cuántos
caramelos le quedan?



Orientación
Andújar

operación

resultado

Martín tenía 9 canicas pero ha perdido 5, ¿cuántas canicas le quedan?



Orientación
Andújar

operación

resultado

Lara tiene seis gatos y dos perros, ¿cuántas mascotas tiene en total?



Orientación
Andújar

operación

resultado

Pablo tiene tres coches de juguete, y por su cumpleaños su abuela le regala 2, y su padre otros 2, ¿cuántas coches tiene en total Pablo?



Orientación
Andújar

operación

resultado

Mamá ha comprado 10 naranjas, pero María ha cogido 4 para hacer un zumo de naranja, ¿cuántas naranjas quedan?



Orientación
Andújar

operación

resultado


Sergio ha comprado una libreta que costaba 3 euros con un billete de 5 euros, ¿cuánto dinero le sobra?



operación

resultado


La abuela ha preparado 8 galletas pero 3 se han quemado y las tiene que tirar, ¿cuántas galletas quedan?



operación

resultado

Rafa tiene 9 cromos pero ha perdido 3 y le ha dado 2 a su amigo, ¿cuántos cromos le quedan?



Orientación
Andújar

operación

resultado

Paula se ha comprado dos camiseta que cuestan 6 euros cada una. ¿Cuánto se ha gastado en total?



Orientación
Andújar

operación

resultado

El ramo flores tiene 5 claveles, 3 rosas y 4 margaritas. ¿Cuántas flores tiene en total el ramo?

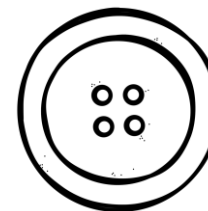


Orientación
Andújar

operación

resultado

La camisa de Ginés tenía 8 botones pero se le han caído 6. ¿Cuánto botones le quedan?



Orientación
Andújar

operación

resultado

Mamá ha comprado en el supermercado 5 botellas de aceite, si en casa ya teníamos 6 botellas. ¿Cuántas botellas tenemos en total?



Orientación
Andújar

operación

resultado

En el frigorífico había 12 latas de refrescos, papá se ha bebido 5 y mamá 4. ¿Cuántas latas quedan?




Orientación
Andújar

operación

resultado

Hemos comprado dos docenas de huevos pero 4 de ellos venían rotos. ¿Cuántos huevos hay en total?



Orientación
Andújar

operación

resultado

He leído 3 libros de piratas, 7 de fantasmas y 4 de dragones. ¿Cuántos libros he leído en total?



Orientación
Andújar

operación

resultado