


Problemas matemáticos con etiquetas



¿Cuánto cuesta cada cosa?

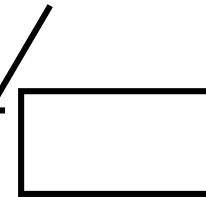

22 €



19 €

Se ha rebajado 3 €


15 €



Ha subido 5 €

¿Cuánto cuesta cada cosa?

26 €



Ha subido 8 €


11 €



Se ha rebajado 2 €

¿Cuánto cuesta cada cosa?

24 €



Ha subido 7 €


9 €



Se ha rebajado 3 €

¿Cuánto cuesta cada cosa?

7 €



Se ha rebajado 2 €

27 €



Ha subido 4 €



¿Cuánto cuesta cada cosa?

29 €



Se ha rebajado 11 €

18 €




Ha subido 5 €



¿Cuánto cuesta cada cosa?

24 €



Ha subido 4 €

30 €



Se ha rebajado 6 €

¿Cuánto cuesta cada cosa?

25 €



Se ha rebajado 8 €

12 €



Ha subido 5 €