



PROBLEMAS MATEMÁTICOS:


Ordena enunciados y resuelve



- Ordena los enunciados del siguiente problema matemático y resuélvelo:

Su hermana tiene 5 años más.
¿Cuántos años tiene su hermana?
Carlos tiene 6 años.

Operación




Resultado

- Ordena los enunciados del siguiente problema matemático y resuélvelo:

El resto son marrones.
Las gallinas han puesto 20 huevos.
¿Cuántos huevos son marrones?
De esos 20 huevos, 8 son blancos

Operación




Resultado

- Ordena los enunciados del siguiente problema matemático y resuélvelo:

Lucía tiene 10 globos.
¿Cuántos globos le quedan?
Se le han explotado 4 globos.

Operación



Resultado


- Ordena los enunciados del siguiente problema matemático y resuélvelo:

¿Cuánto dinero se ha gastado?

Y ha vuelto con 5 euros.

Marta llevaba en el monedero 12 euros al salir de casa.

Operación




Resultado

- Ordena los enunciados del siguiente problema matemático y resuélvelo:

Y su hermana le ha regalado 4.
¿Cuántas canicas tiene en total?
Lucas tienes 5 canicas.

Operación




Resultado

- Ordena los enunciados del siguiente problema matemático y resuélvelo:

Se han bajado 6 personas en la parada.
En el autobús hay 15 personas.
¿Cuántas personas quedan en el autobús?

Operación




Resultado

- Ordena los enunciados del siguiente problema matemático y resuélvelo:

En el jardín de la abuela hay 20 flores.
¿Cuántas flores quedan por regar?
Ana ha regado 9 flores.

Operación




Resultado

- Ordena los enunciados del siguiente problema matemático y resuélvelo:

¿Cuántos barcos hay ahora en el muelle?
En el muelle hay 8 barcos.
Esta tarde han llegado 3 barcos al muelle.

Operación



Resultado


- Ordena los enunciados del siguiente problema matemático y resuélvelo:

¿Cuánto le ha costado el libro?

Le devuelven 3 euros.

Javi se ha comprado un libro con un billete de 10 euros.

Operación



Resultado