



1. Iván tenía trece muñecas y en su cumpleaños le regalaron otras ocho. ¿Cuántas muñecas tiene ahora Iván?

Datos:	Operación:
--------	------------

Solución: \_\_\_\_\_

2. Ulises tiene 8 chapas y ha ganado 15 más. ¿Cuántas chapas tiene ahora Ulises?



Datos:	Operación:
--------	------------

Solución: \_\_\_\_\_

3. Mi padre tiene 47 años y mi hermano Jacobo tiene 15. ¿Cuántos años tiene mi padre más que Jacobo?

Datos:	Operación:
--------	------------

Solución: \_\_\_\_\_



4. Bernardo caminó 6 calles hasta el parque, 5 calles hasta la escuela y 7 calles hasta casa de su tío Alfredo. ¿Cuántas calles caminó en total?



Datos:	Operación:
--------	------------

Solución: \_\_\_\_\_

5. Magdalena ha ahorrado 45 euros para regalarle a su madre un ramo de flores que cuesta 21 euros. ¿Cuántos euros le sobrarán?



Datos:	Operación:
--------	------------

Solución: \_\_\_\_\_

6. En la escuela "Los revoltosos" hay 34 maestras y 21 maestros. ¿Cuántos maestr@s hay en total?



Datos:	Operación:
--------	------------

Solución: \_\_\_\_\_



7. En la familia de Elisabeth hay 48 primos de los cuales 25 son hombres. ¿Cuántas mujeres hay?

Datos:	Operación:
--------	------------

Solución: \_\_\_\_\_

8. En la clase de 1ºA hay 21 alumnos, en la de 1ºB hay 21 alumnos y en la de 1ºC hay 20 alumnos. ¿Cuántos alumnos de primero hay en total?



Datos:	Operación:
--------	------------

Solución: \_\_\_\_\_

9. En un bol hay 79 dulces. Si se sacan 24. ¿Cuántos dulces quedan en el bol?

Datos:	Operación:
--------	------------



Solución: \_\_\_\_\_



10. Julieta se comió cuatro chocolates, Gabriel cinco y Samuel seis. ¿Cuántos chocolates se comieron entre los tres?

<p>Datos:</p>	<p>Operación:</p>
---------------	-------------------

Solución: \_\_\_\_\_

11. Moisés tenía nueve bombones y se comió tres. ¿Cuántos bombones le quedan?



<p>Datos:</p>	<p>Operación:</p>
---------------	-------------------

Solución: \_\_\_\_\_

12. Raquel colecciona gomas de borrar. Su abuelo le regala 16 gomas y su abuela 13. ¿Cuántas gomas de borrar tiene Raquel ahora?

<p>Datos:</p>	<p>Operación:</p>
---------------	-------------------

Solución: \_\_\_\_\_





13. Carla tiene quince canicones y Antonio diecinueve canicones. ¿Cuántos canicones tiene Antonio más que Carla?

Datos:	Operación:
--------	------------

Solución: \_\_\_\_\_

14. Mi tía Felisa tenía en la cazuela once albóndigas y me sirvió tres. ¿Cuántas albóndigas le quedaron en la cazuela?




Datos:	Operación:
--------	------------

Solución: \_\_\_\_\_

15. En el frutero hay 8 mandarinas, 7 peras y 6 kiwis. ¿Cuánta fruta hay en el frutero?

Datos:	Operación:
--------	------------

Solución: \_\_\_\_\_



16. En un microbús viajan 19 pasajeros. Si en una parada suben 9 pasajeros más. ¿Cuántos pasajeros lleva ahora el microbús?



Datos:	Operación:
--------	------------

Solución: \_\_\_\_\_

17. Segismundo tenía 35 euros y gastó 13. ¿Cuántos euros le quedan a Segismundo?



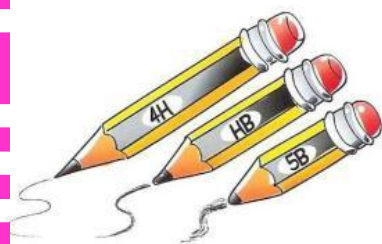
Datos:	Operación:
--------	------------

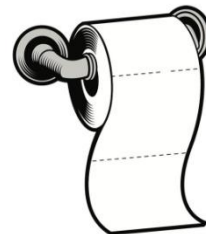
Solución: \_\_\_\_\_

18. Enrique tiene 19 lápices y regala 7 a un niño. ¿Cuántos lápices le quedan?

Datos:	Operación:
--------	------------

Solución: \_\_\_\_\_





19. Celeste compró 27 rollos de papel higiénico y ya ha usado 13 rollos. ¿Cuántos rollos de papel higiénico le quedan a Celeste?

Datos:	Operación:
--------	------------

Solución: \_\_\_\_\_

20. Me quedan por ver 37 minutos de una película. Si ya he visto 52 minutos. ¿Cuánto dura la película?



Datos:	Operación:
--------	------------

Solución: \_\_\_\_\_

21. En una huerta hay 43 manzanos y 56 cerezos. ¿Cuántos árboles frutales hay en la huerta?

Datos:	Operación:
--------	------------



Tree Collection

Solución: \_\_\_\_\_



Designed by Freepik



22. Mi padre tiene 45 años y mi madre tiene 42 años. ¿Cuántos años tienen entre los dos?

Datos:	Operación:
--------	------------

Solución: \_\_\_\_\_

23. Claudia ha recibido por su cumpleaños 24€ de sus abuelos y 35€ de sus padres. ¿Cuánto dinero ha recibido?



Datos:	Operación:
--------	------------

Solución: \_\_\_\_\_

24. Debajo de mi casa estamos jugando doce amigos y se van tres. ¿Cuántos continuamos jugando?

Datos:	Operación:
--------	------------



Solución: \_\_\_\_\_





25. En una bolsa grande de globos hay 70 y en una pequeña hay 25 globos. ¿Cuántos globos tendremos entre las dos bolsas?

Datos:	Operación:
--------	------------

Solución: \_\_\_\_\_

26. En mi aula hay 21 libros de animales y 38 libros de aventuras. ¿Cuántos libros podemos leer en el aula?



Datos:	Operación:
--------	------------

Solución: \_\_\_\_\_



27. Un albañil lleva 17 ladrillos en la carretilla y su ayudante 3 ladrillos menos, ¿Cuántos ladrillos lleva el ayudante?

Datos:	Operación:
--------	------------

Solución: \_\_\_\_\_

28. La granjera Dominga vende siete gallinas de las 19 que tiene. ¿Cuántas le quedan?



Datos:	Operación:
--------	------------

Solución: \_\_\_\_\_

29. En una granja hay 37 ovejas y 41 cerdos. ¿Cuántos animales viven en la granja?



Datos:	Operación:
--------	------------

Solución: \_\_\_\_\_

30. En una balda de la cocina hay 37 botellas y se rompen 5. ¿Cuántas botellas quedan?

Datos:	Operación:
--------	------------

Solución: \_\_\_\_\_

