




1. De los 48 alumnos de las clases de 2º de primaria que iban a ir de excursión a la fábrica de sobaos, finalmente van 39. ¿Cuántos niños han faltado?



Datos:	Operación:
--------	------------

Solución: _____

2. En una clase de 24 niñ@s, el maestro reparte un libro a cada uno pero hoy han faltado 7 alumn@s. ¿Cuántos libros ha repartido el maestro?



Datos:	Operación:
--------	------------

Solución: _____

3. Laro tiene 139 bolas verdes y compra 12 bolas azules. ¿Cuántas bolas tiene en total?

Datos:	Operación:
--------	------------



Solución: _____

4. ¿Cuántos libros tiene Ginés en su casa, si tiene 25 en su habitación, 18 en el salón y 7 en el desván?



Datos:	Operación:
--------	------------

Solución: _____



5. Deva tiene 122 euros en su hucha, su madre le da 13 y su abuela 5. ¿Cuántos euros tiene en total?

Datos:	Operación:
--------	------------

Solución: _____

6. Talía tiene una bolsa con 178 caramelos para ella y sus amigos. Si ya ha repartido 23. ¿Cuántos le quedan por repartir para terminar la bolsa?

Datos:	Operación:
--------	------------

Solución: _____




7. Vanesa tiene 128 sellos, Neco 119 y Ana 139.
¿Cuántos sellos tienen entre los tres?



Datos:	Operación:
--------	------------

Solución: _____

8. Pablo tiene 135 cartas de sus dibujos favoritos "Bob Esponja", y su hermano Fabián 58.



a) ¿Cuántas cartas tienen entre los dos?

Datos:	Operación:
--------	------------

Solución: _____

b) ¿Cuál es la diferencia de cartas entre Pablo y Fabián?

Datos:	Operación:
--------	------------



Solución: _____

10. Yoana tiene 28 fotos de cantantes, 39 de jugadoras de baloncesto y 12 de actores.




a) ¿Cuántas fotos tiene en total?

Datos:	Operación:

Solución: _____

b) Yoana quiere guardar las fotos en un álbum. Si en el álbum caben 55 fotos, ¿Cuántas quedarán sin guardar?



Datos:	Operación:

Solución: _____

c) ¿Cuántas más fotos de jugadoras de baloncesto tiene que de cantantes?

Datos:	Operación:

Solución: _____



13. Enrique espera al autobús para ir al colegio. En el autobús viajan ocho personas. En su parada se suben trece y en la siguiente parada suben veintidós más.



a) ¿Cuántas personas viajan ahora en el autobús?

Datos:	Operación:
--------	------------

Solución: _____

b) ¿Cuántas personas más se suben en la segunda parada que en la primera?



Datos:	Operación:
--------	------------

Solución: _____

c) Si en una tercera parada se suben quince personas, ¿Cuál es la diferencia de pasajeros entre la segunda y la tercera parada?

Datos:	Operación:
--------	------------



Solución: _____



64€



41€



32€



27€



99€



125€

a) ¿Cuánto pagaré por...

...el lego y la cocinita?

...la barbie y la bicicleta?

b) ¿Cuánto más cuesta...

...la batería que la bicicleta?

...el triciclo que el lego?

c) Si pago con 100€, ¿Cuánto me devolverán al comprar...

...la cocinita?

...la bicicleta?



2€

3€

7€

6€

15€

17€

a) ¿Cuánto pagaré por...

...el pincho de tortilla y los quesos?

...las croquetas y el jamón?

b) ¿Cuánto menos cuestan...

...las gildas que los mejillones?

...los mejillones que el jamón?

c) Si pago con 50€, ¿Cuánto me devolverán al comprar...

... el jamón?

...los quesos?



Pingüino 1:
26 peces



Pingüino 2:
14 peces



Pingüino 3:
37 peces



Pingüino 4:
18 peces

a) ¿Cuántos peces se han comido...

...entre el pingüino 2 y 3?

...entre el pingüino 1 y 4?

b) ¿Cuál es la diferencia de peces...


...entre el pingüino 1 y el 3?

...entre el pingüino 2 y el 4?

c) ¿Cuántos más peces se ha comido el pingüino...

... 3 que el pingüino 4?

... 1 que el pingüino 2?



13Km

14km



19km



21km



17Km

a) ¿Cuántos kilómetros menos ha recorrido el caracol...

...7 que el 5?

...6 que el 1?

b) ¿Cuántos kilómetros han recorrido...

...entre el caracol 5 y el 3?

...entre el caracol 1 y el 7?

c) Para llegar a hacer 30 kilómetros, ¿Cuántos le faltan...

... al caracol 5?

... al caracol 1?



Islas Canarias
165€



Acuario de
Gijón 112€



Dinópolis en
Teruel 125€



Disneyland
París 279€

a) ¿Cuánto dinero te costará si quieres ir a...

...Disneyland y al acuario de Gijón?

...Canarias y a Dinópolis en Teruel?

b) Si pagas con 200€, ¿Cuánto dinero te sobraré al pagar...

...el acuario de Gijón?

...Dinópolis en Teruel?

c) ¿Cuánto dinero más vale ir a...

... Disneyland que a Canarias?

... Dinópolis que al acuario de Gijón?