

1. En el frigorífico hay 24 refrescos de limón, 18 de cola y 6 de naranja. ¿Cuántos refrescos hay en total?



Datos:	Operación:
--------	------------

Solución: _____

2. En un bosque había 328 pinos. Si se queman 67, ¿Cuántos pinos quedan en el bosque?



Datos:	Operación:
--------	------------

Solución: _____

3. Adela tiene el doble de años que su hermano Kiko, que tiene 9 años. ¿Cuántos años tiene Adela?



Datos:	Operación:
--------	------------

Solución: _____



4. En un rebaño había 354 ovejas, pero un ladrón secuestra 55. Si por una oveja pagan 300€, ¿Cuántas ovejas quedan en el rebaño?



Datos:	Operación:
--------	------------

Solución: _____

5. Flavio tiene 14 juegos de ordenador y su hermana, el triple. ¿Cuántos juegos tiene la hermana de Flavio?



© dak

Datos:	Operación:
--------	------------

Solución: _____

6. Benito ha comprado 6 helados de 3 euros cada uno. ¿Cuántos euros ha tenido que pagar?



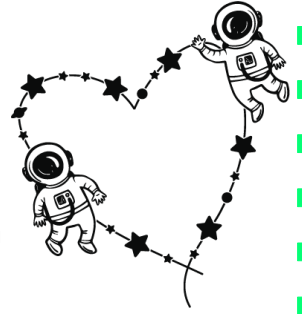
Datos:	Operación:
--------	------------



Solución: _____



7. Dos astronautas han realizado 562 órbitas alrededor de la Tierra. ¿Cuántas les faltan para regresar si en total han de efectuar 746?



Datos:	Operación:
--------	------------

Solución: _____

8. Saúl está leyendo un libro que tiene 348 páginas, y ya ha leído 146. ¿Cuántas páginas le faltan por leer?



Datos:	Operación:
--------	------------

Solución: _____

9. Un ovillo tiene 30 metros de lana. Mi abuela me encarga que la compre el triple de lana. ¿Cuántos metros de lana necesita mi abuela?



Datos:	Operación:
--------	------------

Solución: _____





10. Los niños y niñas del colegio han inflado 45 globos de colores para la fiesta de final de curso pero 7 de ellos se han explotado antes de colocarlos. ¿Cuántos globos quedan para decorar la fiesta?

Datos:	Operación:
--------	------------

Solución: _____

11. Un rosal ha dado en el mes de abril 53 rosas. Si se han vendido 48 de esas rosas, ¿Cuántas han quedado sin vender?



Datos:	Operación:
--------	------------

Solución: _____

12. Tengo 8 chapas y mi amigo Héctor, el doble. ¿Cuántas chapas tiene Héctor?



Datos:	Operación:
--------	------------




Solución: _____



13. Un panadero que trabaja en la panadería "La Pesa" hizo el primer día de trabajo 148 panes, el segundo día 187 panes y el tercer día llegó hasta 200. ¿Cuántos panes hizo en total?

Datos:	Operación:
--------	------------

Solución: _____



14. En una calle hay tres filas de árboles y en cada fila hay nueve árboles. ¿Cuántos árboles hay en la calle?

Datos:	Operación:
--------	------------

Solución: _____

15. Durante un mes en una tienda se han vendido 47 pantalones y 72 chaquetas. ¿Cuántas chaquetas más que pantalones se vendieron durante dicho mes?



Datos:	Operación:
--------	------------



Solución: _____



16. Una entrada a un concierto de rock cuesta 18€. ¿Cuánto habrá que pagar si vamos al concierto Maya, Alana, Leyre y yo?



Datos:	Operación:
--------	------------

Solución: _____

17. Álvaro al salir del colegio ha caminado 650 pasos hasta la frutería. Ha comprado fruta y ha ido hasta su casa que está a 375 pasos. ¿Cuántos pasos ha caminado?



Datos:	Operación:
--------	------------

Solución: _____

18. Hoy me toca fregar la vasija. Si somos 8 en casa y cada uno ha ensuciado 3 platos. ¿Cuántos platos tendré que fregar?

Datos:	Operación:
--------	------------

Solución: _____





19. En la Bahía de Santander se celebra el Campeonato Mundial de Vela y así han quedado las posiciones de sus regatistas:

a) ¿Cuánto suman el cuarto, quinto y sexto puesto juntos?

Datos:	Operación:
--------	------------

Solución: _____

b) ¿Cuál es la diferencia entre el primer y segundo puesto?

Datos:	Operación:
--------	------------

Solución: _____

c) ¿Cuál es la diferencia entre el tercer y último puesto?

Datos:	Operación:
--------	------------

Solución: _____



22. Claudio va a su tienda preferida a comprarse ropa.

a) ¿Cuánto dinero le costará llevarse las tres cosas?

Datos:	Operación:
--------	------------



Solución: _____

b) ¿Cuánto menos vale la camisa que los vaqueros?

Datos:	Operación:
--------	------------

Solución: _____

c) Si decide sólo llevarse los zapatos y paga con un billete de 100€, ¿Cuánto dinero le sobraré?

Datos:	Operación:
--------	------------

Solución: _____





25. ¡¡¡Nos vamos de restaurante!!!. Son las dos de la tarde y estamos muy hambrientos, todo parece estar delicioso y además podemos escoger los platos que nos apetezcan.

a) Mi padre dice que pedirá alubias verdes, merluza y helado. ¿Cuánto dinero le costará a mi padre su menú?

Datos:	Operación:
--------	------------

Solución: _____

b) Mi madre quiere paella, filete y tarta. ¿Cuánto pagará mi madre?

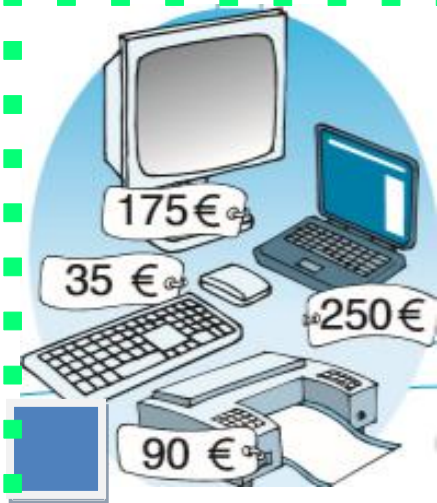
Datos:	Operación:
--------	------------

Solución: _____

c) Mi hermana va a comer pizza, tarta y helado. ¿Cuánto la costará?

Datos:	Operación:
--------	------------

Solución: _____



28. La tienda de electrodomésticos "Llévame a tu casa" ha rebajado el precio de varios de sus productos siendo ahora un gran momento para su adquisición.

a) ¿Cuánto pagaré si me quiero llevar el pack completo de ordenador, teclado y la impresora?

<p><i>Datos:</i></p>	<p><i>Operación:</i></p>
----------------------	--------------------------

Solución: _____

b) ¿Cuál es la diferencia entre el ordenador portátil y el ordenador grande?



<p><i>Datos:</i></p>	<p><i>Operación:</i></p>
----------------------	--------------------------

Solución: _____

c) ¿Cuánto más vale la impresora que el teclado?

<p><i>Datos:</i></p>	<p><i>Operación:</i></p>
----------------------	--------------------------

Solución: _____

