

LAS FRACCIONES

LAS FRACCIONES EXPRESAN ALGUNA DE LAS _____ EN LAS QUE SE HA DIVIDIDO LA

_____.



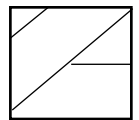
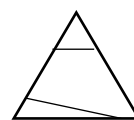
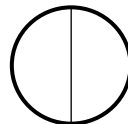
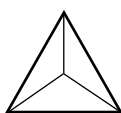
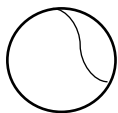
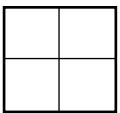
DENOMINADOR

PEGAMENTO

NUMERADOR

$$\frac{4}{8}$$

LAS FRACCIONES SON PARTES IGUALES...
¿EN QUÉ FIGURAS SE REPRESENTA UNA FRACCIÓN?



$$\frac{1}{5}$$

$$\frac{3}{7}$$

¿CÓMO
SE LEEN?

$$\frac{6}{10}$$


$$\frac{4}{8}$$

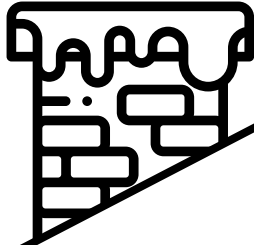


RECUERDA :

1º SE LEE EL NUMERADOR

2º EL DENOMINADOR





COMPARACIÓN DE FRACCIONES

LA FRACCIÓN CUYO
NUMERADOR ES IGUAL
AL DENOMINADOR ES
IGUAL A LA UNIDAD.

$$\frac{4}{4}$$



LA FRACCIÓN CUYO
NUMERADOR ES
MENOR QUE EL
DENOMINADOR ES
MENOR QUE LA
UNIDAD

$$\frac{3}{4}$$



LA FRACCIÓN CUYO
NUMERADOR ES
MAYOR QUE EL
DENOMINADOR ES
MAYOR QUE LA
UNIDAD.

$$\frac{5}{4}$$



UNIDAD		
UNIDAD		
UNIDAD		