









LA OCA DE LAS MULTIPLICACIONES

17 	16 1×8	15 	14 	13 4×4	12 9×4	11 
18 8×6	31 	30 	29 	28 7×7	27 3×8	10 
19 9×8	32 4×5	33  <i>A multiplicar!</i> 		26 	9 	
20 	21 	22 3×3	23 	24 6×5	25 	8 7×4
1  SALIDA 	2 8×3	3 3×9	4 	5 5×2	6 2×6	7 

INSTRUCCIONES

El/la niño/a debe tirar el dado y realizar las multiplicaciones de las diferentes casillas.



Estas imágenes corresponden a unas tarjetas que se anexan al juego donde los peques pueden resolver problemas matemáticos o retos matemáticos.



De oca a oca y tiro porque me toca



De puente a puente y tiro porque me lleva la corriente.



PROBLEMA



Si tengo 4 cajas y en cada caja 6 gomas de borrar. ¿Cuántas gomas de borrar tengo en total?



PROBLEMA




Tengo 5 rotuladores rojos, 5 verdes, 5 naranjas, 5 negros y 5 azules. ¿Cuántos rotuladores tengo?



RESUELVE




Tacha el globo de mayor resultado, rodea el mediano y subraya el globo de menor resultado.



RESUELVE




En esta carrera ganará el coche que tenga mayor resultado. ¿Cuál será?





PROBLEMA

En mi casa hay 8 sillas.
¿Cuántas patas hay en total?



RESUELVE



6	8	5	2	4
$\times 2$	$\times 9$	$\times 4$	$\times 7$	$\times 1$
_____	_____	_____	_____	_____



PROBLEMA

Hoy he recolectado de mi huerto una caja con 6 pepinos, dos cajas con 6 lechugas cada una y tres cajas con 6 tomates cada una.
¿Cuánta verdura tengo?



RESUELVE



¿Qué dos operaciones podemos hacer para averiguar cuántas zanahorias hay?