

Evaluación inicial

www.segundodecarlos.blogspot.com



MATEMÁTICAS

2º DE PRIMARIA



Este cuaderno pertenece a:

Nombre:

Evaluación inicial

Nombre _____ Fecha _____

1 Completa y escribe cómo se leen.

$15 \blacktriangleright \square D + \square U \blacktriangleright$

$43 \blacktriangleright \square D + \square U \blacktriangleright$

$76 \blacktriangleright \square D + \square U \blacktriangleright$

$92 \blacktriangleright \square D + \square U \blacktriangleright$

2 Calcula.

$$\begin{array}{r} 36 \\ + 42 \\ \hline \square \end{array}$$

$$\begin{array}{r} 62 \\ + 14 \\ \hline \square \end{array}$$

$$\begin{array}{r} 31 \\ + 57 \\ \hline \square \end{array}$$

$$\begin{array}{r} 73 \\ + 4 \\ \hline \square \end{array}$$

$$\begin{array}{r} 85 \\ - 63 \\ \hline \square \end{array}$$

$$\begin{array}{r} 77 \\ - 45 \\ \hline \square \end{array}$$

$$\begin{array}{r} 94 \\ - 52 \\ \hline \square \end{array}$$

$$\begin{array}{r} 65 \\ - 31 \\ \hline \square \end{array}$$

3 Completa los relojes digitales.





6 Dibuja.

Una línea curva cerrada

Una línea poligonal abierta

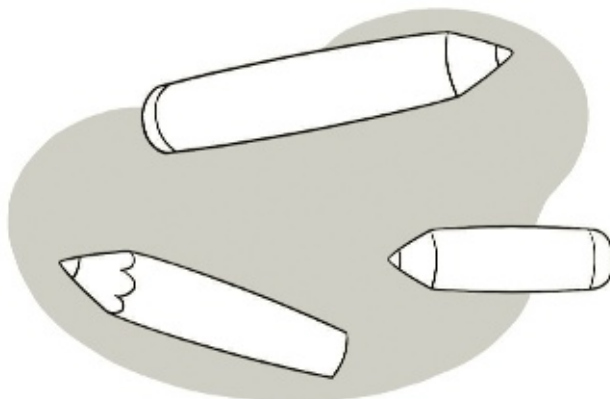
7 Relaciona.

triángulo círculo cuadrilátero cuadrado rectángulo

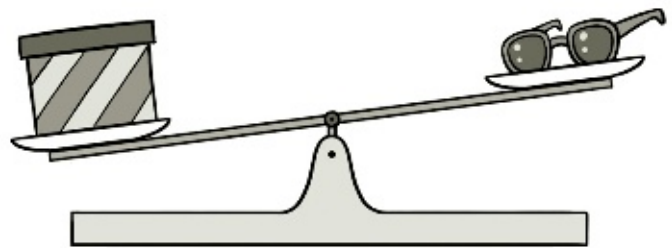
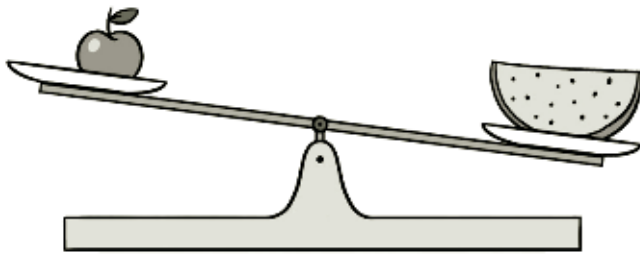
8 Mide con la regla y colorea según la clave.

rojo → 3 centímetros azul → 4 centímetros


verde → 5 centímetros



9 Rodea el objeto que pesa más en cada caso.



10 Rodea las monedas que necesitas para pagar.



7 euros y
15 céntimos



11 Escribe el día de la semana correspondiente.

Ayer

viernes

Hoy

lunes

Mañana

Calificación

Observaciones
