


# PASATIEMPOS LÓGICOS

**Si María habla más bajo que Cristina, y Carmen habla más alto que Cristina, ¿habla María más alto o más bajo que Carmen?**



@elmaestrojuanjesus

**De cuatro atletas se sabe que Carla ha llegado inmediatamente detrás de Berta, y Daniela ha llegado en medio de Ana y Carla. ¿Cuál ha sido el orden de llegada?**



@elmaestrojuanjesus

**La nota media en una clase de 20 alumnos ha sido de 6. Ocho alumnos han suspendido con un 3 y el resto superó el 5. ¿Cuál es la nota media de los alumnos aprobados?**



@elmaestrojuanjesus

**Seis amigos desean pasar sus vacaciones juntos y deciden, cada dos, utilizar diferentes medios de transporte; sabemos que Alejandro no utiliza el coche ya que éste acompaña a Benito que no va en avión. Andrés viaja en avión. Si Carlos no va acompañado de Darío ni hace uso del avión; sabrías en qué medio de transporte llega a su destino Tomas.**



@elmaestrojuanjesus

# PASATIEMPOS LÓGICOS



# PASATIEMPOS

## LÓGICOS


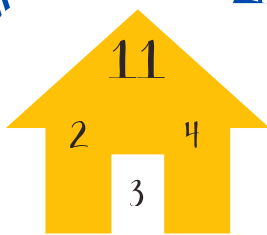
Ángel, Boris, César y Diego se sentaron a beber. El que se sentó a la izquierda de Boris, bebió agua. Ángel estaba frente al que bebía vino. Quien se sentaba a la derecha de Diego bebía anís. El del café y el del anís estaban frente a frente. ¿Cuál era la bebida de cada hombre?



Buscamos un número de seis cifras con las siguientes condiciones:

- Ninguna cifra es impar.
- La primera es un tercio de la quinta y la mitad de la tercera.
- La segunda es la menor de todas.
- La última es la diferencia entre la cuarta y la quinta.

123



Tenemos cuatro perros: un galgo, un dogo, un alano y un podenco. Este último come más que el galgo; el alano come más que el galgo y menos que el dogo, pero éste come más que el podenco. ¿Cuál de los cuatro será el que menos come?



# PASATIEMPOS LÓGICOS



# PASATIEMPOS LÓGICOS

**Moviendo un solo vaso, ¿puedes conseguir la secuencia: lleno-vacío-lleno-vacío-lleno-vacío?**



**Resuelve el siguiente enigma. Cada signo de interrogación representa un símbolo desconocido:**

$$\begin{array}{r} + \text{ M I L} \\ \text{ M I L} \\ \hline \text{????????} \end{array}$$

**Tiene que entrar en una habitación fría y oscura y sólo tiene una cerilla. Allí hay una lámpara de aceite, una vela y una hoguera esperando ser encendidas. ¿Qué encenderías primero?**



**¿Cuál es la palabra cuyo número de letras es seis y quitándole dos se obtiene doce?**



# PASATIEMPOS LÓGICOS



# PASATIEMPOS LÓGICOS

¿Qué letra continuará  
en la siguiente  
secuencia?

U D T C C S S O N \_



@elmaestrojuanjesus

Dos padres y dos  
hijos fueron a  
pescar, tres peces  
pescaron y tocó a un  
pez cada uno, ¿cómo  
pudo ser?



@elmaestrojuanjesus

El padre de María  
tiene cinco hijas:  
Nana, Nene, Nini,  
Nono. ¿Cómo se  
llama la quinta hija?



@elmaestrojuanjesus

Estas participando en  
una carrera. Adelantas  
a la persona que va en  
tercer lugar. ¿En qué  
posición vas tú ahora?



@elmaestrojuanjesus

# PASATIEMPOS LÓGICOS





# PASATIEMPOS

## LÓGICOS

**Juan tiene el doble de dinero que María. Pero María tiene el doble número de monedas que Juan. Entre los dos tienen 3 euros. ¿Cuánto dinero tiene cada uno?**



**Dos pastores se cruzan y uno le dice al otro: Si me das una oveja los dos tendremos el mismo número de ovejas. Y el otro le responde: Si me das dos ovejas yo tendré el doble que tú. ¿Cuántas ovejas tiene cada uno?**



**Tengo tres dados con letras diferentes. Al tirar los dados puedo formar palabras como: OSA, ESA, ATE, CAE, SOL, GOL, REY, SUR, MIA, PIO, FIN, VID, pero no puedo formar palabras como DIA, VOY, RIN. ¿Cuáles son las letras de cada dado?**



**El puzle de Ana tiene más piezas que el de Alberto. El puzle de Aurora tiene el doble de piezas que el de Ana. ¿Qué puzle tiene menos piezas?**



# PASATIEMPOS LÓGICOS

