


LABERINTO 1

Ayuda al cohete a encontrar el camino de vuelta a su planeta. Para ello, deberás ir sumando los números DE DOS EN DOS. Recuerda, solo puedes moverte en vertical (arriba y abajo) y en horizontal (derecha e izquierda)




		2	4	5	3
		7	6	9	2
25	21	9	8	10	11
24	22	17	19	12	15
26	20	18	16	14	17
28	21	15	8	10	11
30	32	31	33		
29	34	36	38		



SOLUCIÓN 1



		2	4	5	3
		7	6	9	2
25	21	9	8	10	11
24	22	17	19	12	15
26	20	18	16	14	17
28	21	15	8	10	11
30	32	31	33		
29	34	36	38		



LABERINTO 2


Ayuda al astronauta a encontrar el camino de vuelta a su nave. Para ello, deberás ir sumando los números DE TRES EN TRES. Recuerda, solo puedes moverte en vertical (arriba y abajo) y en horizontal (derecha e izquierda)



		3	6	9	12
		7	8	18	15
23	11	9	19	21	25
24	22	17	26	24	27
26	20	18	31	29	30
48	45	42	39	36	33
51	55	52	33		
54	57	60	63		



SOLUCIÓN 2



		3	6	9	12
		7	8	18	15
23	11	9	19	21	25
24	22	17	26	24	27
26	20	18	31	29	30
48	45	42	39	36	33
51	55	52	33		
54	57	60	63		



LABERINTO 3


Ayuda al alienígena a encontrar el camino de vuelta a su nave. Para ello, deberás ir sumando los números DE CINCO EN CINCO. Recuerda, solo puedes moverte en vertical (arriba y abajo) y en horizontal (derecha e izquierda)



		5	7	9	12
		10	13	18	15
23	11	15	20	21	25
50	45	17	25	22	27
55	40	35	30	15	21
60	25	42	39	36	33
65	70	75	33		
54	57	80	85		



SOLUCIÓN 3

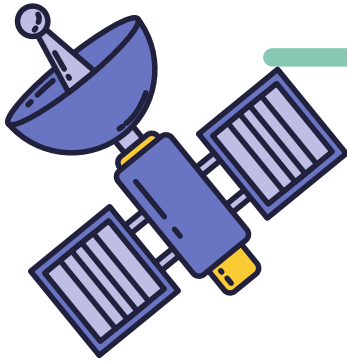


		5	7	9	12
		10	13	18	15
23	11	15	20	21	25
50	45	17	25	22	27
55	40	35	30	15	21
60	25	42	39	36	33
65	70	75	33		
54	57	80	85		




LABERINTO 4

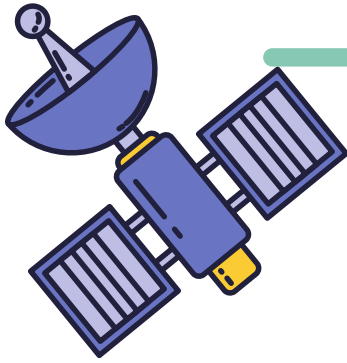
Ayuda al satélite a encontrar el camino de vuelta a la tierra. Para ello, deberás ir sumando los números DE SIETE EN SIETE. Recuerda, solo puedes moverte en vertical (arriba y abajo) y en horizontal (derecha e izquierda)




		7	14	21	28
		10	13	18	35
77	70	63	56	49	42
84	45	17	25	22	27
91	98	105	112	115	121
87	99	107	119	125	103
65	127	102	126		
54	128	103	133		



SOLUCIÓN 4



		7	14	21	28
		10	13	18	35
77	70	63	56	49	42
84	45	17	25	22	27
91	98	105	112	115	121
87	99	107	119	125	103
65	127	102	126		
54	128	103	133		




LABERINTO 4


Ayuda al meteorito a encontrar el camino que lleva al planeta. Para ello, deberás encontrar las operaciones que den como resultado 9. Recuerda, solo puedes moverte en vertical (arriba y abajo) y en horizontal (derecha e izquierda)



		$7+2$	$5+2$	$1+4$	$2+6$
		$3+6$	$1+8$	$10-1$	$5+4$
$17-7$	$1+7$	$4+4$	$18-4$	$16-5$	$2+7$
$15-6$	$12-3$	$6+3$	$16-7$	$2+5$	$15-6$
$2+7$	$13-6$	$20-5$	$21-12$	$4+5$	$18-9$
$17-8$	$5+4$	$11-2$	$7+1$	$5+1$	$2+4$
$15-2$	$12-6$	$19-10$	$1+3$		
$11-8$	$2+6$	$8+1$	$13-4$		



SOLUCIÓN 4



		$7+2$	$5+2$	$1+4$	$2+6$
		$3+6$	$1+8$	$10-1$	$5+4$
$17-7$	$1+7$	$4+4$	$18-4$	$16-5$	$2+7$
$15-6$	$12-3$	$6+3$	$16-7$	$2+5$	$15-6$
$2+7$	$13-6$	$20-5$	$21-12$	$4+5$	$18-9$
$17-8$	$5+4$	$11-2$	$7+1$	$5+1$	$2+4$
$15-2$	$12-6$	$19-10$	$1+3$		
$11-8$	$2+6$	$8+1$	$13-4$		

