

100 EJERCICIOS



DEFICIT ATENCIONAL

@enmiuladept


























@psico_mporienta



DÉFICIT ATENCIONAL

EJERCICIO 1

- Colorea de color rojo el cangrejo que se encuentra encima del caracol.
- Colorea de color amarillo el pez que se encuentra a la derecha del caracol.
- Colorea de verde el caracol que tiene a su lado izquierdo un pez.
- Colorea de azul el pez que tiene a su lado izquierdo un cangrejo.
- Colorea de naranja el cangrejo que tiene encima un pez.
- Colorea de rosa el pulpo que tiene a su lado derecho un pez.
- Colorea de morado el cangrejo que tiene a su lado izquierdo un pulpo.
- Colorea de negro el caracol que tiene encima un cangrejo.



DÉFICIT ATENCIONAL

EJERCICIO 2

- Colorea de color rojo el número 5 que tiene encima otro 5.
- Colorea de color amarillo el número 9 que tiene al lado derecho un 2.
- Colorea de verde el número 4 que tiene a lado izquierdo un 2.
- Colorea de azul todos los 3 que tengan un número al lado.
- Colorea de naranja el número 1 que tiene debajo un 4.
- Colorea de rosa el número 2 que tiene encima un 8.
- Colorea de morado la flecha hacia que tiene a su derecha un número mayor de 3.
- Colorea de negro la flecha que tiene a su izquierda un número mayor de 7.

3	1	→	2	4
→	4	→	5	←
9	→	2	↑	3
8	3	→	5	↑
2	←	4	↑	1



DÉFICIT ATENCIONAL

EJERCICIO 3

Colorea de color rojo el número 4 que tenga a su lado derecho un número mayor de 8.
Colorea de color amarillo el número 9 que tiene a su lado derecho un número inferior a 4.

Colorea de verde el número 4 que tiene encima un 1.

Colorea de azul el número 3 que tiene a su lado izquierdo un número mayor de 4.

Colorea de naranja el número 5 que tiene encima un número impar.

Colorea de rosa el número 2 que tiene a su lado derecho un número impar.

Colorea de morado la flecha hacia que tiene a su lado derecho un número par.

Colorea de negro la flecha que tiene a su izquierda un número impar.

3	1	→	4	8
→	4	→	9	←
9	→	2	↑	3
8	3	→	5	↑
2	←	7	↑	6



DÉFICIT ATENCIONAL

EJERCICIO 4

- Colorea de rojo los gatos que tienen una flecha a la izquierda.
- Colorea de azul las flechas que tienen un gato a su izquierda.
- Colorea de naranja los gatos que tienen una flecha a la derecha.
- Colorea de amarillo las flechas que tienen debajo un gato.
- Colorea de morado las flechas que tienen encima un gato.
- Colorea de rosa los gatos que quedan libres.



DÉFICIT ATENCIONAL

EJERCICIO 5

Busca 5 nombres de persona que empiecen por la letra que tiene a su derecha la letra P.

Busca 5 nombres de alimentos que empiecen por la letra que tiene a su izquierda la letra M.

Busca 5 nombres de objetos que terminen por la letra que tiene debajo la letra P.

Busca 5 nombres de frutas que contengan la letra que tiene encima la letra A.

Con las letras que se repiten busca nombres de animales acuáticos que empiecen por esa letra.

Busca 5 nombres de materiales escolares que empiecen por la letra que tiene a su derecha la letra S.

↑	A	→	P	←
→	L	→	A	←
M	←	B	↑	C
↓	C	→	M	↑
P	→	S	↑	B











DÉFICIT ATENCIONAL

EJERCICIO 6

M

Rodea los animales salvajes que contengan la letra M.
Colorea todos los animales que contengan 3 sílabas.
Colorea todos los animales que contengan 4 sílabas.





DÉFICIT ATENCIONAL

EJERCICIO 7

- Escribe un número IMPAR en la casilla A 4 y E 2.
- Escribe un número PAR en la casilla E 5 y D 5.
- Escribe un número de 3 cifras mayor que 200 en la casilla D 3.
- Dibuja un animal acuático en la casilla B 4 y B 1.
- Dibuja un animal doméstico en la casilla A 2.
- Dibuja un objeto punzante en la casilla C 1.
- Dibuja una prenda de vestir que termine en A en la casilla D 4.

A **B** **C** **D** **E**

1
2
3
4
5



DÉFICIT ATENCIONAL

EJERCICIO 8

Atrévete a continuar la siguiente serie de colores.


★	★	★	★			
★	★	★	★	★	★	★
★	★	★	★	★		
★	★	★	★	★		
★	★	★	★	★		
★	★	★	★	★		
★	★	★	★	★	★	
★	★	★	★	★	★	
★	★	★	★	★	★	
★	★	★	★	★		



DÉFICIT ATENCIONAL

EJERCICIO 9

Los círculos rojos rodealos con un cuadrado.
Los círculos amarillos rodealos con un círculo.
Los círculos azules rodea los con un triángulo.
Los círculos verdes rodealos con un rombo.





DÉFICIT ATENCIONAL

EJERCICIO 10

Los números pares rodealos con un cuadrado.

Los números impares rodealos con un triángulo.

Rodea con un círculo los números cuya suma o resta den como resultado 12.

1 2 11 7

10 6 82 3

19 7 80 59 40

52 18 8

125 9 27

3 32 15

87 43 8

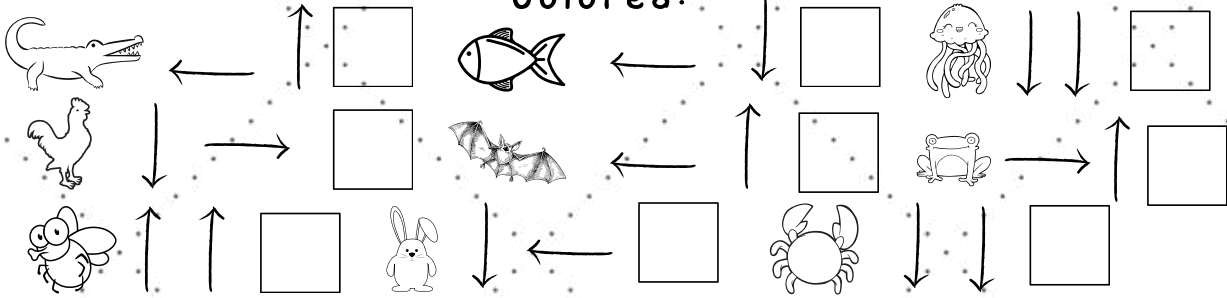
37 61



DÉFICIT ATENCIONAL

EJERCICIO 11

Colorea:





DÉFICIT ATENCIONAL EJERCICIO 12

- Rodea de rojo los animales que tienen plumas.
- Rodea de verde los animales que tienen 2 patas.
- Rodea de amarillo los animales que tienen 4 patas.
- Rodea de naranja los animales que son salvajes.
- Rodea de morado los animales que tienen colmillos.





DÉFICIT ATENCIONAL

EJERCICIO 13

¿Cuántas M ves?





DÉFICIT ATENCIONAL

EJERCICIO 14

Número 1 ●

Número 2 ●

Número 3 ●

Número 4 ●

Número 5 ●




¿Algún gato se quedó sin número_color? BÚSCALO.



DÉFICIT ATENCIONAL

EJERCICIO 15

Colorea del mismo color las parejas.





DÉFICIT ATENCIONAL

EJERCICIO 16

Rodea las parejas de arco iris.





DÉFICIT ATENCIONAL

EJERCICIO 17

¿Cuántos cactus ves?






DÉFICIT ATENCIONAL

EJERCICIO 18

Rodea todos los números que encuentres.

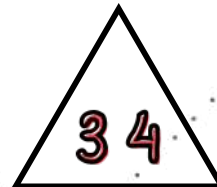









DÉFICIT ATENCIONAL

EJERCICIO 19

Colorea de azul los números pares que estén dentro de un triángulo.
Busca sumas o restas cuyo resultado sea 36.





DÉFICIT ATENCIONAL

EJERCICIO 20

Colorea de rojo los números impares que estén dentro de un cuadrado.
Busca sumas o restas cuyo resultado sea 24.

9 19 58 5 15 43

29 70 81 22 3 42

94 33 96

1 17 66

10 13 17 40

14 84 37

11 39

90 87 8 24 20


99 63



DÉFICIT ATENCIONAL

EJERCICIO 21

Colorea de azul las flechas que indican a la derecha.
Colorea de rojo las flechas que indican a la izquierda.






DÉFICIT ATENCIONAL

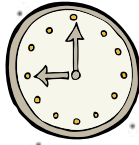
EJERCICIO 22

Escribe la hora que corresponde a cada reloj, suma y comprueba el total de horas.

7h + 9h



+



=



+




=



+



=



+



=



+



=




+



=



+



=



DÉFICIT ATENCIONAL

EJERCICIO 23

Busca todas las letras **B**

8 B D 8 B B D 8 8 D D D B B B B B

B B 8 8 B B D 8 8 D D D B B B 8 8

B B B 8 D D D B 8 D B D B D B 8 B

8 B D 8 B B D 8 8 D D D B B B B B

B B 8 8 B B D 8 8 D D D B B B 8 8

B B B 8 D D D B 8 D B D B D B 8 B

8 B D 8 B B D 8 8 D D D B B B B B

B B 8 8 B B D 8 8 D D D B B B 8 8

8 B D 8 B B D 8 8 D D D B B B B B

B B 8 8 B B D 8 8 D D D B B B 8 8



DÉFICIT ATENCIONAL

EJERCICIO 24

Rodea las 7 diferencias.

