



DÉFICIT ATENCIONAL

EJERCICIO 75

Completa la cuadrícula para que sea igual que el modelo.

| | | | | |
|---|---|---|---|---|
| ● | + | | × | |
| × | | + | ≡ | |
| ≡ | ● | × | + | |
| | ● | ≡ | | + |
| × | | × | | + |
| | | ● | ≡ | × |
| | ≡ | + | ● | × |
| | + | | × | ● |
| ≡ | | ≡ | × | ≡ |
| × | ≡ | ● | | |
| | ● | × | + | ● |

| | | | | |
|--|--|--|--|--|
| | | | | |
| | | | | |
| | | | | |
| | | | | |
| | | | | |
| | | | | |
| | | | | |
| | | | | |
| | | | | |
| | | | | |
| | | | | |



DÉFICIT ATENCIONAL

EJERCICIO 76

Completa la cuadrícula para que sea igual que el modelo.

| | | | | |
|--|--|--|--|--|
| | | | | |
| | | | | |
| | | | | |
| | | | | |
| | | | | |
| | | | | |
| | | | | |
| | | | | |
| | | | | |
| | | | | |
| | | | | |

| | | | | |
|--|--|--|--|--|
| | | | | |
| | | | | |
| | | | | |
| | | | | |
| | | | | |
| | | | | |
| | | | | |
| | | | | |
| | | | | |
| | | | | |
| | | | | |



DÉFICIT ATENCIONAL

EJERCICIO 77

Completa la cuadrícula para que sea igual que el modelo.

| | | | | |
|---|---|---|---|---|
| ◀ | ▶ | | ♥ | ▲ |
| ▼ | | ▲ | ● | |
| ▶ | ◀ | ● | | ♥ |
| ▲ | | ♥ | ▼ | ▲ |
| | | ▶ | | ● |
| | ◀ | ▶ | ♥ | |
| ▲ | | ♥ | ▶ | ◀ |
| | ♥ | | ▼ | |
| | ▲ | ● | ▶ | ◀ |
| ▶ | ▼ | ▲ | ♥ | ● |
| ● | ♥ | ◀ | ● | ▶ |

| | | | | |
|--|--|--|--|--|
| | | | | |
| | | | | |
| | | | | |
| | | | | |
| | | | | |
| | | | | |
| | | | | |
| | | | | |
| | | | | |
| | | | | |
| | | | | |



DÉFICIT ATENCIONAL

EJERCICIO 78

Completa la cuadrícula para que sea igual que el modelo.

| | | | | |
|---|---|---|---|---|
| ● | | ● | | ● |
| + | | ● | | |
| | ● | + | | |
| | ● | | + | |
| | ● | | ● | + |
| ● | | | + | |
| | ● | ● | | |
| ● | | + | | |
| ● | ● | ● | ● | |
| ● | + | | ● | + |
| ● | | + | | ● |

| | | | | |
|--|--|--|--|--|
| | | | | |
| | | | | |
| | | | | |
| | | | | |
| | | | | |
| | | | | |
| | | | | |
| | | | | |
| | | | | |
| | | | | |
| | | | | |



DÉFICIT ATENCIONAL

EJERCICIO 79

Completa la cuadrícula para que sea igual que el modelo.

| | | | | |
|--|--|--|--|--|
| | | | | |
| | | | | |
| | | | | |
| | | | | |
| | | | | |
| | | | | |
| | | | | |
| | | | | |
| | | | | |
| | | | | |
| | | | | |


| | | | | |
|--|--|--|--|--|
| | | | | |
| | | | | |
| | | | | |
| | | | | |
| | | | | |
| | | | | |
| | | | | |
| | | | | |
| | | | | |
| | | | | |
| | | | | |



DÉFICIT ATENCIONAL

EJERCICIO 80

¿Cuántos números hay?




1 2 8 2 8 3 J D 8 W 0 W N D H W
8 2 0 D N D U W I W B D I W 0 1
9 2 N D U 2 7 2 9 3 B 4 E 6 X U 2 B
3 0 F 8 3 U 3 B D I W 9 2 U U 3 B
D I 2 9 2 8 3 7 D 7 1 W U W B W P
8 2 U E B 2 B 7 2 7 3 H 3 7 2 9 2 0
D N X B X D U 2 9 1 7 3 6 4 0 Q K
W N X C H 7 2 7 2 0 B D 0 1 0 1 G



DÉFICIT ATENCIONAL

EJERCICIO 81

¿Cuántas letras hay?




1 8 2 8 3 7 9 1 8 2 J E N D O Q J
W I A i w j e 7 2 9 1 n 9 w u e b d
7 2 9 a K 2 8 2 7 3 b s 8 2 J D 7 X
8 2 0 8 2 7 3 y 3 b d o q 9 2 8 2 7
3 b d i B d u e j 2 8 8 D B E U A K
S B W I 9 j a A b w 8 w u w b 2 8
8 E J E B 2 8 8 2 J S i w 8 2 b 8 2
6 1 5 2 v d u 2 u p P 7 3 6 2 b d o



DÉFICIT ATENCIONAL

EJERCICIO 82

¿Cuántas vocales hay?



1 8 2 h s 8 2 8 a A U E O I O 2 0 7

3 7 3 I Q O u w b e u w o 1 9 3 7 3

b s b q i 2 8 4 6 3 0 1 K a j w y e b

1 0 2 9 3 n b 0 1 9 3 7 4 h r y q p

q n w u e y 2 7 2 9 9 1 h w b e y 2

6 2 9 1 o B U W 8 W B E 7 3 9 Q K

U 2 7 2 6 3 8 3 9 q n 8 1 6 3 9 1 n


s 7 1 3 y 3 h 3 9 2 A e i o a U k l M



DÉFICIT ATENCIONAL

EJERCICIO 83

¿Cuántas mayúsculas hay?



9 1 8 3 b d o q 9 K q 0 w j 2 7 2 0

9 2 B E U 2 9 2 N D 0 2 i w b 9 2 j

3 u 3 9 q o U w b e u d 8 2 0 q n J

e b e J w 2 8 I W B D 9 2 0 1 B 7 2

7 3 J Q Ñ Q P E N D V W G 2 7 2 0

1 N 4 7 3 B D n w h w u 2 o 2 Y r i

d b f i m s p w o 3 7 4 9 2 0 B e y









3 u p 0 2 8 3 8 3 b B e u I Q B F 0



DÉFICIT ATENCIONAL

EJERCICIO 84

Dibuja y pinta los elementos correspondientes para rellenar la tabla.

















| | | | | |
|---|---|---|--|---|
| |  |  |  |  |
|  | | | | |
|  | | | | |
|  | | | | |
|  | | | | |



DÉFICIT ATENCIONAL

EJERCICIO 85

Fijate bien en la tabla de coordenadas y responde las preguntas

| | A | B | C | D |
|---|---|---|--|---|
| 1 |  |  |  |  |
| 2 |  |  |  |  |
| 3 |  |  |  |  |
| 4 |  |  |  |  |

¿Qué hay en la casilla 2A? _____

¿Qué hay en la casilla 4C? _____

¿Qué hay en la casilla 3B? _____

¿En qué casilla esta la estrella? _____



DÉFICIT ATENCIONAL

EJERCICIO 86

Fijate bien en la tabla de coordenadas y responde las preguntas

| | A | B | C | D |
|---|---|---|--|---|
| 1 |  |  |  |  |
| 2 |  |  |  |  |
| 3 |  |  |  |  |
| 4 |  |  |  |  |

¿Qué hay en la casilla 3D? _____

¿Qué hay en la casilla 2B? _____

¿Qué hay en la casilla 1C? _____





¿En qué casilla esta el niño? _____



DÉFICIT ATENCIONAL

EJERCICIO 87

Fijate bien en la tabla de coordenadas y responde las preguntas

| | A | B | C | D |
|---|---|---|--|---|
| 1 |  |  |  |  |
| 2 |  |  |  |  |
| 3 |  |  |  |  |
| 4 |  |  |  |  |

¿Qué hay en la casilla 2B? _____

¿Qué hay en la casilla 4C? _____

¿Qué hay en la casilla 3A? _____

¿En qué casilla esta la estrella? _____



DÉFICIT ATENCIONAL

EJERCICIO 88

¿Cuántos modelos diferentes de globos hay?


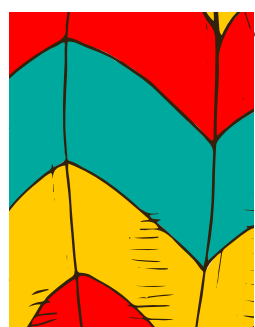







DÉFICIT ATENCIONAL

EJERCICIO 89

¿A qué imagen pertenece?











DÉFICIT ATENCIONAL

EJERCICIO 90

¿A qué imagen pertenece?








DÉFICIT ATENCIONAL

EJERCICIO 91

¿A qué imagen pertenece?






DÉFICIT ATENCIONAL

EJERCICIO 92

¿Cuántos unicornios diferentes hay?





DÉFICIT ATENCIONAL

EJERCICIO 93

¿Cuántos donuts diferentes hay?







DÉFICIT ATENCIONAL

EJERCICIO 94

¿Qué donut es el diferente?





DÉFICIT ATENCIONAL

EJERCICIO 95

Rodea de 5 en 5. ¿Sobra algún elemento?





DÉFICIT ATENCIONAL

EJERCICIO 96

Busca la imagen repetida






DÉFICIT ATENCIONAL

EJERCICIO 97

Pinta la imagen siguiendo el patrón

- 1 verde
- 2 azul
- 3 amarillo
- 4 rojo
- 5 morado
- 6 negro
- 7 rosa
- 8 naranja
- 9 marrón





DÉFICIT ATENCIONAL

EJERCICIO 98

¿Cuántos 8 hay?

| | | | | | | | | | |
|---|---|---|---|---|---|---|---|---|---|
| 8 | & | 8 | & | & | 8 | & | 8 | & | 8 |
| & | 8 | & | 8 | & | 8 | 8 | & | 8 | & |
| & | & | 8 | & | 8 | & | & | & | 8 | & |
| 8 | & | 8 | & | 8 | & | 8 | & | & | & |
| 8 | 8 | 8 | & | & | & | & | 8 | & | & |
| & | 8 | & | 8 | & | 8 | & | 8 | & | & |
| & | 8 | & | & | 8 | & | & | & | 8 | 8 |



DÉFICIT ATENCIONAL

EJERCICIO 99

Rodea con un círculo verde la d y con un cuadrado amarillo la b

b b d b d b d d d b d

b d b b d b d b d b d

b d d d b b b d b d b

d b d b d b d b d b d

b d b d b d b d b d b

d d d b d b b d d d b

d b d b d b d b d d d



DÉFICIT ATENCIONAL

EJERCICIO 100

Rodea la p de rojo y la q de azul

p q p q p p q q p q p

q p q p q p q p q p q

q q p q p p q p q p q

p q p p p q p q p q p

q p q p q p p q q p q

p p q p q p q p q p q

p q p q p q p p q q q