



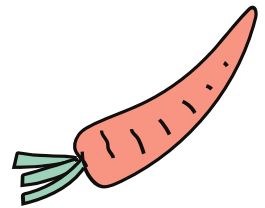
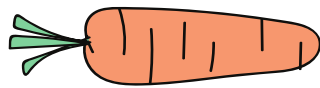

REPASO




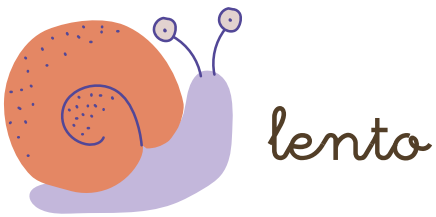
SEMANA SANTA



2º PRIMARIA



UNE CON FLECHAS LOS ANTÓNIMOS





CLASIFICA LAS SIGUIENTES PALABRAS

hierba

huevo

cantar

dulce

festejar

conejo

jugar

comer

suave

delicioso




chocolate

divertido

Verbos

Sustantivos

Adjetivos



LEE Y COMPLETA

Ana y María

Ana está triste.

Su compañera María está enferma y no irá a clases.

Ella extraña jugar con María.

La mamá le propone visitar a su amiga después del cole.

Ana se alegra con la idea.



Ana se siente

Ana extraña a

La mamá de Ana le propone

.....



LEE Y DIBUJA

LEE	DIBUJA
<p>Simón come manzana.</p>	
<p>El hombre lleva guantes.</p>	
<p>El gato duerme en el sillón.</p>	
<p>Teresa pasea en bicicleta.</p>	



ESCRIBE PALABRAS QUE EMPIECEN CON B Y V


Bb

Vv

ESCRIBE ORACIONES UTILIZANDO LAS
PALABRAS ANTERIORES



OBSERVA LA IMAGEN Y COMPLETA LAS ORACIONES CON LAS PREPOSICIONES CORRESPONDIENTES




- 1 El oso se encuentra _____ del banco.
- 2 El sol brilla _____ la palmera.
- 3 El caballito está _____ de la mesa.
- 4 El gato juega _____ del cofre.
- 5 Las flores están _____ del jarrón.
- 6 La abeja vuela _____ las flores.
- 7 La mesa se encuentra _____ el jarrón.
- 8 La palmera está _____ la mesa y el cofre.

DIBUJA Y ESCRIBE LOS MEJORES MOMENTOS DE ESTAS VACACIONES











RESUELVE LAS SIGUIENTES OPERACIONES

$$\begin{array}{r} 95 \\ -15 \\ \hline \end{array}$$

$$\begin{array}{r} 38 \\ +26 \\ \hline \end{array}$$

$$\begin{array}{r} 70 \\ +21 \\ \hline \end{array}$$

$$\begin{array}{r} 74 \\ -22 \\ \hline \end{array}$$

$$\begin{array}{r} 56 \\ -42 \\ \hline \end{array}$$

$$\begin{array}{r} 44 \\ -31 \\ \hline \end{array}$$

$$\begin{array}{r} 21 \\ +15 \\ \hline \end{array}$$

$$\begin{array}{r} 97 \\ -13 \\ \hline \end{array}$$

$$\begin{array}{r} 81 \\ +43 \\ \hline \end{array}$$

$$\begin{array}{r} 53 \\ +12 \\ \hline \end{array}$$

$$\begin{array}{r} 94 \\ -23 \\ \hline \end{array}$$

$$\begin{array}{r} 36 \\ +53 \\ \hline \end{array}$$

$$\begin{array}{r} 37 \\ -15 \\ \hline \end{array}$$

$$\begin{array}{r} 81 \\ +26 \\ \hline \end{array}$$

$$\begin{array}{r} 85 \\ -34 \\ \hline \end{array}$$

$$\begin{array}{r} 65 \\ -13 \\ \hline \end{array}$$


$$\begin{array}{r} 58 \\ +12 \\ \hline \end{array}$$

$$\begin{array}{r} 68 \\ +40 \\ \hline \end{array}$$

$$\begin{array}{r} 98 \\ +83 \\ \hline \end{array}$$

$$\begin{array}{r} 25 \\ +32 \\ \hline \end{array}$$

¿CUÁNTO DINERO HAY EN CADA FRASCO?




€



€




€



€







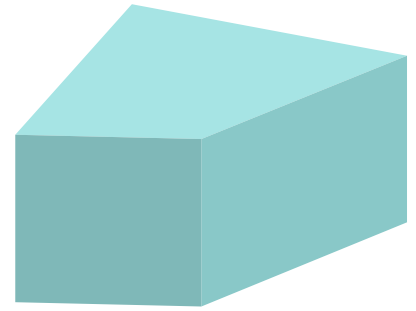

€



€



ENCIERRA EN UN CÍRCULO LAS FIGURAS PLANAS
Y EN UN CUADRADO, LAS FIGURAS SÓLIDAS





ESCRIBE EL VALOR POSICIONAL DE LOS NÚMEROS

584	Centenas	Decenas	Unidades

261	Centenas	Decenas	Unidades

792	Centenas	Decenas	Unidades

83	Centenas	Decenas	Unidades

475	Centenas	Decenas	Unidades




DESCOMPONE LOS SIGUIENTES NÚMEROS

345	$300 + 40 + 5$
862	
538	
420	
739	
216	
707	
112	
394	

REALIZA LAS SIGUIENTES ACTIVIDADES

1 Cuenta los conejos




2 Arma grupos de 10

3 ¿Cuántos grupos de 10 se armaron?

4 ¿Cuántos quedaron fuera?

5 Cuenta las zanahorias



6 Arma grupos de 10

7 ¿Cuántos grupos de 10 se armaron?

8 ¿Cuántas quedaron fuera?

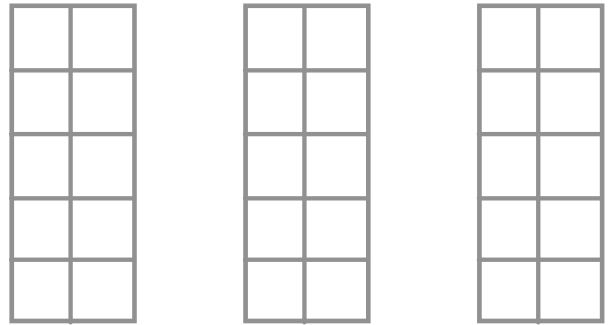


PRÁCTICA

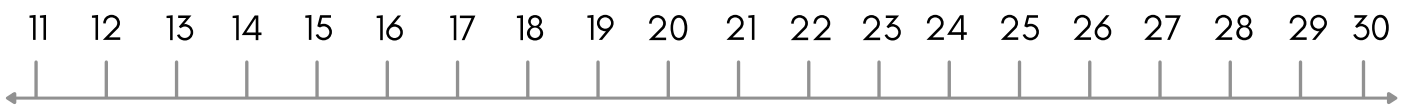
Elige un número entre el 20 y el 30 y realiza estas actividades:



Colorea la cantidad:



Márcalo en la recta numérica



Inventa una suma que tenga ese número como resultado.

Inventa una resta que tenga ese número como resultado.

Escribe tu número en letras:

Colorea la cantidad:

Dibuja esa cantidad en estrellas:

