





Trabajo práctico

DE MAYOR A MENOR

1) Observa los precios y ordena del más barato al más caro.



\$ 65




\$ 22



\$ 45



\$50



\$ 72

.....

.....

2) Completa las oraciones.

• El mueble más barato es:

• El mueble más costoso es:

1) Observa los precios y ordena del más barato al más caro.



\$ 6



\$ 12



\$ 18



\$ 20



\$ 9

.....


.....

2) Completa las oraciones.

• El juguete más barato es:

• El juguete más costoso es:

1) Observa los precios y ordena del más barato al más caro.




\$ 4




\$2



\$ 3



\$ 7



\$ 8

.....


.....

2) Completa las oraciones.

• **La fruta más barata es:**

• **La fruta más costosa es:**

1) Observa los precios y ordena del más barato al más caro.



\$ 3



\$ 4



\$ 5



\$ 6



\$ 4

.....


.....

2) Completa las oraciones.

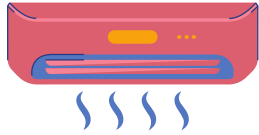
• El más barato es:

• El más costoso es:

1) Observa los precios y ordena del más barato al más caro.



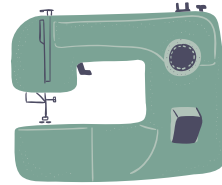
\$ 20



\$ 55



\$ 30



\$ 42



\$ 13

.....

.....

2) Completa las oraciones.

- El electrodoméstico más barato es:
- El electrodoméstico más costoso es:


1) Observa los precios y ordena del más barato al más caro.




\$ 15




\$32



\$18



\$25



\$30

.....

.....

2) Completa las oraciones.

• El instrumento más barato es:

• El instrumento más caro es:

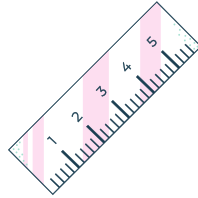
1) Observa los precios y ordena del más barato al más caro.



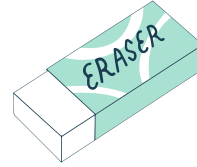
\$ 10



\$ 9



\$ 5



\$ 3



\$ 7

.....

.....

2) Completa las oraciones.

• El útil más barato es:

• El útil más caro es: