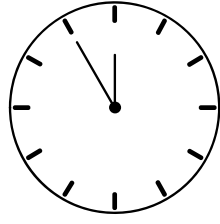




SALIDA





El doble de 2	Continúa 50,48,46...	80 - 49	20 + 65	
Completa la serie 22,25,28...		7 x 9	El triple de 3	100 : 10
50000 : 100	María y su hermana tienen 22 caramelos y quieren repartirlos en partes iguales, ¿Cuántos caramelos se reparten a cada una?			
	212 - 156	2 x 8	Continúa 10,15,20...	100 + 500
Juan tiene 10 coches y su hermano el doble, ¿Cuántos tienen entre los dos?			7 x 3	789 + 169



META




SALIDA

	La mitad de 30	80000 : 10	3 x 5	1079 - 489
(200 x 10) + 500			El doble de 50	5 x 5
4826 + 3347	En un hospital hay 53 enfermeras, pero 11 se han ido a desayunar, ¿Cuántas quedan ahora?			
Continúa 75,70,65...	8 x 10	La mitad de 50	Continúa 2,6,10...	
Si tengo 10 peras y me como 2 para merendar, ¿Cuántas tengo ahora?				960 - 739



META




SALIDA

5×8

$600 + 307 + 297$

$8040 - 1432$

8×8



$29 - (4 \times 10) + 50$

$16000 : 1000$


El doble de 6

68×2



Elena tiene 5 libros en cada estante de su estantería. Si la estantería tiene 7 estantes, ¿cuántos libros tiene?

12×31



$90 + 90$



Continúa 0,4,8, 12...

Ordena de menor a mayor:
78, 52, 91, 65, 12, 107

Continúa
14, 24, 34...

$300 : 10$

META




SALIDA

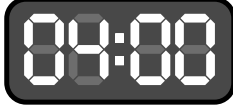
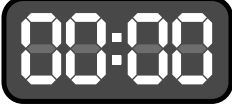
57×16	9992 - 3623		1630 + 692	3×12
Ordena de mayor a menor: $19, 70, 38, 52$	$17 - 4$	Continúa $22, 29, 35...$	7×7	
Continúa $30, 28, 26...$	Encuentra los números que faltan $10, _, 30, 40, _, 60, 70, _$			
(2000×10) : 100		34×10	$290 +$ $107 +$ 490	4×10
Manuel y sus dos amigos han coleccionado 120 cromos de fútbol, ¿a cuántos cromos tocan cada uno?	842 - 353	9×9		



META



SALIDA

6×6	$500 + 500$	Continúa 100, 200, 300...		5×9
$(9 \times 4) + (7 \times 1)$			15×5	$8203 - 7354$
El triple de 100	Encuentran los números que faltan $72, 70, _, 66, _, 62, 60, _$			
$8200 : 10$	28×30	$1000 - 800$	Elige el número mayor 48 o 93	140×69
Un camión lleva 200 cajas de mercancía para repartir entre 5 tiendas, ¿Cuántas cajas deja en cada tienda?			2×2	$12 + 59$



META

