

x100



Cent.



x100



Cent.




x100



Cent.




¿Cuántos céntimos
hay en la caja
fuerte?



expresa en céntimos




3€




25 cent.



5€




124 cent.




12€

4 cent.




4€

55 cent.




2€

14 cent.




55€

1 cent.




10€

10 cent.




15€

14 cent.




3€

12 cent.




5€

33 cent.




8€

12 cent.




6€

14 cent.




89€

22 cent.




6€

20 cent.




7€

24 cent.



11€

40 cent.



2€

4 cent.



Sumando el botín del ladrón.



Crea parejas con estos botines en el cuaderno y resuelve la suma.




15€ 
124 cent.




12€ 
4 cent.



4€ 
25 cent.




24€ 
54 cent.



25€ 
15 cent.




1€ 
20 cent.




50€ 
14 cent.




35€ 
12 cent.



5€ 
33 cent.




8€ 
12 cent.




66€ 
14 cent.



89€ 
22 cent.




6€ 
20 cent.




15€ 
17 cent.




31€ 
44 cent.



24€ 
43 cent.



Expresa con el menor número de monedas y billetes...



15€

50 cent.



Expresa con el menor número de monedas y billetes...



45€

48 cent.



Expresa con el menor número de monedas y billetes...



25€

26 cent.



Expresa con el menor número de monedas y billetes...



115€

76 cent.



Expresa con el menor número de monedas y billetes...



33€

98 cent.



Expresa con el menor número de monedas y billetes...



19€

94 cent.



Expresa con el menor número de monedas y billetes...



24€

67 cent.



Expresa con el menor número de monedas y billetes...



83€

18 cent.



Expresa con el menor número de monedas y billetes...



24€

67 cent.



Expresa con el menor número de monedas y billetes...




16€

3 cent.



Expresa con el menor
número de monedas y
billetes...



11 €

9 cent.



Expresa con el menor
número de monedas y
billetes...



22 €

13 cent.



Expresa con el menor número de monedas y billetes...



28€

11 cent.



Expresa con el menor número de monedas y billetes...



55€

34 cent.



Expresa con el menor número de monedas y billetes...



23€

30 cent.



Expresa con el menor número de monedas y billetes...



21€

35 cent.