

CUADERNO *Vacacional*



3^o

EDUCREA *Material Educativo*



Educrea material Educativo




Educrea.me

WWW.EDUCREAMATERIALEDUCATIVO.COM

Copyright © Masiel Spinola, Educrea Material Educativo. Todos los derechos reservados por el autor. Queda prohibido distribuir, reproducir o vender este material por cualquier medio ya sea electrónicamente o de manera impresa, ni mostrarse digitalmente para la vista del público, ya que se encuentra protegido por los derechos de autor. El incumplimiento es una violación a la Ley de Derechos de Autor.


ESPAÑOL

ESPAÑOL



Describe cada parte de la que se constituye un cuento.

LAS PARTES DE UN CUENTO




PLANTEAMIENTO

NUDO

DESNLACE


ESPAÑOL



Elige un cuento, léelo y realiza el análisis de este apoyando de este interactivo.



ESPAÑOL




Organiza la información del cuento que elegiste en el siguiente esquema.

CUENTO



PERSONAJES

ESCENARIOS



PRINCIPALES

SECUNDARIOS

[Empty box for Principal Character 1]

[Empty box for Secondary Character 1]

[Empty box for Principal Character 2]

[Empty box for Secondary Character 2]

[Empty box for Principal Character 3]


[Empty box for Secondary Character 3]

[Empty box for Scenario 1]

[Empty box for Scenario 2]

[Empty box for Scenario 3]

ESPAÑOL



Escribe en el periódico una noticia con su título y dibuja una imagen correspondiente a la noticia.



Fecha


EL NOTICION

Titulo

Cuerpo de noticia

Imagen

ESPAÑOL



Colorea solo los verbos que se encuentran en infinitivo.

viajar


salir

bebiendo

amado

correr

ESPAÑOL



Colorea solo los verbos que se encuentran en pasado

habló


Corrió

bebiendo

soñó

amó

ESPAÑOL



Colorea solo los verbos que se encuentran en futuro

Come


correrá

Soñando

cantará

hablará

ESPAÑOL



Completa con Gg o Jj

___ulia es muy ___enerosa

Los ___u___adores ___anarón el torneo


María ___ue___a con ___abriela

A ___osé le ___usta el ___u___o de naran___a

Carlos cumple años en ___ulio

MATEMÁTICAS

MATEMÁTICAS



Escribe la descomposición numérica de las siguientes cifras


5496

2718

3953

0953

MATEMÁTICAS




Resuelve los siguientes problemas

1.- Miranda tiene 2548 estampas y le regaló a su hermana 896. ¿cuantas estampas le quedaron a Miranda?

2.- Carlos compro 100 dulces para repartir entre sus 25 compañeros, ¿cuantos dulces le tocaron a cada uno?

3.- La mamá de Camila hace pulseras y las vende, en una hora hace 15 pulseras, ¿cuántas hace en 3 horas?


MATEMÁTICAS



Completa la siguiente numeración



MATEMÁTICAS



Resuelve las siguientes divisiones

$$5 \overline{) 35}$$


$$2 \overline{) 28}$$

$$6 \overline{) 54}$$

$$10 \overline{) 210}$$

$$9 \overline{) 88}$$

MATEMÁTICAS




Resuelve las siguientes sumas

$$\frac{2}{4} + \frac{1}{8} =$$

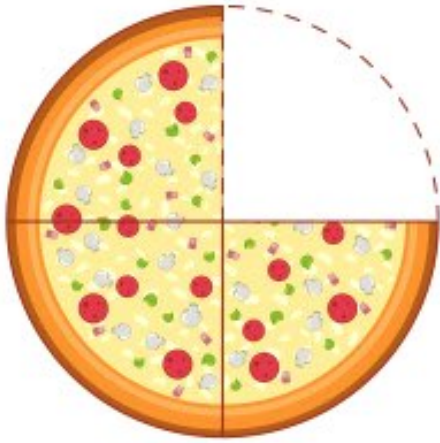
$$\frac{1}{3} + \frac{3}{6} =$$

$$\frac{4}{8} + \frac{1}{4} =$$

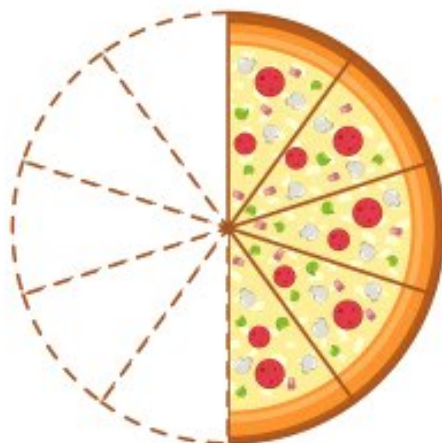
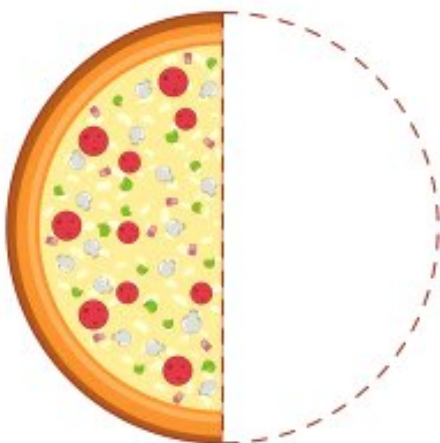
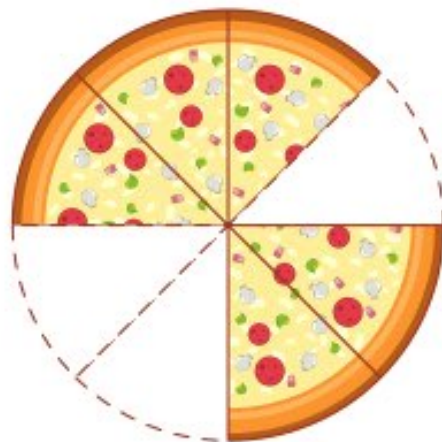
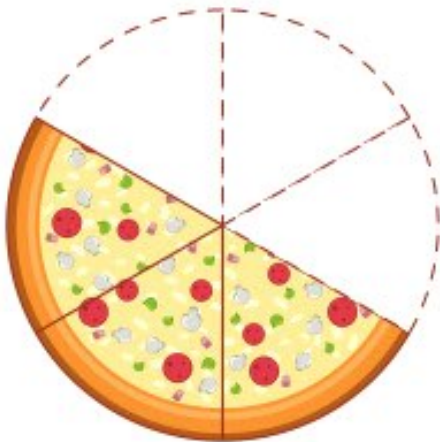
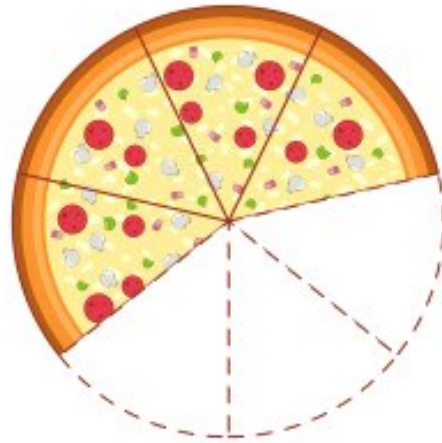
MATEMÁTICAS




Observa las pizzas y anota la fracción que representan



$\frac{3}{4}$




MATEMÁTICAS




Representa las fracciones en los círculos


$$\frac{2}{4}$$




$$\frac{4}{6}$$




$$\frac{7}{8}$$




$$\frac{3}{5}$$




$$\frac{8}{9}$$



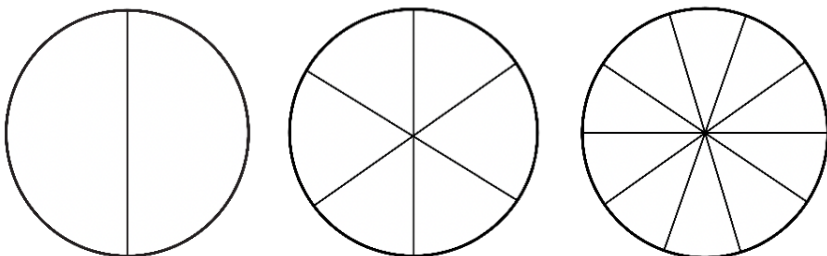
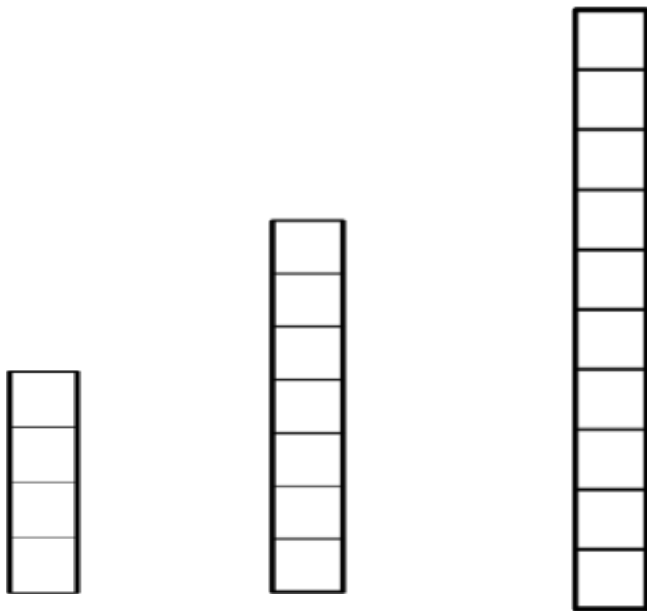
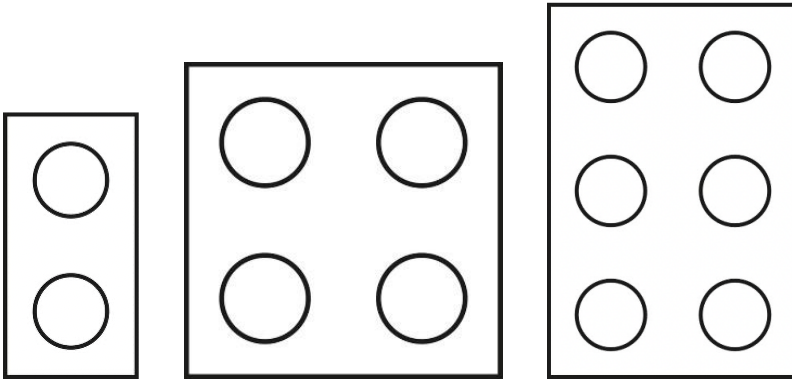
$$\frac{5}{5}$$



MATEMÁTICAS

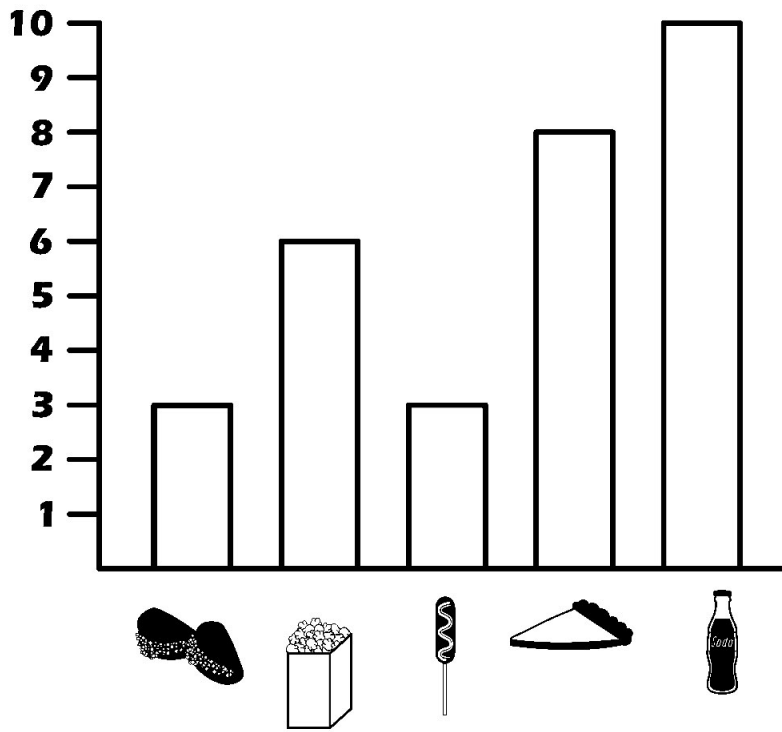


Completa las secuencias



MATEMÁTICAS

Observa la siguiente gráfica que muestra la cantidad de comida consumida por la familia Sanchez y contesta



CONTESTA:

¿qué alimento consumieron más? _____

¿qué alimentos consumieron en igual cantidad? _____

¿qué alimento consumieron menos? _____

MATEMÁTICAS

Contesta

Los lunes, la entrada a la feria es mas económica que el resto de la semana, Realiza la operación necesaria para saber cuanto dinero se puede ahorrar Asistiendo ese día.

Entrada	Costo normal	Costo los lunes	Operación	Ahorro
Adulto	\$45	\$32		
Niños	\$35	\$18		
Adulto Mayor	\$30	\$16		









Victoria compro varios llaveros en la feria para sus amigas si en total se gasto \$56 pesos y cada llavero le costo \$8 pesos, ¿cuantos llaveros compro?

CIENCIAS

NATURALES




CIENCIAS NATURALES

Escribe en el recuadro que animales son ovíparos y cuales son vivíparos.



CIENCIAS NATURALES

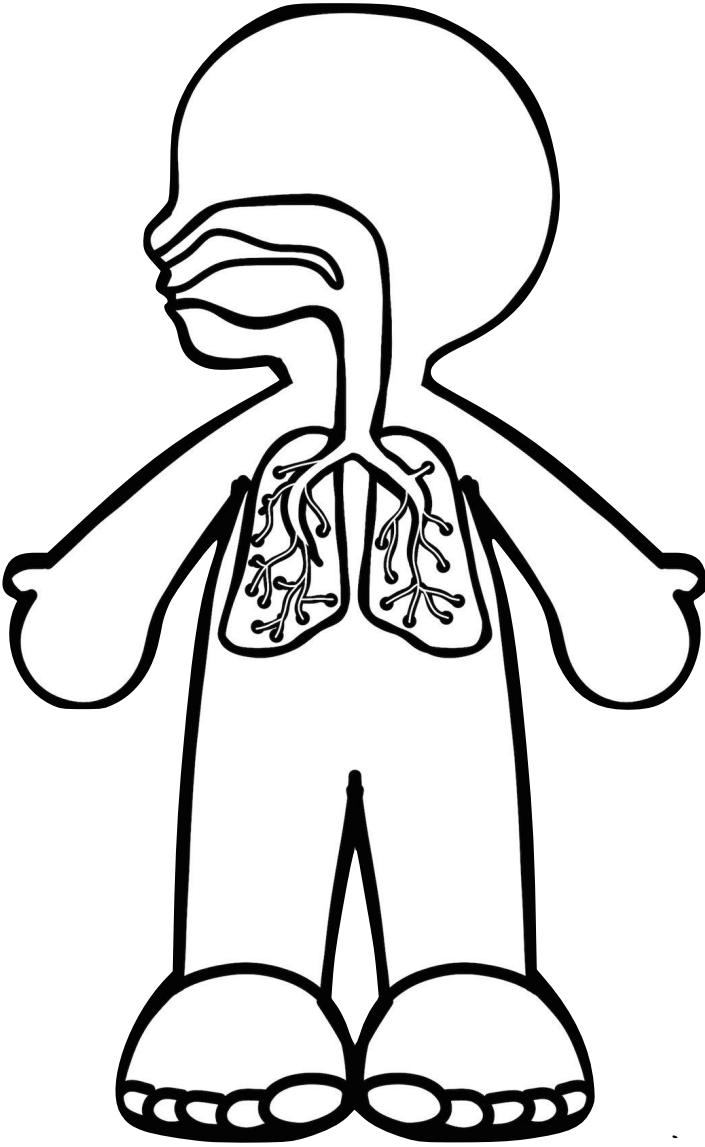
Colorea de verde la imagen que represente el estado solido, de azul el liquido y de rojo el gaseoso.



CIENCIAS NATURALES

Describe la función del

APARATO RESPIRATORIO

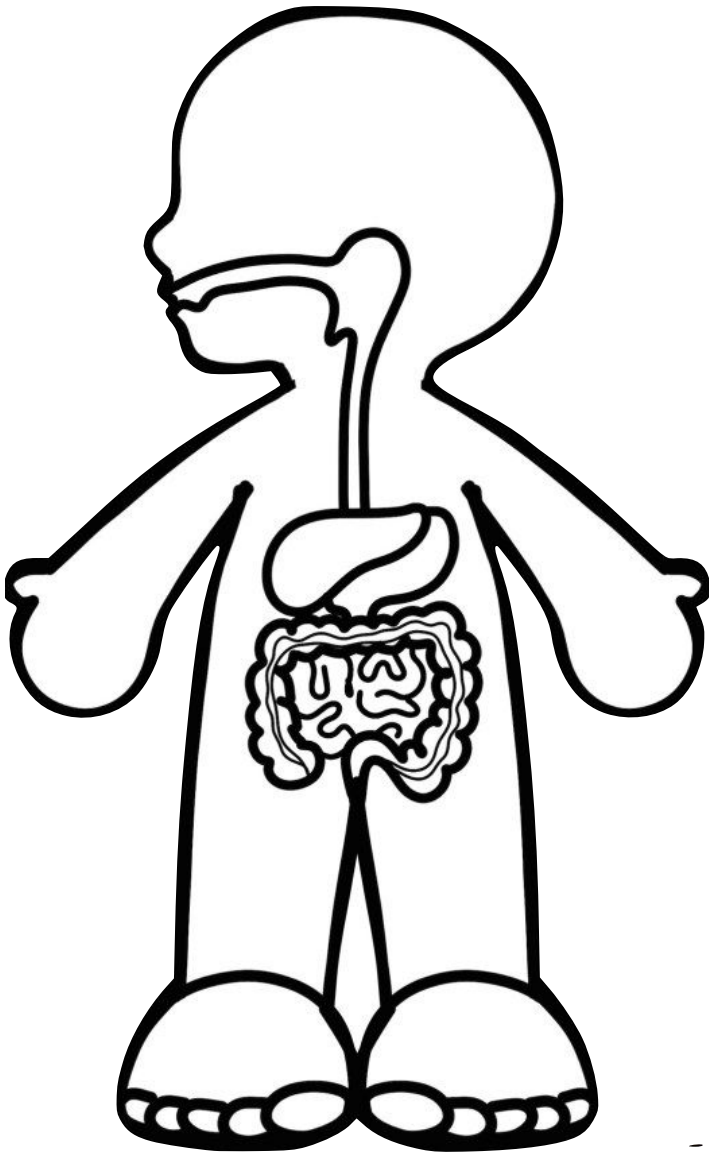


A large rectangular box containing ten horizontal lines for writing.

CIENCIAS NATURALES

Describe la función del

APARATO DIGESTIVO

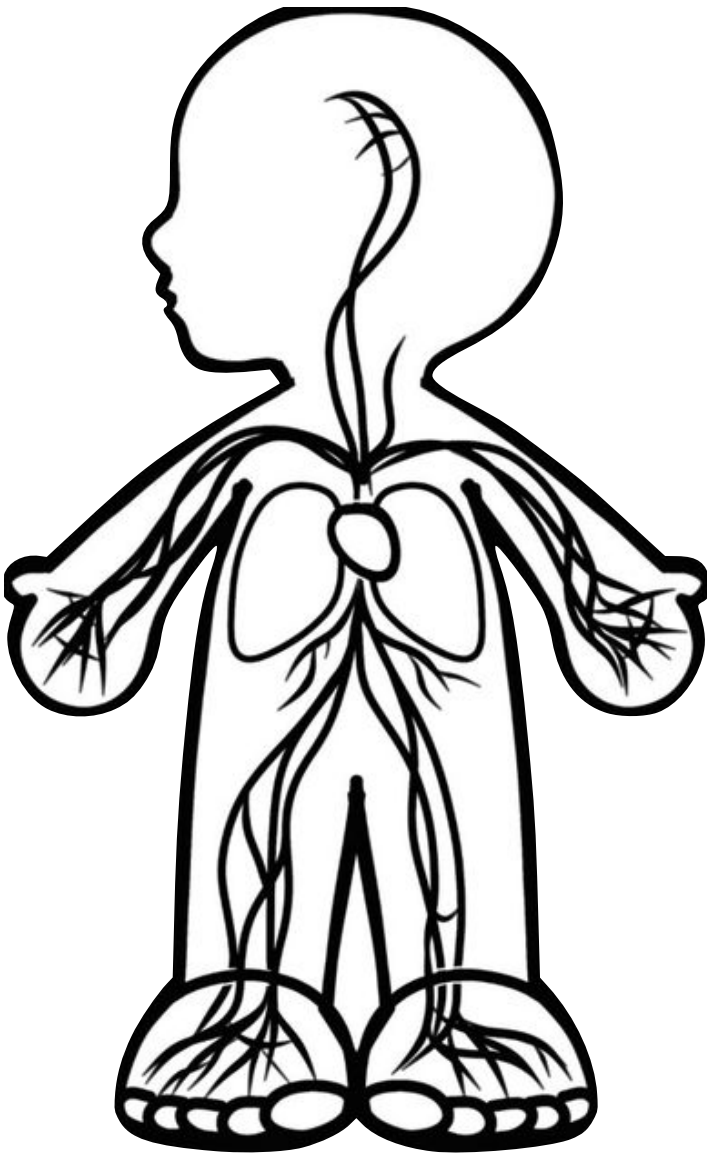


A large rectangular box with rounded corners, containing ten horizontal lines for writing.

CIENCIAS NATURALES

Describe la función del

APARATO CIRCULATORIO

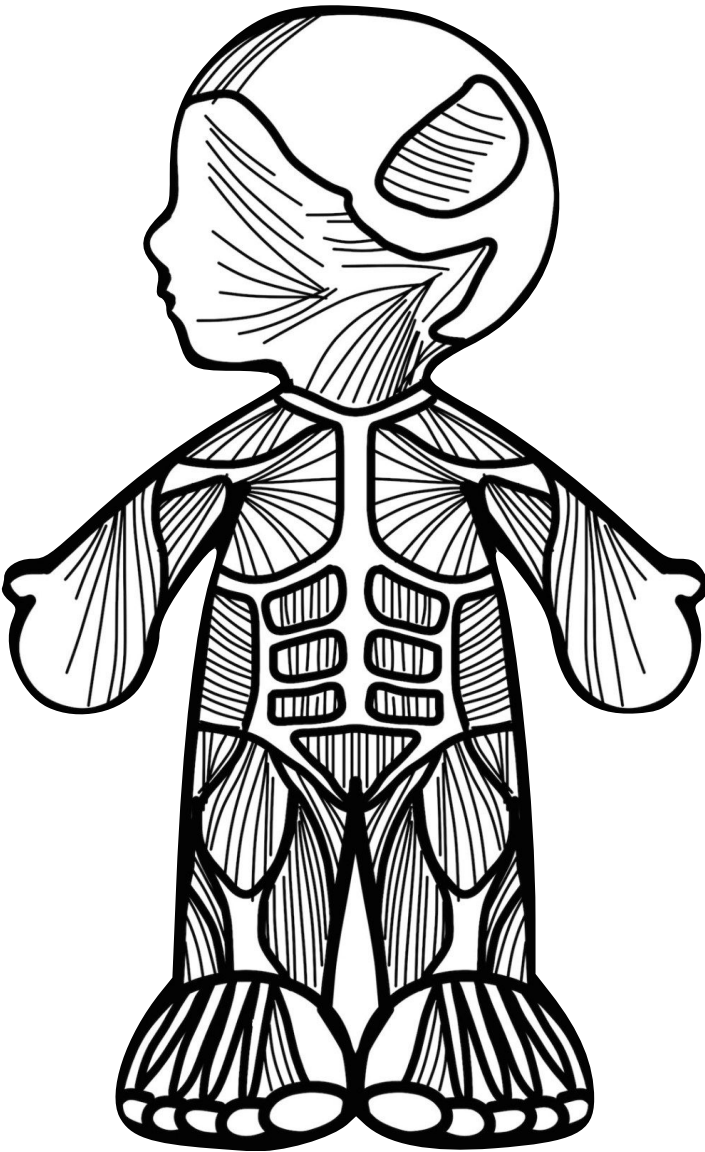


Área con líneas horizontales para escribir la descripción de la función del aparato circulatorio.

CIENCIAS NATURALES

Describe la función del

SISTEMA MUSCULAR

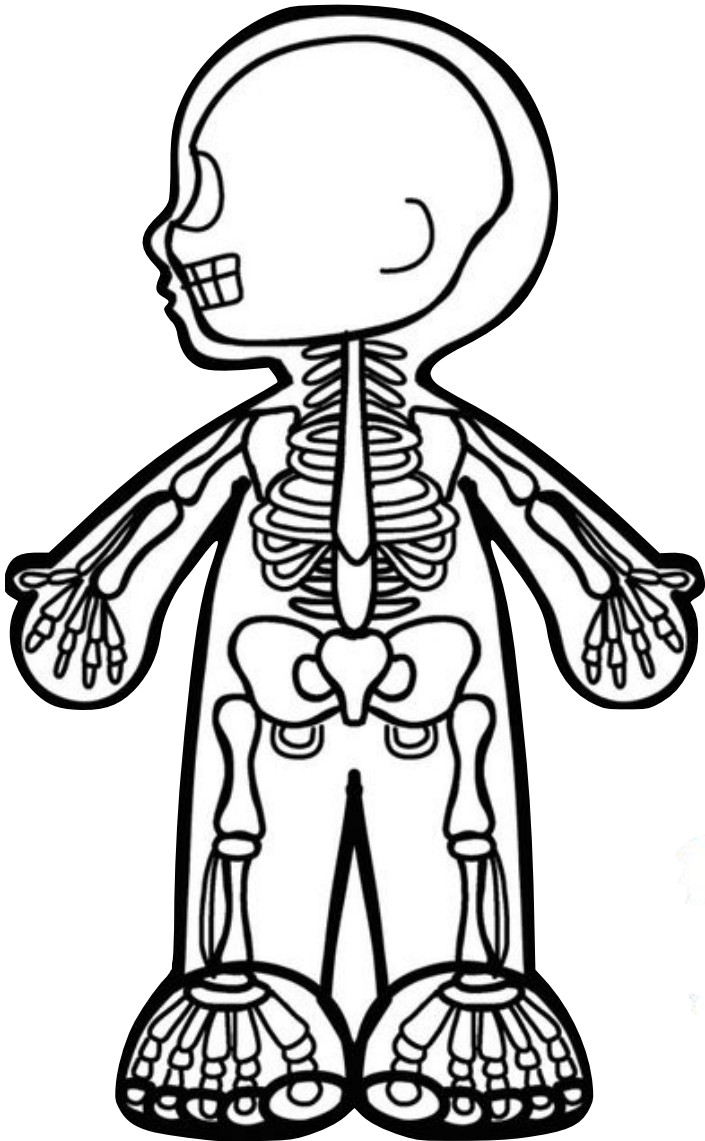


A large rectangular box with rounded corners, containing ten horizontal lines for writing. The lines are evenly spaced and extend across the width of the box, providing a space for the student to describe the function of the muscular system.

CIENCIAS NATURALES

Describe la función del

SISTEMA ÓSEO

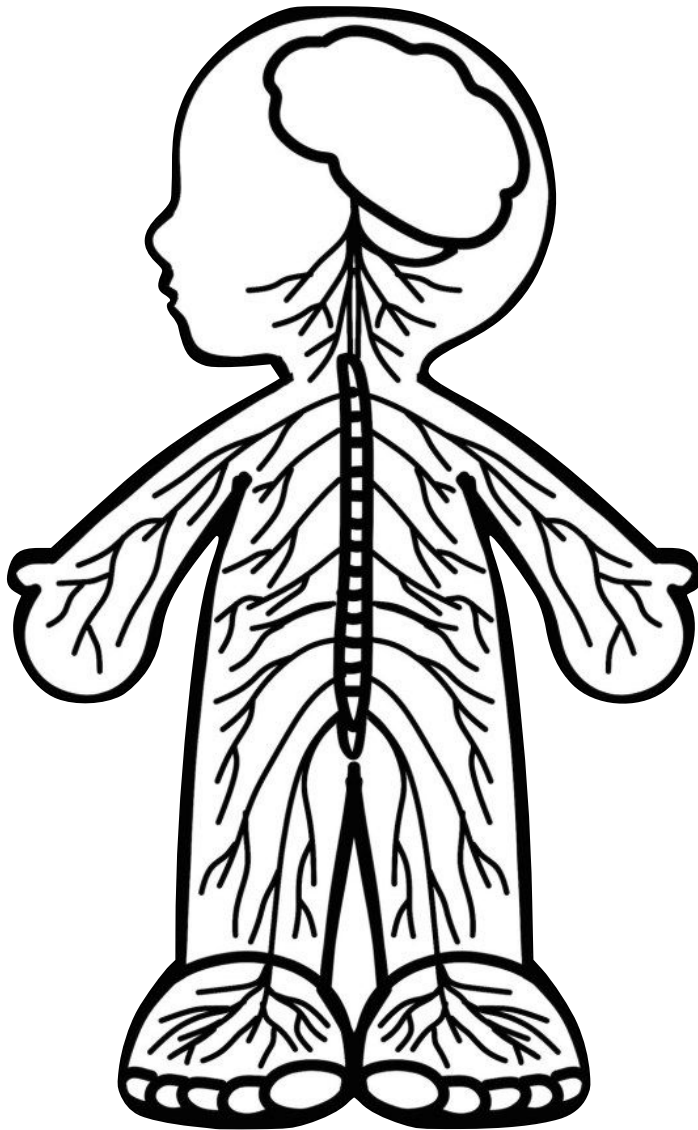


A large rectangular box containing ten horizontal lines, intended for students to write their answer.

CIENCIAS NATURALES

Describe la función del

SISTEMA NERVIOSO

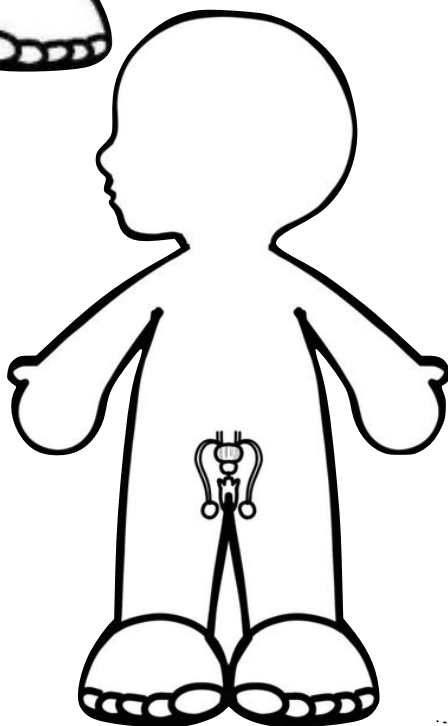
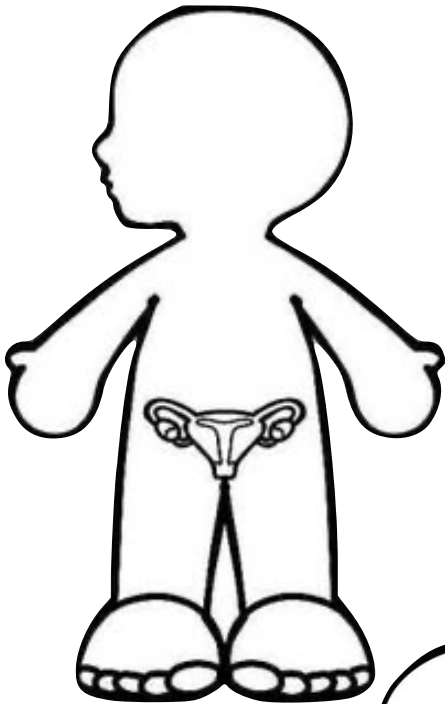


Área con líneas horizontales para escribir la descripción de la función del sistema nervioso.

CIENCIAS NATURALES

Describe la función del

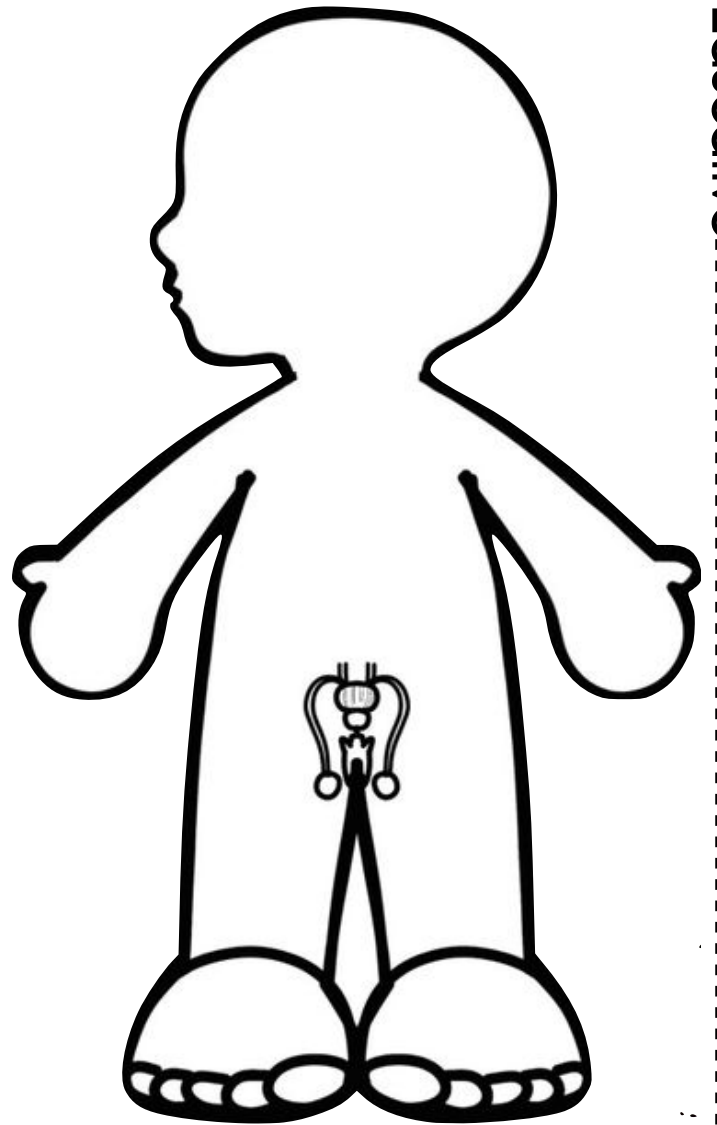
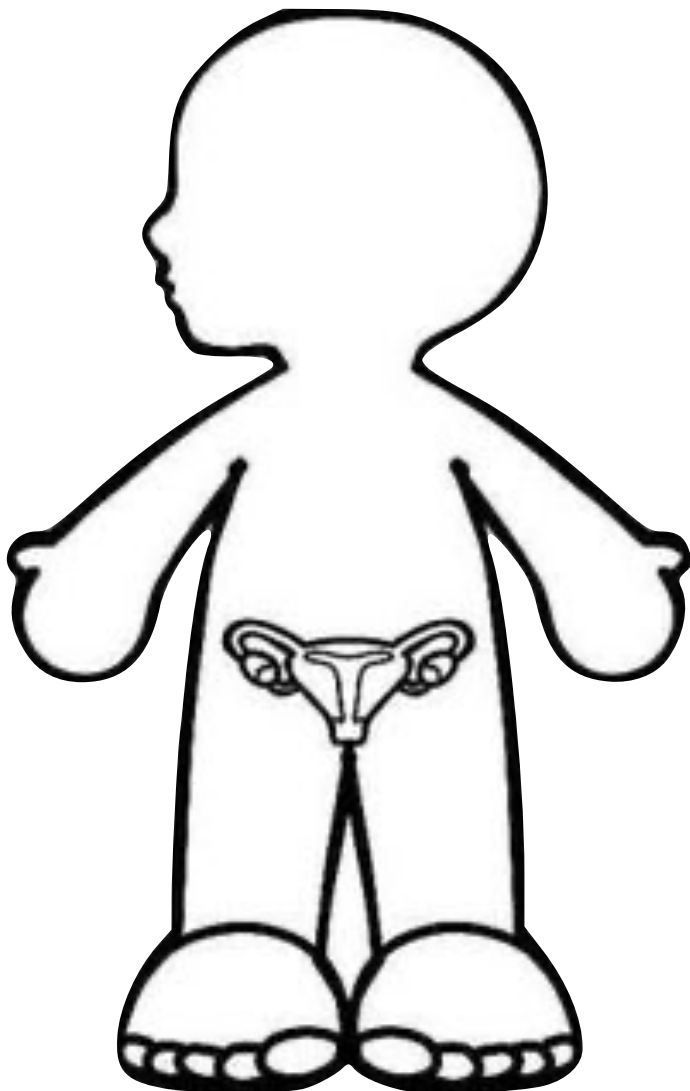
APARATO REPRODUCTOR



A large rectangular box containing ten horizontal lines for writing the student's answer.

CIENCIAS NATURALES

Colorea con rosado el aparato reproductor femenino y con azul el aparato reproductor masculino



LA ENTIDAD

DONDE VIVO

LA ENTIDAD DONDE VIVO

Escribe los nombres de los municipios que colindan con el municipio donde vives

Mi municipio es: _____	
Norte	
Sur	
Este	
Oeste	

Escribe el estado donde vives y su capital

El estado donde vivo se llama

--

Su capital es

--

LA ENTIDAD DONDE VIVO

Colorea en el mapa el estado de la republica donde vives




FORMACIÓN

CIVICA Y ÉTICA

FORMACIÓN CIVICA Y ÉTICA

Pega cada logo donde corresponde

UNICEF	INSTITUCIONES ENCARGADAS DE PROTEGER LOS DERECHOS DE LOS NIÑOS	UNESCO
OMS		ONU
CNDH		FIDH



FORMACIÓN CIVICA Y ÉTICA

Pega en los recuadros los derechos de los niños

DERECHOS DE LOS NIÑOS Y NIÑAS




FORMACIÓN CIVICA Y ÉTICA

Recorta y pega donde corresponde



fidh



Derecho a
Ser niño

Derecho a
Una identidad

Derecho a
crecer en
libertad

Derecho a
La salud

Derecho a
Una familia

Derecho a la
educación

Derecho a no
ser abandonado

Derecho a no
ser maltratado

Derecho a no
ser
discriminado

Derecho a ser
protegido

Creditos

DISEÑO: mas spinola



Queda prohibido distribuir, reproducir o vender este material de forma electrónica o impresa ya que se encuentra protegido por los derechos de autor y hacerlo conlleva a un delito

Gracias por compartir su talento