

# EL CLIMA Y LA HIDROGRAFÍA



Se puede...

Utilizar este recurso en el aula.

Promocionarle.

Mencionarme al usarlo.

No se puede...

Vender este material

Quitar logos o marcas de agua.

Imágenes y fuentes



dafont  
.com



**EL**

**C**



**Y LA HIDROGRAFÍA**

---



# EL TIEMPO ATMOSFÉRICO Y EL CLIMA

¿QUÉ DIFERENCIA EXISTE ENTRE TIEMPO ATMOSFÉRICO Y CLIMA?

---

---

---

RELACIONA CON UNA X CADA ELEMENTO METEOROLÓGICO CON LA UNIDAD DE MEDIDA CORRESPONDIENTE.

	TEMPERATURA	HUMEDAD	PRECIPITACIONES
MM O L/M <sup>3</sup>			
°C			
MILIBARES			

COMPLETA LAS NUBES CON LA INFORMACIÓN IMPORTANTE DE CADA ELEMENTO DEL CLIMA.

TEMPERATURA

PRECIPITACIONES

HUMEDAD DEL AIRE

PRESIÓN ATMOSFÉRICA

VIENTO



# COMPLETA EL CRUCIGRAMA

1. INSTRUMENTO QUE MIDE LAS  
PRECIPITACIONES


2. INSTRUMENTO QUE MIDE EL VIENTO

3. INSTRUMENTO QUE MIDE LA PRESIÓN  
ATMOSFÉRICA

4. INSTRUMENTO QUE MIDE LA  
HUMEDAD DEL AIRE

5. INSTRUMENTO QUE MIDE LA  
DIRECCIÓN DEL VIENTO

6. INSTRUMENTO QUE MIDE LA  
TEMPERATURA



# LOS FACTORES CLIMÁTICOS



¿QUÉ DIFERENCIA HAY ENTRE LATITUD Y ALTITUD?

---

---

CALCULA LA DIFERENCIA DE TEMPERATURA QUE HABRÁ ENTRE UN LUGAR CON 20°C Y OTRO SITUADO 1.500 METROS MÁS ELEVADO.




---

---

---

---

INDICA CÓMO INFLUYEN EN EL CLIMA DE UN LUGAR LOS SIGUIENTES FACTORES:





**BUSCA EN EL DICCIONARIO: BARLOVENTO Y ESCRIBE UNA FRASE CON ELLA.**

---

---

---

---

---

¿DÓNDE SERÁ MÁS FRÍO, CERCA O LEJOS DE LOS POLOS? ¿QUÉ FACTOR CLIMÁTICO ESTÁ RELACIONADO CON ESTO?

---

---

---

---





# REPRESENTAMOS EL TIEMPO Y EL CLIMA



**BUSCA EN EL DICCIONARIO:** ANTICICLÓN Y BORRASCA.

---

---

---

---

**INVESTIGA:** ¿QUÉ ES LA METEOROLOGÍA?

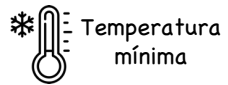
---

---

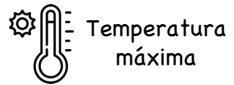
---

**INVESTIGA:** RECOGE EN LA SIGUIENTE TABLA LOS DATOS CLIMÁTICOS DE LA BAÑA. DESPUÉS REALIZA UN CLIMOGRAMA

LUN.	MAR.	MIÉR.	JUE.	VIE.	SÁB.	DOM.



Temperatura mínima



Temperatura máxima




Temperatura media



Precipitaciones



**REPRESENTA** LOS DATOS DE TEMPERATURAS EN UN CLIMOGRAMA.





# LA HIDROGRAFÍA



¿QUÉ ES UN RÍO?

---

---

---

**EXPLICA:** LAS CARACTERÍSTICAS DEL RÍO

---

---

---

---

---

# COLOREA EN EL MAPA LAS DISTINTAS VERTIENTES DE LOS RÍOS.





# LOS RÍOS DE ESPAÑA



DESCRIBE COMO SON LOS RÍOS EN CADA UNA DE LAS VERTIENTES.

## VERTIENTE CANTÁBRICA

---

---

---

---

---

---

---

## VERTIENTE ATLÁNTICA

---

---

---

---

---

---

---

## VERTIENTE MEDITERRÁNEA

---

---

---

---

---

---

---

