


# REPASO NAVIDEÑO

## 3º PRIMARIA



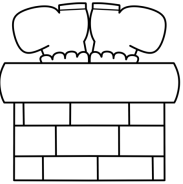
Escribe un adjetivo para cada  
sustantivo




campana



abeto



chimenea



regalo



galleta



Une con flechas los sinónimos

regalar

juntar

celebrar

donar

fiesta

presente

hermoso

bonito

unir

festejar

regalo

celebración

Escribe si es sustantivo, adjetivo o verbo



cantar



decorar



reino



divertido



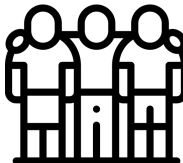
navideño




amigos



amor



reunir



emotivo

Escribe el antónimo de cada palabra

rápido

lejos

luminoso



alegre

frío



dulce

joven




ruidoso

Une los regalos con el género y  
número correspondiente



masculino singular



femenino plural




masculino plural



femenino singular



masculino singular



## Lee y responde. "El arbolito de navidad"

Érase una vez, hace mucho tiempo, un pueblecito donde vivía una familia muy pobre.

Cuando estaba próxima la Navidad, ellos no sabían como celebrarla sin dinero. Entonces el padre de la familia empezó a preguntarse cómo podía ganar dinero para pasar la noche de Navidad compartiendo un pavo al horno con su familia, disfrutando de la velada junto al fuego.

Decidió que ganaría algo de dinero vendiendo árboles de Navidad.

Así, al día siguiente se levantó muy temprano y se fue a la montaña a cortar algunos pinos. Subió a la montaña, cortó cinco pinos y los cargó en su carroza para venderlos en el mercado.

Cuando sólo quedaban dos días para Navidad, todavía nadie le había comprado ninguno de los pinos.

Finalmente, decidió que puesta que nadie le iba a comprar los abetos, se los regalaría a aquellas personas más pobres que su familia. La gente se mostró muy agradecida ante el regalo.

La noche de Navidad, cuando regresó a su casa, el hombre recibió una gran sorpresa. Encima de la mesa había un pavo y al lado un arbolito pequeño.

Su esposa le explicó que alguien muy bondadoso había dejado eso en su puerta.

Aquella noche el hombre supo que ese regalo tenía que haber sido concedido por la buena obra que él había hecho regalando los abetos que cortó en la montaña.




## Lee y responde

- 1) ¿Cómo quería pasar la navidad el padre de la familia?
- 2) ¿Qué se le ocurrió?
- 3) ¿Dónde consiguió los pinos?
- 4) ¿Logró venderlos?
- 5) ¿Qué se encontró cuando regresó a su casa la noche de navidad?
- 6) ¿Qué le explicó su esposa?
- 7) ¿Cómo piensas que se habrán sentido con la sorpresa?





Elige uno de los regalos y descríbelo



A large, empty rectangular box with rounded corners, intended for the user to write a description of their chosen gift.



Completa con el anterior y el posterior



Resuelve las sumas

$$\begin{array}{r} + \begin{array}{|c|c|c|} \hline 8 & 5 & 1 \\ \hline 1 & 2 & 4 \\ \hline \end{array} \\ \hline \end{array}$$

$$\begin{array}{r} + \begin{array}{|c|c|c|} \hline 3 & 4 & 7 \\ \hline 5 & 1 & 8 \\ \hline \end{array} \\ \hline \end{array}$$

$$\begin{array}{r} + \begin{array}{|c|c|c|} \hline 2 & 7 & 6 \\ \hline 4 & 6 & 1 \\ \hline \end{array} \\ \hline \end{array}$$

$$\begin{array}{r} + \begin{array}{|c|c|c|} \hline 1 & 8 & 5 \\ \hline 6 & 2 & 4 \\ \hline \end{array} \\ \hline \end{array}$$

$$\begin{array}{r} + \begin{array}{|c|c|c|} \hline 5 & 9 & 1 \\ \hline 4 & 0 & 3 \\ \hline \end{array} \\ \hline \end{array}$$

$$\begin{array}{r} + \begin{array}{|c|c|c|} \hline 4 & 1 & 2 \\ \hline 3 & 2 & 5 \\ \hline \end{array} \\ \hline \end{array}$$

Escribe el signo mayor o menor  
según corresponda

1130

2015

5216

5206

3284

3684

1049

1094

2698

1698

## Resuelve los siguientes problemas:

María fue al supermercado y gastó 238 euros. Luego pasó por la panadería y gastó 126 euros. Después de todas las compras, aún le quedaban 136 euros en su cartera.

¿Cuánto dinero tenía en total?

Planteo:

Resultado:



José ha comprado un árbol de navidad con un billete de 500 euros. Le han devuelto 102 euros. ¿Cuánto ha costado el árbol?

Planteo:

Resultado:



Papá Noel tiene 582 cartas para repartir entre 15 duendes. ¿Cuántas cartas le corresponden a cada duende?

Planteo:

Resultado:



Descompone en millares, centenas,  
decenas y unidades

**3851:** 3 MILLARES, 8 CENTENAS, 5 DECENAS Y 1 UNIDAD

**5201:**

**1284:**

**9731:**

**4176:**

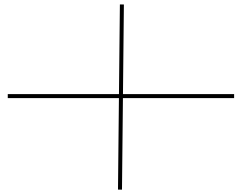
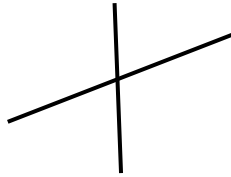
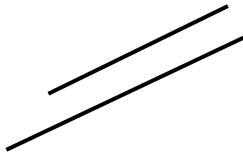
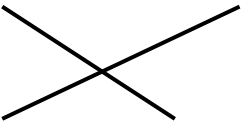
**1235:**

**6857:**

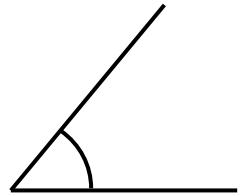
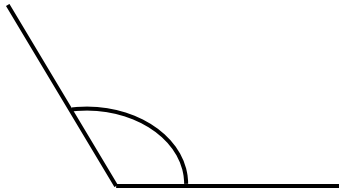
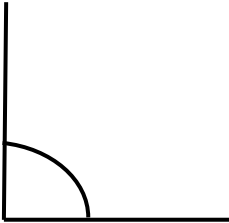


Traza con regla dos rectas paralelas

Colorea de rojo las rectas paralelas



¿Qué tipo de ángulos son?



# Colorea

De verde los triángulos  
De azul los cuadriláteros  
De rojo los pentágonos

