




RELOJ MÁGICO

Mira, este es un reloj. ¡Es redondo!

Tiene números y palitos




que se mueven.



 **Nos dice la hora.
¡Va lento!**

 **Nos dice los minutos. ¡Va más rápido!**

Cuando el  está arriba, en el número 12, decimos **"en punto"**.



El reloj ¡Es un buen amigo!




LECTURAS MULTINIVELADAS

G.T. DEL C.E.I.P NTR. SRA. DEL ROSARIO

LOS VILLARES (JAÉN)

Responde a estas preguntas:

1. ¿Cuál es la manecilla que marca la hora? Rodea



2. ¿Cómo se llama la manecilla del reloj que nos ayuda a contar los minutos?





minutero



hora

3. ¿Qué reloj marca en punto? Colorea



4. Dibuja una las 4 en punto.

