



Mayor o Menor


Compara los grupos de números y escribe el símbolo que corresponde.



> es mayor que



< es menor que



48 43

83 42

26 48

28 84

2 46


34 48

43 44


26 44

Mayor o Menor


Compara los grupos de números y escribe el símbolo que corresponde.



> es mayor que



< es menor que



4 48

42 84

26 48

68 44

43 44


48 48

88 46


48 42

Mayor o Menor


Compara los grupos de números y escribe el símbolo que corresponde.



> es mayor que



< es menor que



4 48

42 84

26 48

68 44

43 44


48 48

88 46


48 42

Mayor o Menor


Compara los grupos de números y escribe el símbolo que corresponde.



> es mayor que



< es menor que



$22 \square 43$

$23 \square 45$

$56 \square 48$

$88 \square 22$

$8 \square 46$


$34 \square 22$

$23 \square 42$


$56 \square 44$

Mayor o Menor


Compara los grupos de números y escribe el símbolo que corresponde.



> es mayor que



< es menor que



48 43

83 42

26 78

18 84

1 76


34 48

43 44


26 77

Mayor o Menor


Compara los grupos de números y escribe el símbolo que corresponde.



> es mayor que



< es menor que



$7 \quad \square \quad 48$

$42 \quad \square \quad 84$

$26 \quad \square \quad 78$

$68 \quad \square \quad 44$

$43 \quad \square \quad 47$


$48 \quad \square \quad 48$

$88 \quad \square \quad 76$


$48 \quad \square \quad 41$

Mayor o Menor


Compara los grupos de números y escribe el símbolo que corresponde.



> es mayor que



< es menor que



7 48

42 84

26 78

68 44

43 47


48 48

88 76


48 41

Mayor o Menor


Compara los grupos de números y escribe el símbolo que corresponde.



> es mayor que



< es menor que



$12 \square 43$

$23 \square 45$

$56 \square 78$

$98 \square 21$

$9 \square 76$


$34 \square 12$

$13 \square 41$


$56 \square 77$

Mayor o Menor


Compara los grupos de números y escribe el símbolo que corresponde.



> es mayor que



< es menor que



7 12

45 84

56 78

68 14

43 17


12 12

28 76


18 19

Mayor o Menor


Compara los grupos de números y escribe el símbolo que corresponde.



> es mayor que



< es menor que



7 12

45 84

56 78

68 14

43 17


12 12

28 76


18 19

Mayor o Menor


Compara los grupos de números y escribe el símbolo que corresponde.



> es mayor que



< es menor que



$4 \quad \square \quad 22$

$45 \quad \square \quad 84$

$56 \quad \square \quad 48$

$68 \quad \square \quad 24$

$43 \quad \square \quad 24$


$22 \quad \square \quad 22$

$28 \quad \square \quad 46$


$28 \quad \square \quad 28$

Mayor o Menor


Compara los grupos de números y escribe el símbolo que corresponde.



> es mayor que



< es menor que



$4 \quad \square \quad 22$

$45 \quad \square \quad 84$

$56 \quad \square \quad 48$

$68 \quad \square \quad 24$

$43 \quad \square \quad 24$

$22 \quad \square \quad 22$

$28 \quad \square \quad 46$

$28 \quad \square \quad 28$