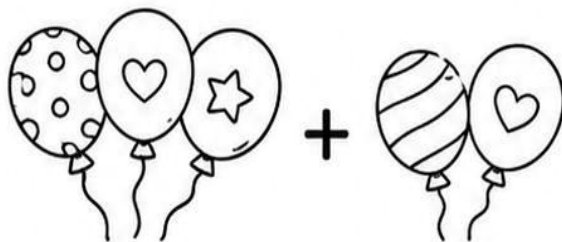


# PROBLEMAS MATEMÁTICOS

## DÍA DEL NIÑO


### LUNES

- 1** En la fiesta hay 3 globos y llegan 2 más.  
¿Cuántos globos hay en total?




Respuesta:

- 2** María tiene 5 dulces y se come 2.  
¿Cuántos le quedan?




Respuesta:

- 3** Hay 4 niños jugando y llegan 3 más.  
¿Cuántos niños hay ahora?




Respuesta:

- 4** Luis tiene 6 juguetes y regala 1.  
¿Cuántos le quedan?



Respuesta:

- 5** En la mesa hay 2 pasteles y traen 3 más.  
¿Cuántos hay en total?



Respuesta:



# PROBLEMAS MATEMÁTICOS

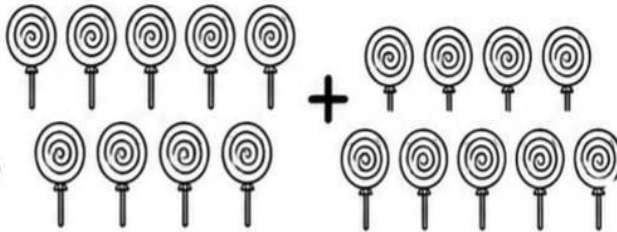


## DÍA DEL NIÑO



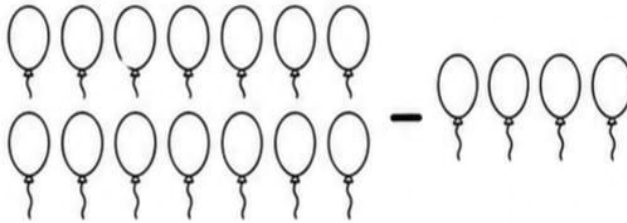
☆ **MARTES** ☆

**1** Ana tiene 9 paletas y le dan 7 más. ¿Cuántos tiene ahora?




Respuesta:

**2** Hay 18 globos y se revientan 5. ¿Cuántos quedan?



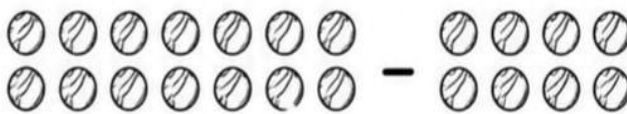
Respuesta:

**3** En el salón hay 13 niños y llegan 6 más. ¿Cuántos hay en total?



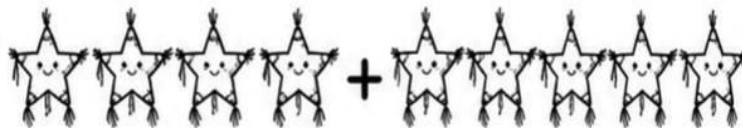
Respuesta:

**4** Pedro tiene 16 canicas y pierde 8. ¿Cuántas le quedan?



Respuesta:

**5** Hay 4 piñatas y traen 5 más. ¿Cuántas hay?



Respuesta:



# PROBLEMAS MATEMÁTICOS

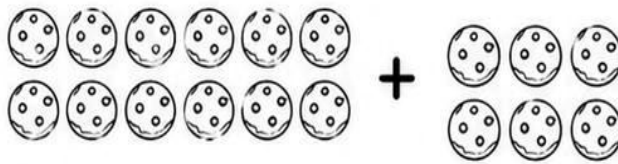
## DÍA DEL NIÑO

★ MIÉRCOLES ★



1


Sofía tiene 14 galletas  
y le dan 6 más.  
¿Cuántos tiene?



Respuesta:

2


Hay 20 niños  
y 7 se van.  
¿Cuántos quedan?



Respuesta:

3

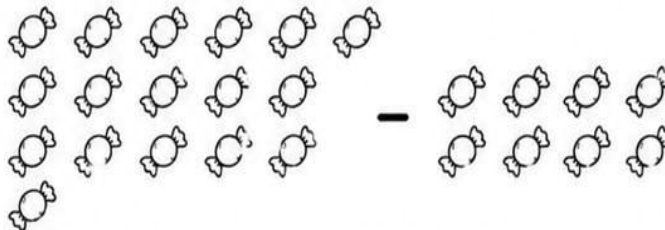
En la fiesta hay  
9 jugos y traen  
10 más.  
¿Cuántos hay?



Respuesta:

4

Juan tiene 17 dulces  
y se come 9.  
¿Cuántos  
le quedan?



Respuesta:

5

Hay 6 regalos  
y llegan 8 más.  
¿Cuántos hay  
en total?



Respuesta:



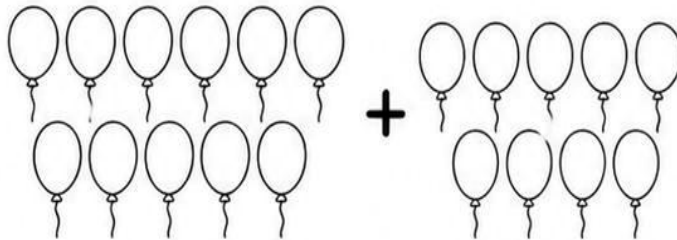
# PROBLEMAS MATEMÁTICOS

## DÍA DEL NIÑO

### JUEVES

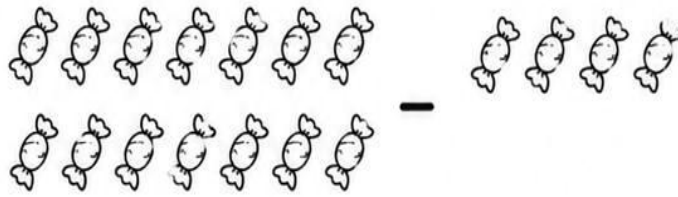


**1** Hay 11 globos y traen 9 más. ¿Cuántos hay?




Respuesta:

**2** Carla tiene 20 dulces y regala 7. ¿Cuántos le quedan?



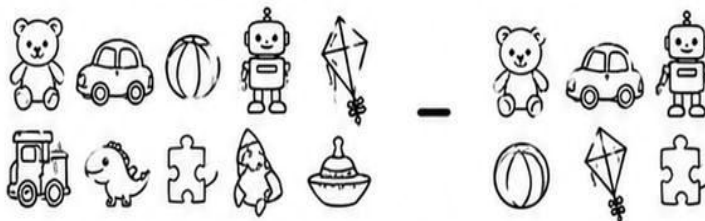
Respuesta:

**3** En el parque hay 15 niños y llegan 5 más. ¿Cuántos hay?




Respuesta:

**4** Hay 18 juguetes y se rompen 6. ¿Cuántos quedan?



Respuesta:

**5** Hay 12 pasteles y traen 4 más. ¿Cuántos hay?



Respuesta:



# PROBLEMAS MATEMÁTICOS

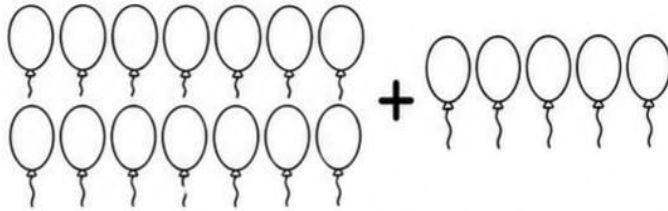


DÍA DEL NIÑO



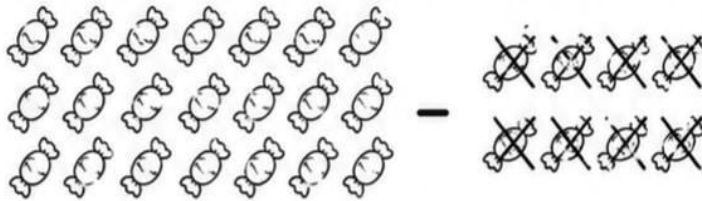
★ VIERNES ★

**1** Diego tiene 13 globos y le dan 6 más. ¿Cuántos tiene?




Respuesta:

**2** Hay 25 dulces y se comen 10. ¿Cuántos quedan?



Respuesta:

**3** En la fiesta hay 14 niños y llegan 9 más. ¿Cuántos hay?



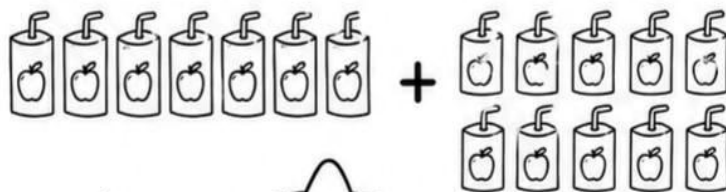
Respuesta:

**4** Hay 16 regalos y se abren 7. ¿Cuántos quedan?



Respuesta:

**5** Hay 10 jugos y traen 8 más. ¿Cuántos hay?



Respuesta:

