




RETOS ARTÍSTICOS

@clauladepaula @albaenclaula


Dibuja las simetrías.




@clauladepaula @albaenclaula



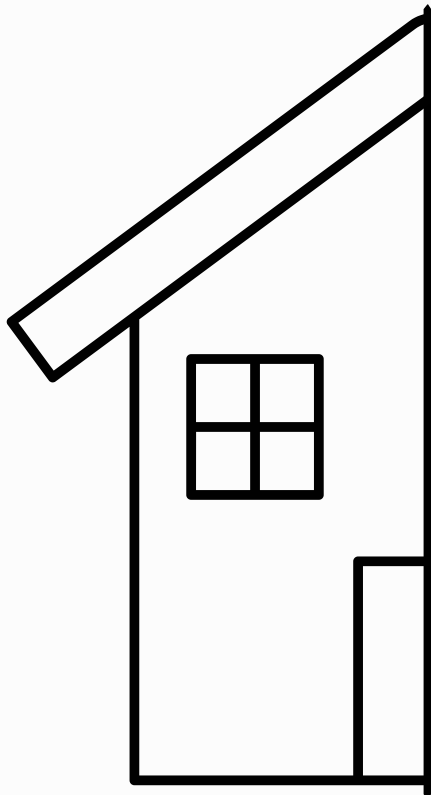
@clauladepaula @albaenclaula



@clauladepaula @albaenclaula




@clauladepaula @albaenclaula




@clauladepaula @albaenclaula



@clauladepaula @albaenclaula



@clauladepaula @albaenclaula



@clauladepaula @albaenclaula



@clauladepaula @albaenclaula


En un folio de cuadros, dibuja
las siguientes imágenes
siguiendo los cuadraditos.



@elauladepaula @albaenelaula



@clauladepaula @albaenclaula



@clauladepaula @albaenclaula



@clauladepaula @albaenclaula




@clauladepaula @albaenclaula




@clauladepaula @albaenclaula




@clauladepaula @albaenclaula




@clauladepaula @albaenclaula



@clauladepaula @albaenclaula



@clauladepaula @albaenclaula




@clauladepaula @albaenclaula


Recrea estos cuadros en un folio en blanco



@elauladepaula @albaenelaula



@clauladepaula @albaenclaula



@clauladepaula @albaenclaula



@clauladepaula @albaenclaula



@clauladepaula @albaenclaula



@clauladepaula @albaenclaula



@clauladepaula @albaenclaula



@clauladepaula @albaenclaula



@clauladepaula @albaenclaula

A decorative border of colorful, scattered letters in various colors (red, blue, green, yellow, purple) surrounds the central text. The letters are arranged in a way that they appear to be falling or floating around the main title.

RETOS LINGÜÍSTICOS

@clauladepaula @albaenelaula

EL RETO DE LAS PALABRAS



Escribe 3 palabras que empiecen por la misma letra (ej: M).

@clauladepaula @albaenclaula

ORDENA



Ordena las letras: **S A C A** y escribe la palabra correcta.



@clauladepaula @albaenclaula

¡INVENTA FRASES



Inventa una frase con la palabra: sol.



@clauladepaula @albaenclaula

DIBUJA Y ESCRIBE



Dibuja algo en un folio y escribe
su nombre debajo.



@clauladepaula @albaenclaula

BUSCA Y ENCUENTRA



Encuentra en un libro una palabra
que tenga la letra P y escribela.



@clauladepaula @albaenelaula

¡INVENTA FRASES



Escribe una frase con: perro y casa.



@clauladepaula @albaenclaula

DIBUJA Y ESCRIBE



Lee esta frase y dibuja lo que has entendido en un folio.

“El perro jugaba con una pelota de basquet en el parque.”

@clauladepaula @albaenclaula

SEPARA



Separa las palabras: elgato corre.

--	--	--

@lauladepaula @albaenlaula

PALABRA DIVERTIDA



Cambia una palabra para hacer una frase divertida. Escríbela en tu libreta.

"Pablo fué al colegio con su mochila nueva."

@lauladepaula @albaenlaula

RIMAS



Rodea las palabras que rimen con mesa.

avión

pesa

turrón

sorpresa

promesa

fresa

jamón

@lauladepaula @albaenlaula

ESCRIBE



Escribe 2 frases sobre tu día usando mayúscula y punto.



@clauladepaula @albaenclaula

GÉNERO



Cambia el género:

niño →

maestro →

caballo →

bombero →

@clauladepaula @albaenclaula

INVENTA CUENTOS



Inventa un título para un cuento.
Escribe el título en tu libreta y crea el cuento como si lo fueras a presentar a un concurso de cuentos.

@clauladepaula @albaenclaula

EL RETO DE LAS 5 PALABRAS



Escribe una historia usando estas 5 palabras:

Dragón.

Bicicleta.

Lluvia.

Secreto.

Ventana.

@clauladepaula @albaenclaula

SINÓNIMOS



Escribe un sinónimo de: grande.



@clauladepaula @albaenelaula

ESCRIBE



Escribe 3 frases formando un mini texto.
Para ello, elige 3 palabras de esta tarjeta
y crea tu texto en tu libreta.

PALABRAS A ELEGIR: camión, flor, vecino,
saltamontes, paracaídas, linterna, aguja.

@clauladepaula @albaenclaula

TIEMPOS VERBALES



Cambia el tiempo verbal: yo juego →
ayer yo...



@clauladepaula @albaenclaula

ADJETIVOS



Rodea 5 adjetivos para "casa". Ten en cuenta que concuerden en género y número.

alto / redonda / simpático / grande /
pequeñito / agradable / diminuta

@clauladepaula @albaenclaula

VERBOS



Rodea 10 verbos.

Ayer corrí por el parque, luego comí con mis amigos, después leí un libro, más tarde escribí en mi cuaderno y finalmente dormí temprano. Hoy desperté con energía, bebí café, trabajé un rato, hablé con un amigo y aprendí algo nuevo.

@clauladepaula @albaenclaula

TEXTO ANTERIOR



Copia el texto anterior en tu libreta,
rodeando los verbos de color verde y
los sustantivos de color azul.

@clauladepaula @albaenelaula

INVENTA



Escribe en un folio un pequeño párrafo
(4-5 líneas) sobre un tema libre.
(ej: inventa una aventura, una historia, un
cuento...)

@clauladepaula @albaenclaula

PLURAL Y SINGULAR



Cambia en tu libreta la frase a plural.
El lápiz es pequeño y el estuche está lleno.

@clauladepaula @albaenclaula

ESCRIBE



Rodea 2 sinónimos de rojo y 2 antónimos de verde de la palabra "**feliz**".

triste / alegre / contento / infeliz

@clauladepaula @albaenclaula

CORREGIR




Corrige en tu libreta una frase con errores
"El niño juegan en el parke i despues se fueron a su casa sin aber comido nada"

@clauladepaula @albaenclaula

INVENTA



Inventa una historia con algunos de estos objetos.



@lauladepaula @albaenlaula

CORRIGE LOS ERRORES



Corrige en tu libreta una frase con errores
"El perra juegan en el gardin i despues se va a
su casa corriendo sin aber gujado nada"

@lauladepaula @albaenlaula

TRANSFORMA



Transforma este texto al futuro en tu libreta:
"Ayer corrí por el parque y comí con mis amigos."

@clauladepaula @albaenclaula

SUSTITUYE



Copia y sustituye en tu libreta las palabras en negrita por un sinónimo más formal:
"Fue una **buena** idea tener una **charla** con él."

@clauladepaula @albaenclaula

UNE



Une estas dos frases en tu libreta usando un conector adecuado (sin repetir "y"):
"Quería salir a correr. Estaba lloviendo mucho."

@clauladepaula @albaenclaula

AMPLIA



Amplía esta oración añadiendo al menos 3 complementos (tiempo, lugar, modo, etc.):
"Ella escribió una carta."
Escribe la oración en tu libreta, revisando las faltas y haz un dibujo sobre eso.

@clauladepaula @albaenclaula

EXTRA

CAMINO
MONTAÑA
VENTANA
RÁPIDO
BOSQUE
ESPEJO

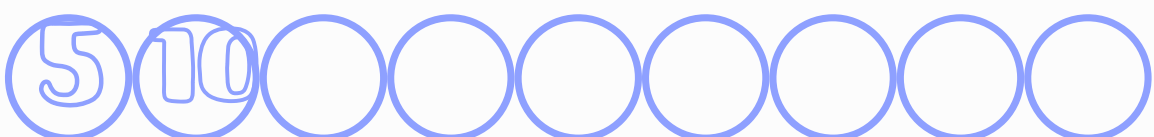

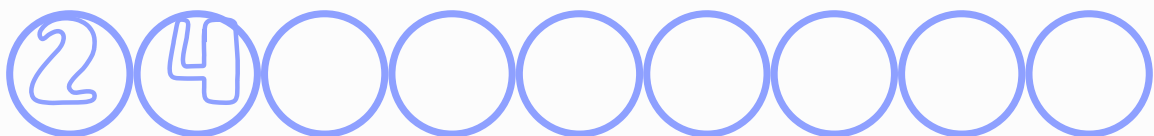
B	F	U	V	E	N	T	A	N	A
R	V	T	T	T	N	X	M	X	Z
C	Á	T	Y	I	J	L	B	P	E
A	L	P	T	F	P	Z	I	J	X
M	E	K	I	K	X	H	Z	A	B
I	S	G	N	D	T	N	T	X	O
N	P	B	P	O	O	L	B	K	S
O	E	M	O	N	T	A	Ñ	A	Q
H	J	Z	Y	A	D	H	V	G	U
W	O	Z	K	W	X	B	J	J	E

@clauladepaula @albaenclaula

RETOS MATEMÁTICOS



@clauladepaula @albaenlaula

COMPLETA LAS SERIES



@clauladepaula @albaenlaula

ESCRIBE LOS NÚMEROS




@clauladepaula @albaenclaula

ORDENA DE MAYOR A MENOR



Ordena los siguientes números de mayor a menor: 7 / 2 / 10 / 1 / 9 / 3




@clauladepaula @albaenclaula

ORDENA DE MENOR A MAYOR



Ordena los siguientes números de menor a mayor: 7 / 2 / 10 / 1 / 9 / 3




@clauladepaula @albaenclaula

NÚMEROS PARES



Rodea los números pares de color azul.



@clauladepaula @albaenclaula

RESUELVE



En un árbol hay 10 pájaros y se van volando 3. ¿Cuántos quedan?
RODEA LA OPERACIÓN Y HAZLA:

SUMA // RESTA

@lauladepaula @albaenlaura

CREA TU PROBLEMA



CON ESTOS DATOS, CREA UN PROBLEMA EN
TU LIBRETA DE MATE:

12 manzanas

7 melocotones

@lauladepaula @albaenlaura

DIBUJA Y PINTA



Un círculo de color rojo, un triángulo de color amarillo y un cuadrado de color verde.

@lauladepaula @albaenlaura

RODEA EL NÚMERO MAYOR



8	10
---	----

7	3
---	---

5	2
---	---

9	7
---	---

@lauladepaula @albaenlaura

RODEA EL NÚMERO MENOR



8 10

7 3

5 2

9 7

@lauladepaula @albaenlaula

SERIE NUMÉRICA



OBSERVA la serie y escribe qué números faltan. Escríbela en tu libreta.


2 - 4 - 6 - ? - ? - ?

@lauladepaula @albaenlaula

CONSIGUE LLEGAR



Llega al número 15 con 3 números diferentes. Escríbelos.



@clauladepaula @albaenclaula

EL NÚMERO MISTERIOSO



Resuelve este reto en tu libreta.

ENUNCIADO: Soy un número mayor que 20 y menor que 30. Si le sumas 5, obtienes 28.

¿Qué número soy?

@clauladepaula @albaenclaula

NÚMERO ESCONDIDO



Piensa un número. Si lo multiplicas por 2 y le sumas 6, obtienes 20. ¿Qué número pensaste?

@clauladepaula @albaenclaula

SERIE MISTERIOSA



Observa la serie y completa con el número correspondiente en el interrogante..Cópiala en tu libreta y explica por qué va ese número.

3

6

12

24

?

@clauladepaula @albaenclaula

MITADES Y CUARTOS



Si una pizza se divide en 4 partes iguales y te comes 2, ¿qué fracción de pizza has comido? Expresa el resultado de dos formas distintas, utilizando la mitad y el cuarto como denominador.

@clauladepaula @albaenclaula

LÓGICA



Tengo 3 cajas. En una hay solo manzanas, en otra solo naranjas y en otra hay mezcla.

Todas están mal etiquetadas. Si solo puedes coger una fruta de una caja, ¿de cuál eliges para saber todas? ¿Por qué?

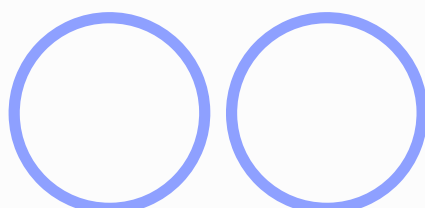
Reflexiona en tu libreta.

@clauladepaula @albaenclaula

OPERACIÓN ESPECIAL



Encuentra 2 números diferentes que sumen 30 y uno sea el doble que el otro. ¿Qué números son?



@clauladepaula @albaenclaula

CONSTRUCCIÓN





Con 12 bloques haces torres de igual de altura. ¿Cuántas torres diferentes puedes hacer sin que sobren bloques? Haz la prueba de ello en tu libreta.

@clauladepaula @albaenclaula

EL RELOJ



Son las 15:30h. Marca la hora en el reloj y escribe en el otro qué hora será dentro de 45 minutos.



@clauladepaula @albaenclaula

ANIMALES EN LA GRANJA



En una granja hay gallinas y conejos. Hay 10 cabezas y 28 patas.

¿Cuántos animales hay de cada tipo?


Dibújalos en tu libreta.

@clauladepaula @albaenclaula

FIGURAS



¿cuántos triángulos ves en esta figura?



@lauladepaula @albaenlaura

VERDADERO O FALSO



¿Es posible sumar tres números impares y obtener un número par? Haz varias pruebas y di si es V o F.

@lauladepaula @albaenlaura

NÚMERO SECRETO



Piensa en un número. Escríbelo en tu libreta y haz las siguientes operaciones con él.

Lo multiplicas por 3 y le restas 5.

Obtienes 28.

¿Qué número era?

@clauladepaula @albaenclaula

PATRÓN OCULTO



Mira esta serie. PISTA: Cada vez aumenta más...

5 - 9 - 17 - 33 - ??

¿Qué número sigue?

@clauladepaula @albaenclaula

FRACCIONES



Tienes una tarta. Dibújala en tu libreta.
Comes $\frac{3}{8}$ y tu hermano $\frac{2}{8}$.
Pinta de color rojo lo que comes tú y de verde lo que come tu hermano.
Luego escribe qué fracción es la que queda sin comer.

@clauladepaula @albaenclaula

LÓGICA NUMÉRICA



Coloca los números 1, 2, 3 y 4 en las casillas para que todas las sumas den lo mismo.

$$\bigcirc + \bigcirc = \bigcirc + \bigcirc$$

@clauladepaula @albaenclaula

EL NÚMERO ESCONDIDO



Piensa un número. Súmale 15.

Multiplícala el resultado por 2.

Resta 10.

El resultado es 40.

¿Qué número era?

@lauladepaula @albaenlaula

PROBLEMA



COPIA EL PROBLEMA EN TU LIBRETA Y
RESUELVE:

TRES AMIGOS COMPARTEN 2 PIZZAS IGUALES.
¿CUÁNTA PIZZA LE TOCA A CADA UNO?

@lauladepaula @albaenlaula

PERÍMETRO MISTERIOSO



Un rectángulo tiene:

Largo: 8cm.

Ancho: 5cm.

Dibuja en tu libreta y calcula su perímetro.

@lauladepaula @albaenlaula

SERIE LÓGICA



COMPLETA LA SERIE EN TU LIBRETA Y EXPLICA
LA REGLA QUE SIGUE.

3 - 6 - 12 - 24 - ??? - ??? - ???

@lauladepaula @albaenlaula

ÁREA EN CUADRÍCULA



En tu libreta, dibuja un rectángulo de 4 x 6 cuadrados. Copia las preguntas y resuelve:

- 1- ¿Cuál es su área?
- 2- ¿Puedes hacer otro rectángulo con la misma área pero diferente forma?

@clauladepaula @albaenclaula

PROBLEMA



COPIA EN TU LIBRETA Y RESUELVE.

Tienes 80€ en tu cartera y compras:
3 libros (cada uno vale 9 euros) y 4 estuches (cada uno vale 3 euros). ¿Cuánto te queda?

@clauladepaula @albaenclaula

VERDADERO O FALSO



Todos los números pares son divisibles entre 4. ¿Verdadero o falso?
Explica en tu libreta con ejemplos.

@lauladepaula @albaenlaura

FRACCIONES



¿Cuál es mayor?
 $\frac{3}{4}$ o $\frac{5}{8}$
Explica en tu libreta cómo lo sabes, si lo necesitas puedes hacerlo mediante dibujos.

@lauladepaula @albaenlaura

PROBLEMA CON PASOS



ESCRIBE UN PROBLEMA CON ESTOS DATOS Y
HAZ QUE TU COMPAÑERO LO RESUELVA
PASO A PASO EN SU LIBRETA.

DATOS: 60 PERSONAS, BAJAN 19 Y SUBEN 47.

@lauladepaula @albaenlaura

ÁREA DEL TRIÁNGULO



Calcula el área del triángulo en tu libreta, con
estos datos:

- Base: 10 cm.
- Altura: 6cm.

Escribe cuál es la fórmula.

@lauladepaula @albaenlaura

FRACCIONES EQUIVALENTES



ESCRIBE EN TU LIBRETA TRES FRACCIONES
EQUIVALENTES A:

- $2/3$
- $4/6$
- $8/18$

@clauladepaula @albaenclaula

PROBLEMA LÓGICO



En una carrera hay 5 niños.
Ana llega antes que Luis, pero después que
Marta.

¿Quién ganó?

¿Por qué?

@clauladepaula @albaenclaula

VOLUMEN



Un cubo tiene lado de 3cm.
¿Cuál es su volumen?
Resuelve en tu libreta.

@clauladepaula @albaenclaula

NÚMERO DECIMAL



Convierte en número decimal:

- $3/5$
- $7/4$
- $2/8$
- $9/6$

@clauladepaula @albaenclaula

PROBLEMA %



COPIA Y RESUELVE EN TU LIBRETA.

Una camiseta cuesta 20€.

Tiene un 25% de descuento.

- ¿Te costará más o menos de 25 euros?
- ¿Cuánto pagarás?

@lauladepaula @albaenlaula

RETO DE GEOMETRÍA



DIBUJA EN TU LIBRETA:

- Un triángulo con un ángulo recto. ¿Cómo se llama ese tipo de triángulo?

@lauladepaula @albaenlaula



RETOS CIENTÍFICOS

@clauladepaula @albaenlaula

VERDADERO O FALSO



Di si estas afirmaciones son verdaderas (V)
o falsas (F).

Las plantas tienen huesos —>

Todos los animales pueden volar —>

Los seres vivos tenemos 3 funciones:
nutrición, relación y reproducción —>

@clauladepaula @albaenlaula

TIEMPO



Rodea qué tiempo hace hoy.



@clauladepaula @albaenclaula

DETECTIVE DE PLANTAS



Rodea las siguientes partes: hoja, tallo, flor.



@clauladepaula @albaenclaula

¿FLOTA O SE HUNDE?



Rodea de un color los objetos que floten y de otro los que se hundan.




@clauladepaula @albaenclaula

MI ENTORNO



Rodea de **rojo** algo natural y de **azul** algo hecho por personas.



@clauladepaula @albaenclaula

SONIDOS DE ALREDEDOR



Escribe o dibuja 3 sonidos que escuches.

@clauladepaula @albaenclaula

¿ANIMAL O PLANTA?



Clasifica con rodeando con colores diferentes.



@clauladepaula @albaenclaula

FRIO O CALOR



Rodea de azul las cosas que llevamos cuando hace frio y de rojo cuando hace calor.



@lauladepaula @albaenlaula

5 DIFERENCIAS



@lauladepaula @albaenlaula

ESTADOS DEL AGUA



Escribe los estados del agua.



@clauladepaula @albaenclaula

RECICLAMOS



Rodea según el color del contenedor correspondiente.




@clauladepaula @albaenclaula

ETAPAS DE UNA PLANTA



Escribe las diferentes etapas.



@clauladepaula @albaenlaula

ORIENTACIÓN



Dibuja el norte, sud, este y oeste.



@clauladepaula @albaenlaula

PUEBLO O CIUDAD



Rodea los elementos que sean de ciudad y deja en blanco los de pueblo.



@lauladepaula @albaenlaura

CLASIFICA



● Herbívoro ● Carnívoro ● Omnívoro




@lauladepaula @albaenlaura

CICLO DEL AGUA



Ordena haciendo flechas, el ciclo del agua.

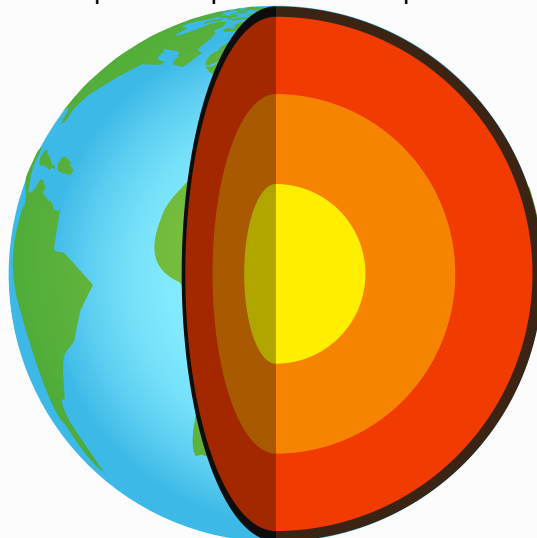


@clauladepaula @albaenclaula

CAPAS DE LA TIERRA



Nombra las principales capas de la Tierra.







@clauladepaula @albaenclaula

ENERGÍA RENOVABLE



Rodea las fuentes de energía renovable.




@clauladepaula @albaenclaula

HISTORIA



Ordena: Presente - Pasado - Futuro



@clauladepaula @albaenclaula

IMPACTO HUMANO



Rodea de **morado** una acción negativa y de **rosa** una positiva para el planeta.



@lauladepaula @albaenlaula

CLIMA VS TIEMPO



Explica en tu libreta cuáles son las diferencias entre "clima" y "tiempo" con tus palabras.

@lauladepaula @albaenlaula

CONTINENTES



Nombra 4 continentes.




@lauladepaula @albaenlaula

¿ESTÁ VIVO?



Clasifica cuáles son seres vivos y explica por qué (mínimo 2 razones).



@lauladepaula @albaenlaula

CLASIFICA



● Ácido ● Neutro ● Básico

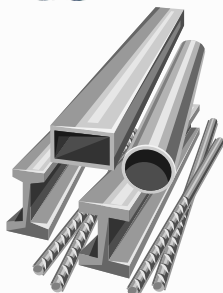
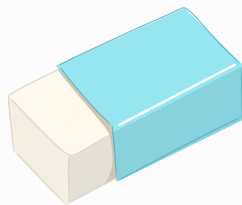


@clauladepaula @albaenlaula

¿CONDUCTOR O NO?



● Conductor ● No conductor



@clauladepaula @albaenlaula

MEZCLAS Y SEPARACIONES



¿Se puede separar? Explica en tu libreta cómo la separarías y qué método usarías.



@clauladepaula @albaenclaula

EXPERIMENTO PLANTAS



Escribe en tu libreta qué ocurrirá con cada una y por qué.




@clauladepaula @albaenclaula

TEMPERATURA Y MATERIA



Explica qué cambia y por qué ocurre.




@clauladepaula @albaenclaula

DETECTIVE DE ENERGÍA



Indica qué tipo de energía usa y en qué se transforma.




@clauladepaula @albaenclaula

LUNA



Nombra y explica por qué la Luna cambia de forma (fases).



@clauladepaula @albaenelaula



RETOS A CONTRARRELOJ

@lauladepaula @albaenlaula

CÁLCULO RELÁMPAGO

EN 2 MINUTOS, RESUELVE EN TU LIBRETA EL MAYOR NÚMERO DE OPERACIONES POSIBLES:

- 3×5
- 71×8
- $167 : 3$
- 412×6
- 74×32
- $4321 + 987$
- $324 + 449$
- $4287 + 1298$
- $652 + 993$
- $8743 - 765$

@lauladepaula @albaenlaula

RELÁMPAGO

EN 3 MINUTOS, RESUELVE EN TU LIBRETA EL MAYOR NÚMERO DE OPERACIONES POSIBLES:

- $43 + 12$
- $89 + 35$
- $98 + 76$
- $23 + 65$
- $97 + 34$
- $16 + 32$
- $324 + 543$
- $329 + 76$
- $951 + 51$
- $984 - 655$
- $873 - 389$
- $659 - 497$
- $432 - 12$
- $76 - 21$
- $98 - 45$
- $91 - 77$
- $642 - 359$
- $321 - 188$

@lauladepaula @albaenlaula

EL INTRUSO

DE ESTAS PALABRAS, ¿CUÁL NO ENCAJA? ¿POR QUÉ?

- PERRO - GATO - MESA - CABALLO
- DOS - NUEVE - BOLI - SIETE
- CAMIÓN - SILLA - TREN - COCHE

@lauladepaula @albaenlaula

FRASE EXPRES

EN 2 MINUTOS, ESCRIBE UNA FRASE LO MÁS LARGA POSIBLE QUE TENGA:

- 1 ADJETIVO, 1 VERBO, 1 SUSTANTIVO.
- 2 VERBOS Y 2 SUSTANTIVOS.
- 1 VERBO Y 3 SUSTANTIVOS.

@clauladepaula @albaenclaula

PALABRAS CON UNA LETRA

TIENES 2 MINUTOS PARA ESCRIBIR EL MÁXIMO NÚMERO DE PALABRAS QUE EMPIECEN POR LA LETRA "M"

@clauladepaula @albaenclaula

PALABRAS CON UNA LETRA

TIENES 2 MINUTOS PARA ESCRIBIR EL MÁXIMO
NÚMERO DE PALABRAS QUE EMPIECEN POR LA
LETRA "S"

@clauladepaula @albaenclaula

PALABRAS CON UNA LETRA

TIENES 2 MINUTOS PARA ESCRIBIR EL MÁXIMO
NÚMERO DE PALABRAS QUE EMPIECEN POR LA
LETRA "T"

@clauladepaula @albaenclaula

PALABRAS CON 2 SÍLABAS

TIENES 2 MINUTOS PARA ESCRIBIR EL MÁXIMO
NÚMERO DE PALABRAS QUE TENGAN 2
SÍLABAS.

@lauladepaula @albaenlaula

PALABRAS CON 3 SÍLABAS

TIENES 2 MINUTOS PARA ESCRIBIR EL MÁXIMO
NÚMERO DE PALABRAS QUE TENGAN 3
SÍLABAS.

@lauladepaula @albaenlaula

100 EN UN MINUTO

LLEGA A 100 USANDO SUMAS Y RESTAS DE DIFERENTES FORMAS.

POR EJEMPLO, $50 + 50$ O $20 + 30 + 50$

ESCRIBE TODAS LAS FORMAS POSIBLES QUE SE TE OCURRAN EN 2 MINUTOS.

@lauladepaula @albaenlaura

EL NÚMERO MÁS GRANDE

EN 1 MINUTO, FORMA EL NÚMERO MÁS GRANDE POSIBLE CON LAS SIGUIENTES

CIFRAS:

3 - 7 - 9 - 1

PUEDES HACER LAS OPERACIONES QUE QUIERAS

@lauladepaula @albaenlaura

DIBUJO EXPRÉS

TIENES 1 MINUTO PARA DIBUJAR EN TU
LIBRETA:

- UN TRIÁNGULO RECTÁNGULO
- UN CUADRADO
- UN ROMBO
- UN CÍRCULO
- UN TRAPECIO

@clauladepaula @albaenclaula

CUENTA HACIA ATRÁS

EMPIEZA DESDE 100, HASTA LLEGAR AL 0.
TIENES 2 MINUTOS PARA CADA: APUNTA
HASTA QUÉ NÚMERO HAS LLEGADO.

- DE 1 EN 1.
- DE 2 EN 2.
- DE 5 EN 5.
- DE 7 EN 7.

@clauladepaula @albaenclaula