




REPASA EL NÚMERO 1



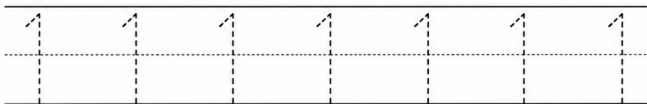
1. COLOREA EL NÚMERO 1.



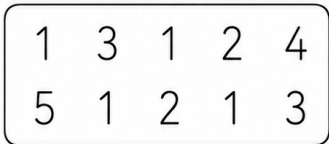
2. CUENTA Y COLOREA 1 ELEMENTO.



3. REPASA EL NÚMERO 1.



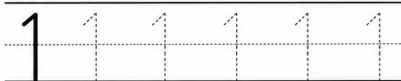
4. BUSCA Y COLOREA TODOS LOS NÚMEROS 1.



5. DIBUJA 1 OBJETO DE VERANO.



6. ESCRIBE EL NÚMERO 1.






REPASA EL NÚMERO 2

2

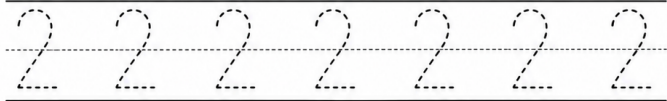
1. COLOREA EL NÚMERO 2.



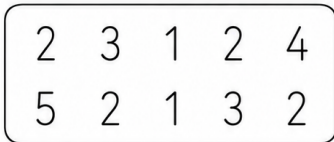
2. CUENTA Y COLOREA 2 ELEMENTOS.




3. REPASA EL NÚMERO 2.




4. BUSCA Y COLOREA TODOS LOS NÚMEROS 2.



5. DIBUJA 2 OBJETOS DE VERANO.



6. ESCRIBE EL NÚMERO 2.





REPASA EL NÚMERO 3



1. COLOREA EL NÚMERO 3.



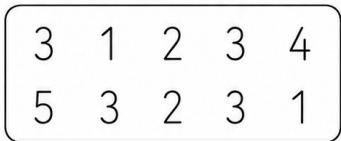
2. CUENTA Y COLOREA 3 ELEMENTOS.




3. REPASA EL NÚMERO 3.



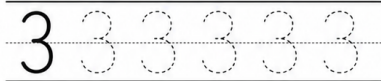
4. BUSCA Y COLOREA TODOS LOS NÚMEROS 3.



5. DIBUJA 3 OBJETOS DE VERANO.



6. ESCRIBE EL NÚMERO 3.





REPASA EL NÚMERO 4

4

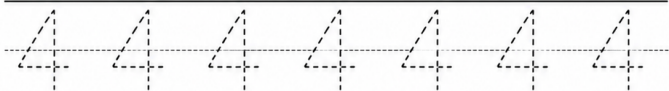
1. COLOREA EL NÚMERO 4.



2. CUENTA Y COLOREA 4 ELEMENTOS.



3. REPASA EL NÚMERO 4.



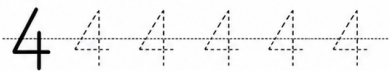
4. BUSCA Y COLOREA TODOS LOS NÚMEROS 4.

4 2 4 1 3 4
2 4 5 4 1 2

5. DIBUJA 4 OBJETOS DE VERANO.



6. ESCRIBE EL NÚMERO 4.





REPASA EL NÚMERO 5



1. COLOREA EL NÚMERO 5.



2. CUENTA Y COLOREA 5 ELEMENTOS.


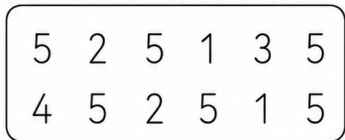


3. REPASA EL NÚMERO 5.



4. BUSCA Y COLOREA TODOS LOS NÚMEROS 5.

5. DIBUJA 5 OBJETOS DE VERANO.



6. ESCRIBE EL NÚMERO 5.





REPASA EL NÚMERO 6



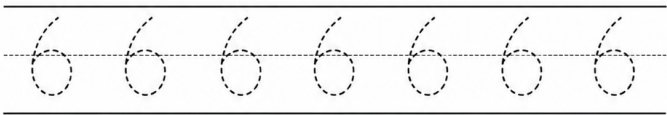
1. COLOREA EL NÚMERO 6.



2. CUENTA Y COLOREA 6 ELEMENTOS.




3. REPASA EL NÚMERO 6.



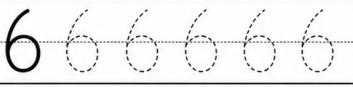
4. BUSCA Y COLOREA TODOS LOS NÚMEROS 6.

6 2 6 1 3 6
4 6 2 5 6 1

5. DIBUJA 6 OBJETOS DE VERANO.



6. ESCRIBE EL NÚMERO 6.






REPASA EL NÚMERO 7



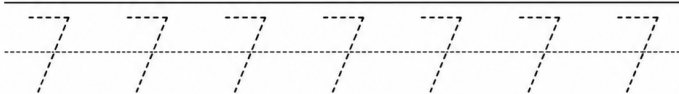
1. COLOREA EL NÚMERO 7.



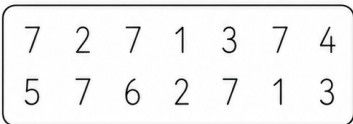
2. CUENTA Y COLOREA 7 ELEMENTOS.



3. REPASA EL NÚMERO 7.



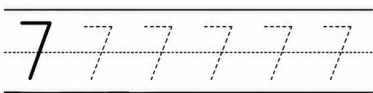
4. BUSCA Y COLOREA TODOS LOS NÚMEROS 7.



5. DIBUJA 7 OBJETOS DE VERANO.



6. ESCRIBE EL NÚMERO 7.







REPASA EL NÚMERO 8



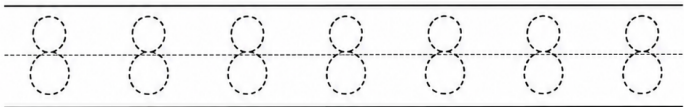
1. COLOREA EL NÚMERO 8.



2. CUENTA Y COLOREA 8 ELEMENTOS.




3. REPASA EL NÚMERO 8.



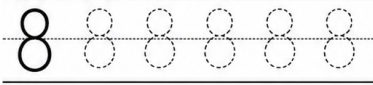
4. BUSCA Y COLOREA TODOS LOS NÚMEROS 8.

8 2 8 1 3 8 4 8
5 8 6 2 8 7 1 8

5. DIBUJA 8 OBJETOS DE VERANO.



6. ESCRIBE EL NÚMERO 8.






REPASA EL NÚMERO 9

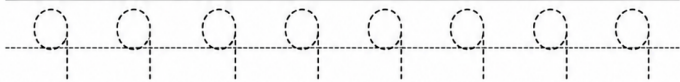


1. COLOREA EL NÚMERO 9.

2. CUENTA Y COLOREA 9 ELEMENTOS.



3. REPASA EL NÚMERO 9.



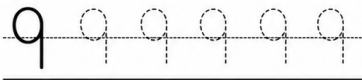
4. BUSCA Y COLOREA TODOS LOS NÚMEROS 9.

5. DIBUJA 9 OBJETOS DE VERANO.

9 2 9 1 3 9 4 9
5 9 6 2 9 7 1 9



6. ESCRIBE EL NÚMERO 9.





REPASA LOS NÚMEROS DEL 1 AL 10



Repasa cada número varias veces.

1



1 1 1 1 1 1 1

2



2 2 2 2 2 2 2

3



3 3 3 3 3 3 3

4



4 4 4 4 4 4 4

5



5 5 5 5 5 5 5

6



6 6 6 6 6 6 6

7



7 7 7 7 7 7 7

8



8 8 8 8 8 8 8

9



9 9 9 9 9 9 9

10



10 10 10 10 10 10 10



¡LO ESTÁS HACIENDO GENIAL!

Colorea cuando termines.





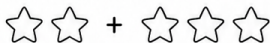
SUMAS



Resuelve estas sumas.
Escribe el resultado en el recuadro.



1 $2 + 3 =$



2 $4 + 1 =$



3 $3 + 2 =$



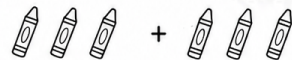
4 $1 + 5 =$



5 $2 + 4 =$



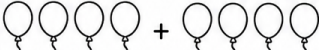
6 $3 + 3 =$




7 $5 + 2 =$



8 $4 + 4 =$



9 $6 + 3 =$



10 $7 + 2 =$



¡Tú puedes! 





SUMAS



Resuelve estas sumas. Escribe el resultado en el recuadro.

$$\begin{array}{r} 2 \\ + 3 \\ \hline \end{array}$$

$$\begin{array}{r} 4 \\ + 1 \\ \hline \end{array}$$

$$\begin{array}{r} 5 \\ + 2 \\ \hline \end{array}$$

$$\begin{array}{r} 3 \\ + 4 \\ \hline \end{array}$$

$$\begin{array}{r} 6 \\ + 1 \\ \hline \end{array}$$

$$\begin{array}{r} 6 \\ + 2 \\ \hline \end{array}$$

$$\begin{array}{r} 3 \\ + 3 \\ \hline \end{array}$$

$$\begin{array}{r} 4 \\ + 4 \\ \hline \end{array}$$

$$\begin{array}{r} 5 \\ + 3 \\ \hline \end{array}$$

$$\begin{array}{r} 7 \\ + 2 \\ \hline \end{array}$$

$$\begin{array}{r} 6 \\ + 3 \\ \hline \end{array}$$

$$\begin{array}{r} 8 \\ + 1 \\ \hline \end{array}$$

$$\begin{array}{r} 2 \\ + 6 \\ \hline \end{array}$$

$$\begin{array}{r} 3 \\ + 5 \\ \hline \end{array}$$

$$\begin{array}{r} 1 \\ + 7 \\ \hline \end{array}$$

$$\begin{array}{r} 9 \\ + 1 \\ \hline \end{array}$$

$$\begin{array}{r} 4 \\ + 6 \\ \hline \end{array}$$

$$\begin{array}{r} 5 \\ + 4 \\ \hline \end{array}$$

$$\begin{array}{r} 7 \\ + 3 \\ \hline \end{array}$$

$$\begin{array}{r} 8 \\ + 2 \\ \hline \end{array}$$



¡Sigue así, lo estás haciendo genial!





SUMAS



RESUELVE ESTAS SUMAS. ESCRIBE EL RESULTADO EN EL RECUADRO.

$$\begin{array}{r} 7 \\ + 2 \\ \hline \end{array}$$

$$\begin{array}{r} 2 \\ + 5 \\ \hline \end{array}$$

$$\begin{array}{r} 6 \\ + 3 \\ \hline \end{array}$$

$$\begin{array}{r} 4 \\ + 4 \\ \hline \end{array}$$

$$\begin{array}{r} 8 \\ + 1 \\ \hline \end{array}$$

$$\begin{array}{r} 3 \\ + 6 \\ \hline \end{array}$$

$$\begin{array}{r} 5 \\ + 2 \\ \hline \end{array}$$

$$\begin{array}{r} 9 \\ + 0 \\ \hline \end{array}$$

$$\begin{array}{r} 1 \\ + 8 \\ \hline \end{array}$$

$$\begin{array}{r} 7 \\ + 3 \\ \hline \end{array}$$

$$\begin{array}{r} 4 \\ + 5 \\ \hline \end{array}$$

$$\begin{array}{r} 6 \\ + 1 \\ \hline \end{array}$$

$$\begin{array}{r} 2 \\ + 7 \\ \hline \end{array}$$

$$\begin{array}{r} 3 \\ + 4 \\ \hline \end{array}$$

$$\begin{array}{r} 9 \\ + 1 \\ \hline \end{array}$$

$$\begin{array}{r} 8 \\ + 2 \\ \hline \end{array}$$

$$\begin{array}{r} 5 \\ + 3 \\ \hline \end{array}$$

$$\begin{array}{r} 6 \\ + 4 \\ \hline \end{array}$$

$$\begin{array}{r} 7 \\ + 1 \\ \hline \end{array}$$

$$\begin{array}{r} 2 \\ + 8 \\ \hline \end{array}$$

¡SIGUE ASÍ, LO ESTÁS HACIENDO GENIAL!





SUMAS



RESUELVE ESTAS SUMAS. ESCRIBE EL RESULTADO EN EL RECUADRO.

$$\begin{array}{r} 10 \\ + 3 \\ \hline \end{array}$$

$$\begin{array}{r} 12 \\ + 5 \\ \hline \end{array}$$

$$\begin{array}{r} 15 \\ + 2 \\ \hline \end{array}$$

$$\begin{array}{r} 11 \\ + 7 \\ \hline \end{array}$$

$$\begin{array}{r} 13 \\ + 4 \\ \hline \end{array}$$

$$\begin{array}{r} 14 \\ + 6 \\ \hline \end{array}$$

$$\begin{array}{r} 16 \\ + 1 \\ \hline \end{array}$$

$$\begin{array}{r} 17 \\ + 3 \\ \hline \end{array}$$

$$\begin{array}{r} 18 \\ + 2 \\ \hline \end{array}$$

$$\begin{array}{r} 19 \\ + 0 \\ \hline \end{array}$$

$$\begin{array}{r} 20 \\ + 1 \\ \hline \end{array}$$

$$\begin{array}{r} 12 \\ + 8 \\ \hline \end{array}$$

$$\begin{array}{r} 15 \\ + 5 \\ \hline \end{array}$$

$$\begin{array}{r} 17 \\ + 6 \\ \hline \end{array}$$

$$\begin{array}{r} 14 \\ + 3 \\ \hline \end{array}$$

$$\begin{array}{r} 11 \\ + 9 \\ \hline \end{array}$$

$$\begin{array}{r} 13 \\ + 7 \\ \hline \end{array}$$

$$\begin{array}{r} 16 \\ + 4 \\ \hline \end{array}$$

$$\begin{array}{r} 18 \\ + 5 \\ \hline \end{array}$$

$$\begin{array}{r} 20 \\ + 2 \\ \hline \end{array}$$



¡SIGUE ASÍ, LO ESTÁS HACIENDO GENIAL!





SUMAS



RESUELVE ESTAS SUMAS. ESCRIBE EL RESULTADO EN EL RECUADRO.

$$\begin{array}{r} 10 \\ + 3 \\ \hline \end{array}$$

$$\begin{array}{r} 12 \\ + 5 \\ \hline \end{array}$$

$$\begin{array}{r} 15 \\ + 2 \\ \hline \end{array}$$

$$\begin{array}{r} 11 \\ + 7 \\ \hline \end{array}$$

$$\begin{array}{r} 13 \\ + 4 \\ \hline \end{array}$$

$$\begin{array}{r} 14 \\ + 6 \\ \hline \end{array}$$

$$\begin{array}{r} 16 \\ + 1 \\ \hline \end{array}$$

$$\begin{array}{r} 17 \\ + 3 \\ \hline \end{array}$$

$$\begin{array}{r} 18 \\ + 2 \\ \hline \end{array}$$

$$\begin{array}{r} 19 \\ + 0 \\ \hline \end{array}$$

$$\begin{array}{r} 20 \\ + 1 \\ \hline \end{array}$$

$$\begin{array}{r} 12 \\ + 8 \\ \hline \end{array}$$

$$\begin{array}{r} 15 \\ + 5 \\ \hline \end{array}$$

$$\begin{array}{r} 17 \\ + 6 \\ \hline \end{array}$$

$$\begin{array}{r} 14 \\ + 3 \\ \hline \end{array}$$

$$\begin{array}{r} 11 \\ + 9 \\ \hline \end{array}$$

$$\begin{array}{r} 13 \\ + 7 \\ \hline \end{array}$$

$$\begin{array}{r} 16 \\ + 4 \\ \hline \end{array}$$

$$\begin{array}{r} 18 \\ + 5 \\ \hline \end{array}$$

$$\begin{array}{r} 20 \\ + 2 \\ \hline \end{array}$$

PRIMER SUMANDO:
EN LA CABEZA



12

SEGUNDO SUMANDO:
EN LOS DEDOS





SUMAS



RESUELVE ESTAS SUMAS. ESCRIBE EL RESULTADO EN EL RECUADRO.

$$\begin{array}{r} 11 \\ + 4 \\ \hline \end{array}$$

$$\begin{array}{r} 13 \\ + 6 \\ \hline \end{array}$$

$$\begin{array}{r} 16 \\ + 2 \\ \hline \end{array}$$

$$\begin{array}{r} 14 \\ + 5 \\ \hline \end{array}$$

$$\begin{array}{r} 12 \\ + 7 \\ \hline \end{array}$$

$$\begin{array}{r} 18 \\ + 1 \\ \hline \end{array}$$

$$\begin{array}{r} 15 \\ + 4 \\ \hline \end{array}$$

$$\begin{array}{r} 17 \\ + 3 \\ \hline \end{array}$$

$$\begin{array}{r} 19 \\ + 2 \\ \hline \end{array}$$

$$\begin{array}{r} 16 \\ + 8 \\ \hline \end{array}$$

$$\begin{array}{r} 20 \\ + 5 \\ \hline \end{array}$$

$$\begin{array}{r} 13 \\ + 9 \\ \hline \end{array}$$

$$\begin{array}{r} 18 \\ + 4 \\ \hline \end{array}$$

$$\begin{array}{r} 12 \\ + 6 \\ \hline \end{array}$$

$$\begin{array}{r} 15 \\ + 7 \\ \hline \end{array}$$

$$\begin{array}{r} 14 \\ + 9 \\ \hline \end{array}$$

$$\begin{array}{r} 17 \\ + 5 \\ \hline \end{array}$$

$$\begin{array}{r} 19 \\ + 3 \\ \hline \end{array}$$

$$\begin{array}{r} 11 \\ + 8 \\ \hline \end{array}$$

$$\begin{array}{r} 20 \\ + 0 \\ \hline \end{array}$$

PRIMER SUMANDO:
EN LA CABEZA

SEGUNDO SUMANDO:
EN LOS DEDOS





RESTAS



RESUELVE ESTAS RESTAS. ESCRIBE EL RESULTADO EN EL RECUADRO.

$$\begin{array}{r} 7 \\ - 2 \\ \hline \end{array}$$

$$\begin{array}{r} 9 \\ - 3 \\ \hline \end{array}$$

$$\begin{array}{r} 6 \\ - 1 \\ \hline \end{array}$$

$$\begin{array}{r} 8 \\ - 4 \\ \hline \end{array}$$

$$\begin{array}{r} 5 \\ - 3 \\ \hline \end{array}$$

$$\begin{array}{r} 10 \\ - 2 \\ \hline \end{array}$$

$$\begin{array}{r} 7 \\ - 5 \\ \hline \end{array}$$

$$\begin{array}{r} 9 \\ - 1 \\ \hline \end{array}$$

$$\begin{array}{r} 6 \\ - 4 \\ \hline \end{array}$$

$$\begin{array}{r} 8 \\ - 2 \\ \hline \end{array}$$

$$\begin{array}{r} 10 \\ - 3 \\ \hline \end{array}$$

$$\begin{array}{r} 9 \\ - 2 \\ \hline \end{array}$$

$$\begin{array}{r} 7 \\ - 1 \\ \hline \end{array}$$

$$\begin{array}{r} 5 \\ - 2 \\ \hline \end{array}$$

$$\begin{array}{r} 6 \\ - 3 \\ \hline \end{array}$$

$$\begin{array}{r} 8 \\ - 3 \\ \hline \end{array}$$

$$\begin{array}{r} 10 \\ - 4 \\ \hline \end{array}$$

$$\begin{array}{r} 9 \\ - 6 \\ \hline \end{array}$$

$$\begin{array}{r} 7 \\ - 2 \\ \hline \end{array}$$

$$\begin{array}{r} 5 \\ - 1 \\ \hline \end{array}$$

¡SIGUE ASÍ, LO ESTÁS HACIENDO GENIAL!





RESTAS



RESUELVE ESTAS RESTAS. ESCRIBE EL RESULTADO EN EL RECUADRO.

$$\begin{array}{r} 8 \\ - 3 \\ \hline \end{array}$$

$$\begin{array}{r} 9 \\ - 4 \\ \hline \end{array}$$

$$\begin{array}{r} 7 \\ - 2 \\ \hline \end{array}$$

$$\begin{array}{r} 10 \\ - 5 \\ \hline \end{array}$$

$$\begin{array}{r} 6 \\ - 1 \\ \hline \end{array}$$

$$\begin{array}{r} 9 \\ - 5 \\ \hline \end{array}$$

$$\begin{array}{r} 8 \\ - 2 \\ \hline \end{array}$$

$$\begin{array}{r} 10 \\ - 3 \\ \hline \end{array}$$

$$\begin{array}{r} 7 \\ - 4 \\ \hline \end{array}$$

$$\begin{array}{r} 9 \\ - 1 \\ \hline \end{array}$$

$$\begin{array}{r} 6 \\ - 2 \\ \hline \end{array}$$

$$\begin{array}{r} 8 \\ - 5 \\ \hline \end{array}$$

$$\begin{array}{r} 10 \\ - 6 \\ \hline \end{array}$$

$$\begin{array}{r} 7 \\ - 3 \\ \hline \end{array}$$

$$\begin{array}{r} 5 \\ - 2 \\ \hline \end{array}$$

$$\begin{array}{r} 9 \\ - 6 \\ \hline \end{array}$$

$$\begin{array}{r} 10 \\ - 7 \\ \hline \end{array}$$

$$\begin{array}{r} 8 \\ - 1 \\ \hline \end{array}$$

$$\begin{array}{r} 6 \\ - 3 \\ \hline \end{array}$$

$$\begin{array}{r} 7 \\ - 5 \\ \hline \end{array}$$

¡SIGUE ASÍ, LO ESTÁS HACIENDO GENIAL!

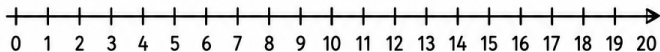




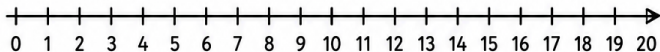
SUMAS



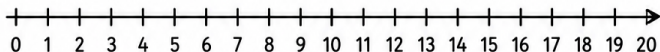
RESUELVE ESTAS SUMAS EN LA RECTA NUMÉRICA.
SIGUE LOS SALTOS Y ESCRIBE EL RESULTADO EN EL RECUADRO.



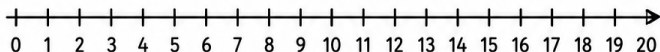
$$10 + 5 = \square$$



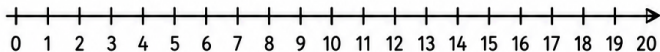
$$12 + 3 = \square$$



$$14 + 4 = \square$$



$$11 + 6 = \square$$



$$13 + 2 = \square$$



¡SIGUE ASÍ, LO ESTÁS HACIENDO GENIAL!

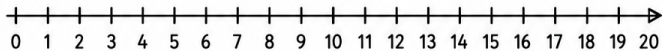




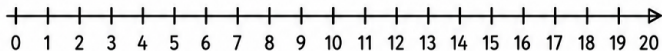
SUMAS



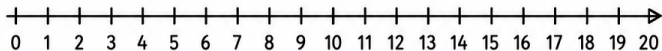
RESUELVE ESTAS SUMAS EN LA RECTA NUMÉRICA.
SIGUE LOS SALTOS Y ESCRIBE EL RESULTADO EN EL RECUADRO.



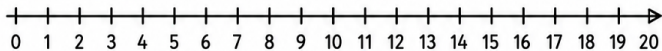
$$8 + 7 = \square$$



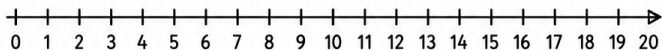
$$15 + 3 = \square$$



$$6 + 9 = \square$$



$$17 + 2 = \square$$



$$9 + 8 = \square$$

¡SIGUE ASÍ, LO ESTÁS HACIENDO GENIAL!



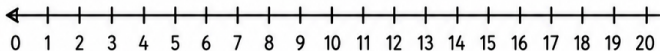


RESTAS

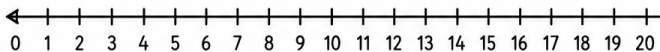


RESUELVE ESTAS RESTAS EN LA RECTA NUMÉRICA.

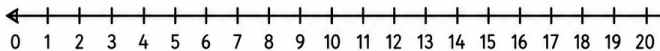
SIGUE LOS SALTOS HACIA ATRÁS Y ESCRIBE EL RESULTADO EN EL RECUADRO.



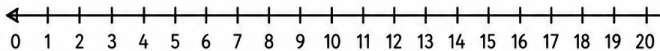
$$15 - 4 = \square$$



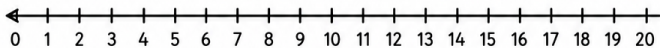
$$12 - 5 = \square$$



$$18 - 7 = \square$$



$$14 - 6 = \square$$



$$10 - 3 = \square$$

¡SIGUE ASÍ, LO ESTÁS HACIENDO GENIAL!



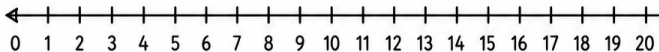


RESTAS

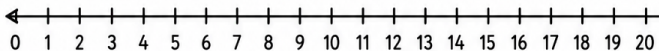


RESUELVE ESTAS RESTAS EN LA RECTA NUMÉRICA.

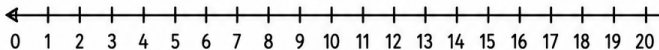
SIGUE LOS SALTOS HACIA ATRÁS Y ESCRIBE EL RESULTADO EN EL RECUADRO.



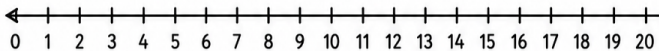
$$17 - 6 = \square$$



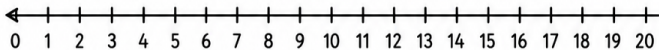
$$13 - 4 = \square$$



$$19 - 8 = \square$$



$$16 - 7 = \square$$



$$11 - 5 = \square$$



¡SIGUE ASÍ, LO ESTÁS HACIENDO GENIAL!





VECINOS DE LOS NÚMEROS



♥ · ANTERIOR Y POSTERIOR · ♥

ANTERIOR	NÚMERO	POSTERIOR
<input type="text"/>	3	<input type="text"/>
<input type="text"/>	8	<input type="text"/>
<input type="text"/>	12	<input type="text"/>
<input type="text"/>	6	<input type="text"/>
<input type="text"/>	15	<input type="text"/>
<input type="text"/>	1	<input type="text"/>
<input type="text"/>	10	<input type="text"/>
<input type="text"/>	18	<input type="text"/>
<input type="text"/>	7	<input type="text"/>
<input type="text"/>	14	<input type="text"/>

ANTERIOR	NÚMERO	POSTERIOR
<input type="text"/>	2	<input type="text"/>
<input type="text"/>	9	<input type="text"/>
<input type="text"/>	11	<input type="text"/>
<input type="text"/>	5	<input type="text"/>
<input type="text"/>	17	<input type="text"/>
<input type="text"/>	0	<input type="text"/>
<input type="text"/>	13	<input type="text"/>
<input type="text"/>	19	<input type="text"/>
<input type="text"/>	4	<input type="text"/>
<input type="text"/>	16	<input type="text"/>





VECINOS DE LOS NÚMEROS



♡ ANTERIOR Y POSTERIOR ♡

ANTERIOR	NÚMERO	POSTERIOR
<input type="text"/>	20	<input type="text"/>
<input type="text"/>	23	<input type="text"/>
<input type="text"/>	26	<input type="text"/>
<input type="text"/>	29	<input type="text"/>
<input type="text"/>	32	<input type="text"/>
<input type="text"/>	35	<input type="text"/>
<input type="text"/>	38	<input type="text"/>
<input type="text"/>	41	<input type="text"/>
<input type="text"/>	44	<input type="text"/>
<input type="text"/>	47	<input type="text"/>

ANTERIOR	NÚMERO	POSTERIOR
<input type="text"/>	21	<input type="text"/>
<input type="text"/>	24	<input type="text"/>
<input type="text"/>	27	<input type="text"/>
<input type="text"/>	30	<input type="text"/>
<input type="text"/>	33	<input type="text"/>
<input type="text"/>	36	<input type="text"/>
<input type="text"/>	39	<input type="text"/>
<input type="text"/>	42	<input type="text"/>
<input type="text"/>	45	<input type="text"/>
<input type="text"/>	48	<input type="text"/>

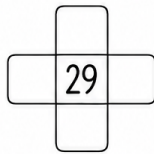
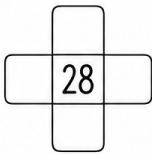

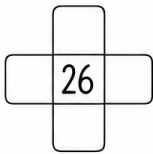
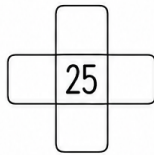
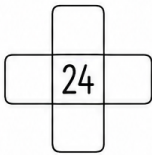
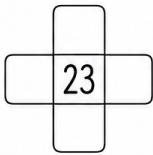
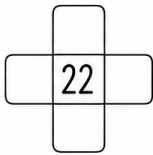
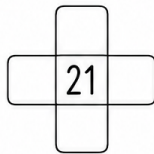
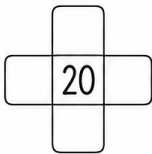
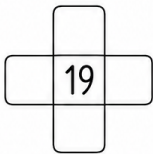
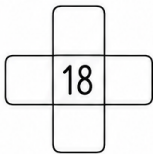
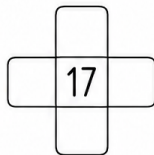
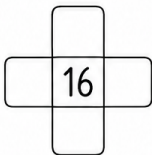



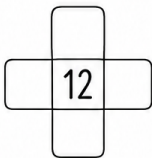






CRUCE DE NÚMEROS



Completa los números que faltan en cada cruce.





CRUCES DE NÚMEROS

COMPLETA LOS NÚMEROS QUE FALTAN EN CADA CRUZ.



	10		

	11		

	12		

	13		

	14		

	15		

	16		

	17		

	18		

	19		

	20		

	21		

	22		

	23		

	24		

	25		

	26		

	27		

	28		



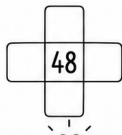


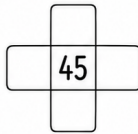
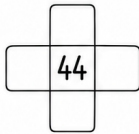
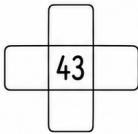
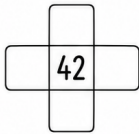
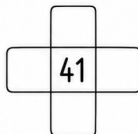
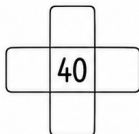
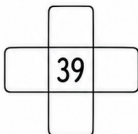
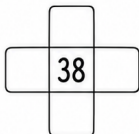
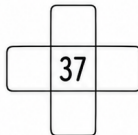
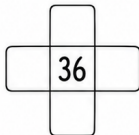

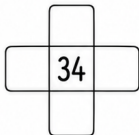
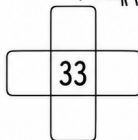



	29		





CRUCES DE NÚMEROS

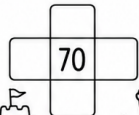
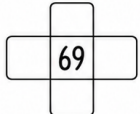
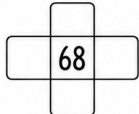
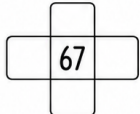
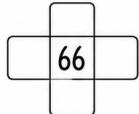
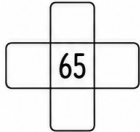
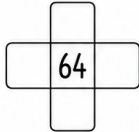
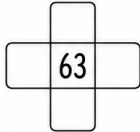
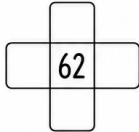
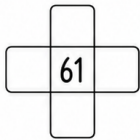
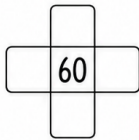



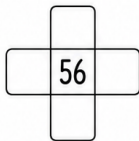






COMPLETA LOS NÚMEROS QUE FALTAN EN CADA CRUZ.





CRUCES DE NÚMEROS

COMPLETA LOS NÚMEROS QUE FALTAN EN CADA CRUZ.





CRUCES DE NÚMEROS

COMPLETA LOS NÚMEROS QUE FALTAN EN CADA CRUZ.



	80	

	81	

	84	

	87	

	90	

	93	

	95	

	97	

	99	

	83	

	88	

	100	



AMIGOS DEL 5

5

RELLENA LAS CASILLAS CON LA COMBINACIÓN
DE NÚMEROS QUE SUMEN 5.



AMIGOS DEL 6



6	



RELLENA LAS CASILLAS CON LA COMBINACIÓN
DE NÚMEROS QUE SUMEN 6.



AMIGOS DEL 7

7

RELLENA LAS CASILLAS CON LA COMBINACIÓN
DE NÚMEROS QUE SUMEN 7.



