







# LA PANDILLA DEL 2

TODOS LOS NÚMEROS DE ESTA PANDILLA TERMINAN EN 2.






PISTA: TODOS LOS NÚMEROS TERMINAN EN 2.



# LA PANDILLA DEL 3



TODOS LOS NÚMEROS DE ESTA PANDILLA TERMINAN EN 3.







PISTA: TODOS LOS NÚMEROS TERMINAN EN 3.



# LA PANDILLA DEL 4

TODOS LOS NÚMEROS DE ESTA PANDILLA TERMINAN EN 4.



PISTA: TODOS LOS NÚMEROS TERMINAN EN 4.





# LA PANDILLA DEL 6



TODOS LOS NÚMEROS DE ESTA PANDILLA TERMINAN EN 6.






PISTA: TODOS LOS NÚMEROS TERMINAN EN 6.



# LA PANDILLA DEL 7

TODOS LOS NÚMEROS DE ESTA PANDILLA TERMINAN EN 7.






PISTA: TODOS LOS NÚMEROS TERMINAN EN 7.



# LA PANDILLA DEL 8

TODOS LOS NÚMEROS DE ESTA PANDILLA TERMINAN EN 8.






PISTA: TODOS LOS NÚMEROS TERMINAN EN 8.



# LA PANDILLA DEL 9

TODOS LOS NÚMEROS DE ESTA PANDILLA TERMINAN EN 9.







PISTA: TODOS LOS NÚMEROS TERMINAN EN 9.



# LA PANDILLA DEL 0

TODOS LOS NÚMEROS DE ESTA PANDILLA TERMINAN EN 0.



PISTA: TODOS LOS NÚMEROS TERMINAN EN 0.

NOMBRE: \_\_\_\_\_

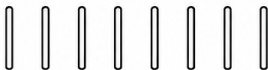
FECHA: \_\_\_\_\_



# ¿QUÉ NÚMERO REPRESENTAN LOS PALILLOS?



CUENTA LAS DECENAS Y LAS UNIDADES Y ESCRIBE EL NÚMERO.



NOMBRE: \_\_\_\_\_




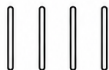
FECHA: \_\_\_\_\_



# ¿QUÉ NÚMERO REPRESENTAN LOS PALILLOS?



CUENTA LAS DECENAS Y LAS UNIDADES Y ESCRIBE EL NÚMERO.






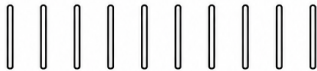

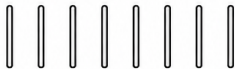

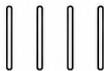
NOMBRE: \_\_\_\_\_

FECHA: \_\_\_\_\_



# ¿QUÉ NÚMERO REPRESENTAN LOS PALILLOS?

CUENTA LAS DECENAS Y LAS UNIDADES Y ESCRIBE EL NÚMERO.



NOMBRE: \_\_\_\_\_

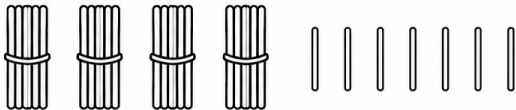
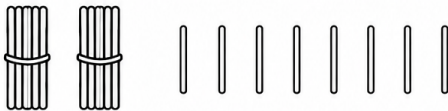
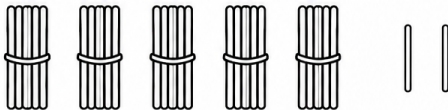
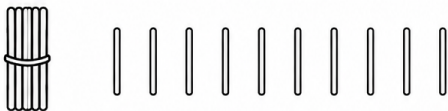
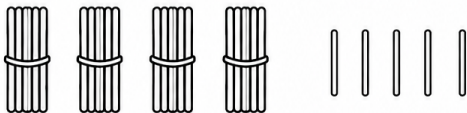
FECHA: \_\_\_\_\_



# ¿QUÉ NÚMERO REPRESENTAN LOS PALILLOS?



CUENTA LAS DECENAS Y LAS UNIDADES Y ESCRIBE EL NÚMERO.



NOMBRE: \_\_\_\_\_


FECHA: \_\_\_\_\_

# MAYOR, MENOR O IGUAL

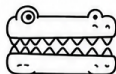
ESCRIBE EL SÍMBOLO CORRECTO:



>



<



=

MAYOR QUE

MENOR QUE

IGUAL QUE

14

18

36

43

25

21

28

22

30

30

11

15

42

39

47

47

17

19

32

29

50

50

40

45



¡CONTINÚA ASÍ! ¡LO ESTÁS HACIENDO GENIAL! 😊

NOMBRE: \_\_\_\_\_


FECHA: \_\_\_\_\_



# MAYOR, MENOR O IGUAL



ESCRIBE EL SÍMBOLO CORRECTO: > < =



MAYOR QUE

>



MENOR QUE

<



IGUAL QUE

=

3

7

6

4

12

9

13

15

5

5

1

2

14

10

10

10

8

11

9

7

15

15

11

14



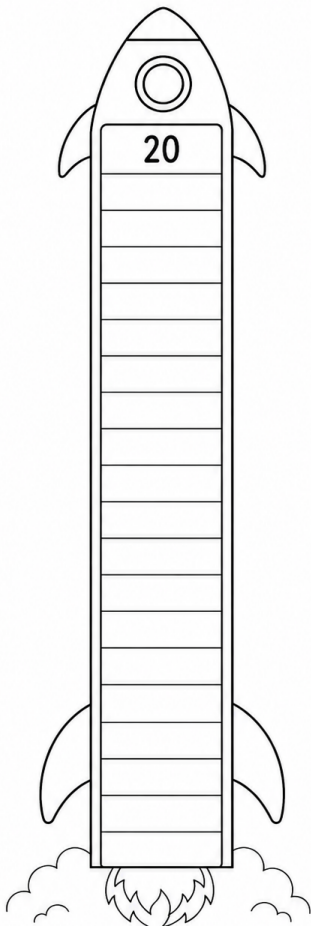
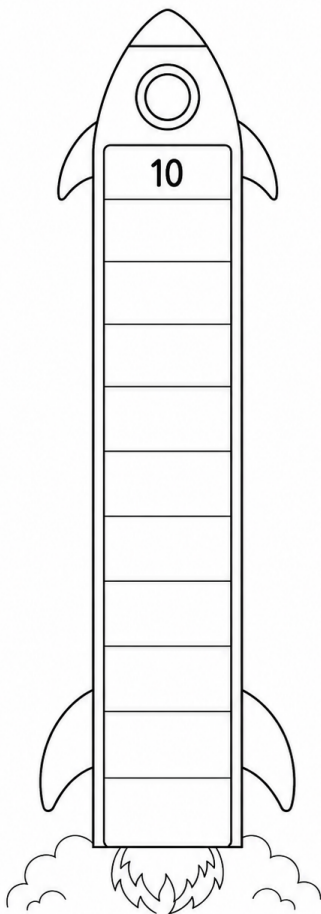
¡CONTINÚA ASÍ! ¡LO ESTÁS HACIENDO GENIAL! 😊

# LA CUENTA ATRÁS DEL COHETE

RETROCUENTA Y ESCRIBE LOS NÚMEROS QUE FALTAN.

RETROCUENTA DEL 10 AL 0





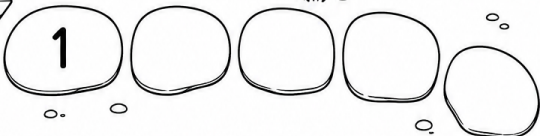
RETROCUENTA DEL 20 AL 0





# RECORRIDO +1

SUMA 1 Y ESCRIBE EL NÚMERO QUE CORRESPONDE.





# RECORRIDO +1



AVANZA DE UNO EN UNO Y ESCRIBE EL NÚMERO QUE CORRESPONDE EN CADA PIEDRA.


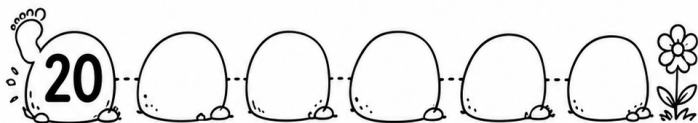
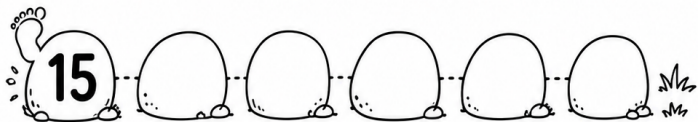
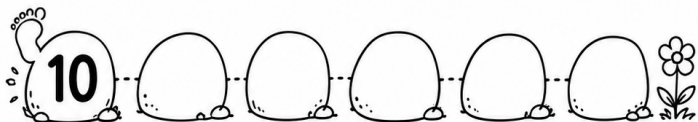
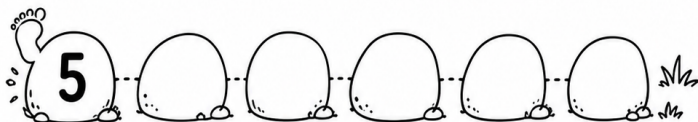
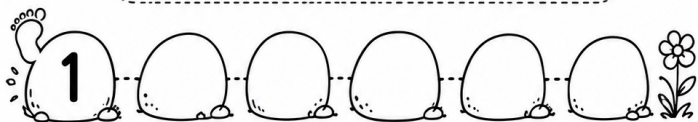
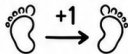


RECUERDA:

3



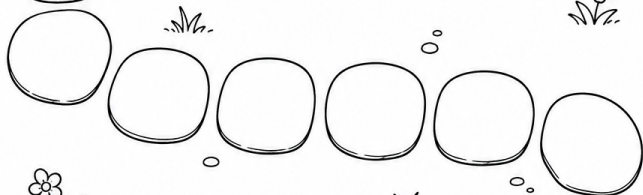

+ 1 =

4



# RECORRIDO +2

SUMA 2 Y ESCRIBE EL NÚMERO QUE CORRESPONDE.



# RECORRIDO +5

SUMA 5 Y ESCRIBE EL NÚMERO QUE CORRESPONDE.



5



# RECORRIDO +10

SUMA 10 Y ESCRIBE EL NÚMERO QUE CORRESPONDE.

